

2026年度 入学試験問題

一般入試前期  
〔3教科型・2教科型〕

2月1日

第2限

地 歴・理 科

(日本史探究・世界史探究)

(生物基礎・化学基礎・物理基礎)

注意事項

- 1 試験開始の合図があるまで、この問題冊子を開いてはいけない。
- 2 科目、ページおよび解答番号は、下表のとおりである。  
必ず出願時に申告した科目を解答すること。

科目	ページ	解答番号
日本史探究	日―1～日―15	1～50
世界史探究	世―1～世―18	1～50
生物基礎	生―1～生―21	1～34
化学基礎	化―1～化―9	1～35
物理基礎	物―1～物―5	1～40

- 3 解答用紙には、受験番号、受験科目および氏名を正しく記入・マークすること。
- 4 解答は解答用紙の解答欄にマークすること。
- 5 試験中にページの脱落等に気付いた場合は、手を挙げて監督者に知らせること。  
解答用紙の汚れ等に気付いた場合も同様である。
- 6 問題冊子は試験終了後、持ち帰ること。

# 日本史探究

I 次の史料A～Cを読み、後の問いに答えよ。

## 史料A

コノ(ア)位ノ御時、……延久ノ記録所トテハジメテヨカレタリケルハ、諸国七道ノ所領ノ宣旨・官符モナクテ公田ヲカスムル事、一天四海ノ巨害ナリトキコシメシツメテアリケルハ、スナハチ宇治殿ノ時、一ノ所ノ御領御領トノミ云テ、  
庄園諸国ニミチテ受領<sup>(1)</sup>ノツトメタヘガタシナド云ヲ、キコシメシモチタリケル<sup>(2)</sup>ニコソ。……

問 1 空欄アに入る天皇として最も適当なものを、次の①～④のうちから一つ選べ。

1

- ① 醍醐                      ② 後醍醐                      ③ 三条                      ④ 後三条

問 2 下線部(1)に当たる人物として最も適当なものを、次の①～④のうちから一つ選べ。

2

- ① 藤原道長                      ② 藤原頼通                      ③ 藤原良房                      ④ 藤原実頼

問 3 下線部(2)について述べた文として最も適当なものを、次の①～④のうちから一つ選べ。

3

- ① 領家から派遣された最上級の荘官である。  
② 地方の国造から任命された地方官である。  
③ 幕府が任命した荘園の管理者である。  
④ 任国に赴任する最上席の国司である。





問 1 空欄アに入るものとして最も適当なものを、次の①～④のうちから一つ選べ。

11

- ① 中新世            ② 完新世            ③ 更新世            ④ 鮮新世

問 2 下線部(1)の自然環境について述べた文として最も適当なものを、次の①～④のうちから一つ選べ。

12

- ① オオツノジカなどの大型の動物が多くなった。  
② クリ・ドングリ類が減少し、動物性食料の重要性が高まった。  
③ 西日本には針葉樹林が広がった。  
④ 東日本には落葉広葉樹林が広がった。

問 3 下線部(2)について述べた文として最も適当なものを、次の①～④のうちから一つ選べ。

13

- ① のぼり窯を使用した縄文土器が作られた。  
② 近畿中央部では支石墓がみられた。  
③ 健康な歯を抜く抜歯の風習がおこなわれた。  
④ 祖先を祀るアニミズムがおこなわれた。

#### 文章B

平清盛は後白河上皇の院政を助け、1167年には武士として初めて(イ)になった。清盛は、娘を天皇の中宮に入れ、生まれた子を即位させ朝廷の実権を握った。平氏の経済的基盤として多くの荘園と日宋貿易があった。

問 4 空欄イに入るものとして最も適当なものを、次の①～④のうちから一つ選べ。

14

- ① 摂政            ② 関白            ③ 征夷大將軍            ④ 太政大臣

問 5 下線部(3)に当たる天皇として最も適当なものを、次の①～④のうちから一つ  
選べ。

15

- ① 安徳天皇      ② 崇徳天皇      ③ 後鳥羽天皇      ④ 高倉天皇

問 6 下線部(4)について述べた文として最も適当なものを、次の①～④のうちから  
一つ選べ。

16

- ① 日本からの主な輸出品は、陶磁器・香料・書籍などであった。  
② 日本の主な輸入品は、金・水銀・硫黄などであった。  
③ 清盛が修築した大輪田泊は現在の神戸市に位置する。  
④ 日宋貿易の相手は、南宋の滅亡後に再興された北宋であった。

#### 文章C

鎌倉時代には武士や庶民に支持された新しい文化が生まれ、文学の世界でも新しい動きが始まった。武士の手による和歌集が作られ、戦いを題材にした軍記物語も鎌倉文化の特色となっている。随筆では、鎌倉時代末期に兼好法師が(ウ)を著した。

問 7 空欄ウに入るものとして最も適当なものを、次の①～④のうちから一つ選  
べ。

17

- ① 『枕草子』      ② 『徒然草』      ③ 『方丈記』      ④ 『吾妻鏡』

問 8 下線部(5)に当たるものとして最も適当なものを、次の①～④のうちから一つ  
選べ。

18

- ① 『金槐和歌集』      ② 『凌雲集』  
③ 『職原抄』      ④ 『新古今和歌集』

問 9 下線部(6)について述べた文として最も適当なものを、次の①～④のうちから一つ選べ。

19

- ① 『保元物語』は左大臣藤原頼長によって書かれた。
- ② 『平治物語』は源為義・為朝父子の活躍を中心に叙述している。
- ③ 『平家物語』は琵琶法師によって平曲として語られた。
- ④ 『源平盛衰記』は慈円によって書かれた。

#### 文章D

江戸時代には、何度も幕政改革がおこなわれた。中でも享保の改革、寛政の改革<sup>(7)</sup>、天保の改革<sup>(8)</sup>が三大改革としてよく知られている。また、江戸時代中期から幕末にかけては、地方の諸藩においても藩政改革<sup>(9)</sup>に取り組む例がみられた。

問10 下線部(7)の時期の出来事として最も適当なものを、次の①～④のうちから一つ選べ。

20

- ① 関東取締出役が設置された。
- ② 南鐮二朱銀が鑄造された。
- ③ ラクスマンが根室に來航した。
- ④ 異国船打払令が出された。

問11 下線部(8)について述べた文として最も適当なものを、次の①～④のうちから一つ選べ。

21

- ① 物価対策として株仲間の解散を命じた。
- ② 工藤平助の意見を取り入れ、蝦夷地の探査をおこなわせた。
- ③ 幕政批判をした林子平や山東京伝らを処罰した。
- ④ 無宿人を農村に帰村させる上知令を出した。

問12 下線部(9)について、改革に取り組んだ大名と藩の組み合わせとして最も適当なものを、次の①～④のうちから一つ選べ。

22

- ① 上杉治憲－秋田藩
- ② 佐竹義和－米沢藩
- ③ 細川重賢－熊本藩
- ④ 鍋島直正－長州藩

文章E

明治時代におきた日清戦争と日露戦争は、日本の国際社会での勢力拡大に大きな影響を与えた。日清戦争後の1895年には(エ)を植民地として支配し、日露戦争後は、<sup>(10)</sup>朝鮮・大陸への進出をさらに強めた。<sup>(11)</sup>

問13 空欄エに入る地域として最も適当なものを、次の①～④のうちから一つ選べ。

23

- ① 南洋諸島      ② 台湾      ③ 満洲      ④ 山東半島

問14 下線部(10)について述べた文として最も適当なものを、次の①～④のうちから一つ選べ。

24

- ① 排日を要求する義和団が朝鮮で蜂起し、これが戦争の発端となった。  
② 政党は開戦後も戦争に反対し続け、戦争関係の予算を承認しなかった。  
③ 日本軍は遼東半島を占領し、黄海海戦で勝利をおさめた。  
④ この戦争の講和会議は天津でおこなわれた。

問15 下線部(11)について述べた文として最も適当なものを、次の①～④のうちから一つ選べ。

25

- ① 韓国併合後、韓国統監府が朝鮮半島を支配した。  
② 朝鮮半島全土で土地調査事業をおこない小作人に土地を支給した。  
③ 北清事変に介入して山東省の利権を手に入れた。  
④ 南満洲鉄道株式会社は大陸への経済進出に重要な役割をはたした。

Ⅲ 次のA～Cをみて、後の問いに答えよ。

A 天台宗と真言宗

	天台宗	真言宗
開 祖	最澄(伝教大師)	<u>空海(弘法大師)</u> (1)
教 義	「一切皆成仏」を説く	<u>加持祈禱など秘密の呪法で</u> (2) <u>即身成仏が可能と説く</u>
著 書	( ア )	『三教指帰』『十住心論』

問 1 空欄アに入る著書として最も適当なものを、次の①～④のうちから一つ選べ。

26

- ① 『往生要集』    ② 『教行信証』    ③ 『性霊集』    ④ 『顕戒論』

問 2 下線部(1)が嵯峨天皇から賜った寺として最も適当なものを、次の①～④のうちから一つ選べ。

27

- ① 延暦寺    ② 園城寺    ③ 教王護国寺    ④ 室生寺

問 3 下線部(2)の教義をもつ仏教の教えを何というか。最も適当なものを、次の①～④のうちから一つ選べ。

28

- ① 道 教    ② 密 教    ③ 顕 教    ④ 浄土教

B 江戸時代初期の外交

西暦年	出来事
1604	<u>糸割符制度</u> が始まる。 (3)
1609	朝鮮と <u>己酉約条</u> を結ぶ。 (4)
1613	<u>慶長遣欧使節</u> が派遣される。 (5)
1633	奉書船以外の海外渡航が禁止される。
( イ )	ポルトガル船の来航が禁止される。

問 4 空欄イに入る西暦年として最も適当なものを、次の①～④のうちから一つ選べ。

29

- ① 1635                      ② 1637                      ③ 1639                      ④ 1641

問 5 下線部(3)について述べた文として最も適当なものを、次の①～④のうちから一つ選べ。

30

- ① 京都・堺・長崎の特定の商人らに糸割符仲間をつくらせた。  
② 特定の商人に輸出生糸の独占販売権を与えた。  
③ 朝鮮からの綿糸輸入制限をおこなった。  
④ オランダ商人の利益独占を排除するためにおこなった。

問 6 下線部(4)を朝鮮との間で結んだのはどこか。最も適当なものを、次の①～④のうちから一つ選べ。

31

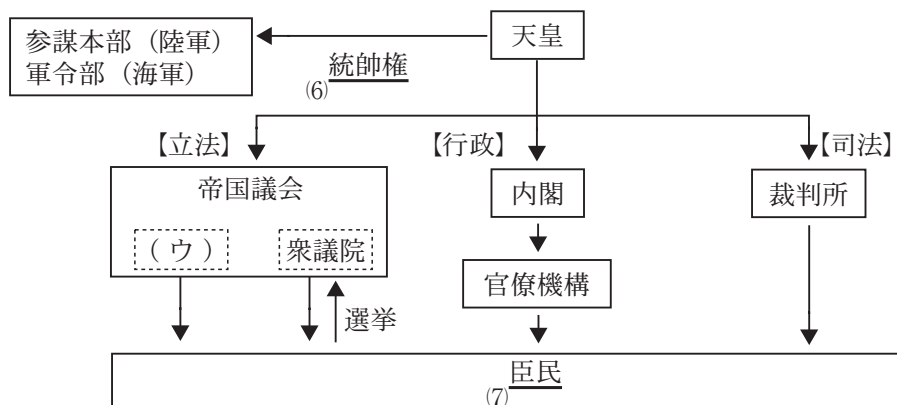
- ① 薩摩藩                      ② 対馬藩                      ③ 松前藩                      ④ 長崎奉行

問 7 下線部(5)について述べた文として最も適当なものを、次の①～④のうちから一つ選べ。

32

- ① 徳川家康が商人の田中勝介を派遣した。  
② 徳川秀忠が4人の少年を派遣した。  
③ 伊達政宗が家臣の支倉常長を派遣した。  
④ 豊臣秀頼が大名の高山右近を派遣した。

C 大日本帝国憲法下の国家機構



問 8 空欄ウに入るものとして最も適当なものを、次の①～④のうちから一つ選べ。 33

- ① 枢密院                      ② 元老院                      ③ 参議院                      ④ 貴族院

問 9 下線部(6)の干犯問題の原因となった条約として最も適当なものを、次の①～④のうちから一つ選べ。 34

- ① ロンドン海軍軍縮条約                      ② 不戦条約  
③ ヴェルサイユ条約                      ④ ポーツマス条約

問10 下線部(7)について述べた文として最も適当なものを、次の①～④のうちから一つ選べ。 35

- ① 主権は臣民にあった。  
② 臣民は、法律の範囲内で所有権の不可侵を認められた。  
③ 納税・勤労・教育が臣民の三大義務であった。  
④ 憲法改正には臣民による投票が必要とされた。

IV 次の問1～問10の主題に関して述べた文として最も適当なものを、①～④のうちからそれぞれ一つ選べ。

問 1 墾田永年私財法

36

- ① この法は、貴族・寺院や地方豪族の私有地が拡大する要因となった。
- ② この法は、不輸の権を認めていた。
- ③ 国分寺建立の詔と同年に発せられた。
- ④ 自ら開墾した土地は寄進地系荘園と呼ばれた。

問 2 鎌倉時代の武士

37

- ① 地頭となって荘園の年貢納入を請け負う下地中分をおこなった。
- ② 女性の地位は低く、所領の相続もされなかった。
- ③ 一族の本家は棟梁と呼ばれ、それ以外は丁稚と呼ばれた。
- ④ 所領の相続は、一族の子弟・子女に分け与える分割相続を原則とした。

問 3 倭 寇

38

- ① 倭寇を撃退した朱元璋が朝鮮を建国した。
- ② 倭寇は宋や新羅の村を襲った。
- ③ 後期倭寇には中国人などの密貿易者も多かった。
- ④ 倭寇の活動は織田信長が海賊取締令を出すまで続いた。

問 4 織田信長の政策

39

- ① 美濃加納や安土に楽市令を出した。
- ② 分国内の関所で関銭を徴収した。
- ③ 本願寺勢力と手を組みキリスト教を弾圧した。
- ④ 摂津国沿岸部に安土城を築いた。

問 5 日米和親条約

40

- ① 神奈川・兵庫の開港が決められた。
- ② アメリカに一方的な最恵国待遇を与えた。
- ③ イギリス・ロシア・フランスとも類似の内容の和親条約を結んだ。
- ④ 老中首座の堀田正睦が調印した。

問 6 四民平等

41

- ① 皇族と貴族が華族となり，藩主と藩士は士族となった。
- ② 全国的な戸籍である庚午年籍がつくられた。
- ③ 解放令によって旧来のえた・非人の称が廃止された。
- ④ 平民と華族・士族との結婚は認められなかった。

問 7 大正時代の文学

42

- ① 自然主義の流れを受けた白樺派が活躍した。
- ② 志賀直哉や武者小路実篤の新思潮派が活躍した。
- ③ 尾崎紅葉らが硯友社を結成した。
- ④ 無産階級解放のためのプロレタリア文学運動がおきた。

問 8 日中戦争

43

- ① 開戦の原因を探るために国際連盟の調査団が派遣された。
- ② 日独伊三国同盟の成立後に開戦された。
- ③ 柳条湖事件が開戦の契機となった。
- ④ 開戦後に戦時統制が強化され，国家総動員法が制定された。

問 9 太平洋戦争後の経済政策

44

- ① 東久邇宮稔彦内閣は金融緊急措置令を発令した。
- ② 幣原喜重郎内閣は経済安定九原則の実行を指令した。
- ③ 第1次吉田茂内閣は経済安定本部を設置し，傾斜生産方式実施を決めた。
- ④ 芦田均内閣は過度経済力集中排除法を公布し企業分割を進めた。

問10 20世紀後半の対外関係

45

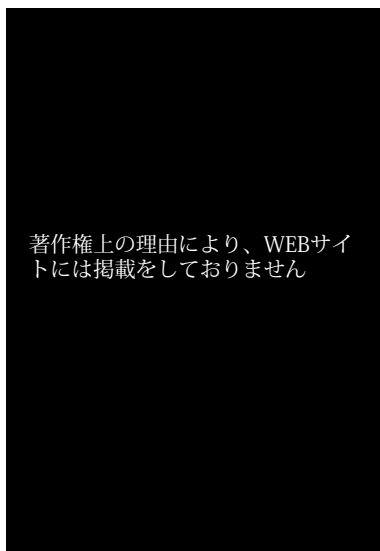
- ① 日韓基本条約を結び、韓国との国交を樹立した。
- ② サンフランシスコ講和会議において全面講和が実現した。
- ③ 日中平和友好条約が結ばれて日本の国際連合加盟が実現した。
- ④ 国連平和維持活動(PKO)協力法に基づいて湾岸戦争に参戦した。

V 次の図版A～Eをみて、後の問いに答えよ。

問 1 Aの建築物について述べた文として最も適当なものを、次の①～④のうちから一つ選べ。

46

A



- ① 室生寺五重塔である。
- ② 薬師寺東塔である。
- ③ 弘仁・貞観文化を代表する建築物である。
- ④ 蘇我氏の発願で建てられたものである。

問 2 Bの絵画に描かれているものとして最も適当なものを、次の①～④のうちから一つ選べ。

47

B



- ① 大原女
- ② 問丸
- ③ 振売
- ④ 連雀商人

問 3 Cの絵画の作者として最も適当なものを、次の①～④のうちから一つ選べ。

48

C



- ① 喜多川歌麿
- ② 葛飾北斎
- ③ 東洲斎写楽
- ④ 歌川広重

問 4 Dの風刺画は明治十四年の政変に関連するものである。中心に描かれている動物があらわす人物の組み合わせとして最も適当なものを、次の①～④のうちから一つ選べ。

49

D



- ① 伊藤博文と山県有朋
- ② 西郷隆盛と大久保利通
- ③ 西園寺公望と桂太郎
- ④ 黒田清隆と大隈重信

問 5 Eの写真が撮られた時と同じ年の出来事として最も適当なものを、次の①～④のうちから一つ選べ。

50

E




写真:毎日新聞社/アフロ

- ① アジア・アフリカ会議開催
- ② 文化財保護法公布
- ③ 第18回オリンピック東京大会開催
- ④ 自衛隊発足

2026年度 入学試験問題

一般入試前期  
〔3教科型・2教科型〕

2月2日

第2限

地 歴・理 科

(日本史探究・世界史探究)

(生物基礎・化学基礎・物理基礎)

注意事項

- 1 試験開始の合図があるまで、この問題冊子を開いてはいけない。
- 2 科目、ページおよび解答番号は、下表のとおりである。  
必ず出願時に申告した科目を解答すること。

科目	ページ	解答番号
日本史探究	日―1～日―17	1～50
世界史探究	世―1～世―22	1～50
生物基礎	生―1～生―16	1～34
化学基礎	化―1～化―10	1～35
物理基礎	物―1～物―5	1～42

- 3 解答用紙には、受験番号、受験科目および氏名を正しく記入・マークすること。
- 4 解答は解答用紙の解答欄にマークすること。
- 5 試験中にページの脱落等に気付いた場合は、手を挙げて監督者に知らせること。  
解答用紙の汚れ等に気付いた場合も同様である。
- 6 問題冊子は試験終了後、持ち帰ること。

# 日本史探究

I 次の史料A～Eを読み、後の問いに答えよ。

## 史料A

建武中元二年、倭の奴国、貢を奉じて朝賀す。使人自ら大夫と称す。倭国の極南界なり。(ア)、賜ふに印綬を以てす。……  
(1)

問 1 空欄アに入るものとして最も最も適当なものを、次の①～④のうちから一つ選べ。

1

- ① 難升米                      ② 帥 升                      ③ 安 帝                      ④ 光 武

問 2 下線部(1)と考えられている印について述べたものとして最も適当なものを、次の①～④のうちから一つ選べ。

2

- ① 江戸時代に発見された。                      ② 対馬で発見された。  
③ 「親魏倭王」と刻印されている。                      ④ 純金製で約1キロの重量がある。

問 3 史料Aの出典として最も適当なものを、次の①～④のうちから一つ選べ。

3

- ① 『漢書』地理志                                      ② 『後漢書』東夷伝  
③ 『魏志』倭人伝                                      ④ 『宋書』倭国伝

## 史料B

……六波羅殿の御一家の君達といひてしかば、花族も栄耀も面をむかへ肩をな  
(2)  
らぶる人なし。されば入道相国のこじうと、平大納言時忠卿ののたまひけるは、  
「此一門にあらざらむ人は皆人非人なるべし」とぞのたまひける。……

問 4 下線部(2)が指す人物として最も適当なものを、次の①～④のうちから一つ選べ。

4

- ① 藤原忠通      ② 平清盛      ③ 源義朝      ④ 後白河天皇

問 5 史料Bに記された時期の出来事として最も適当なものを、次の①～④のうちから一つ選べ。

5

- ① 武家の出身者がはじめて太政大臣についた。  
② 武家の出身者がはじめて関白についた。  
③ 承平・天慶の乱が起きた。  
④ 平忠常の乱が起きた。

問 6 史料Bの出典として最も適当なものを、次の①～④のうちから一つ選べ。

6

- ① 土佐日記      ② 平家物語      ③ 吾妻鏡      ④ 方丈記

史料C

堺の町は甚だ廣大にして大なる商人多数あり。此町は( イ )市の如く執政官<sup>(3)</sup>に依りて治めらる。

問 7 空欄イに入るものとして最も適当なものを、次の①～④のうちから一つ選べ。

7

- ① パリ      ② ロンドン      ③ ローマ      ④ ベニス

問 8 下線部(3)について述べたものとして最も適当なものを、次の①～④のうちから一つ選べ。

8

- ① 織田信長がはじめて楽市令を出した場所である。  
② 善光寺の門前町として栄えた。  
③ 現在の堺市には、大仙陵古墳を含む百舌鳥古墳群がある。  
④ 江戸時代には唐人屋敷が置かれ、中国人が住んでいた。

問 9 史料Cの出典を著した人物として最も適当なものを、次の①～④のうちから一つ選べ。

9

- ① ガスパル・ヴィレラ                      ② ルイス・フロイス  
③ オルガンティノ                          ④ フランシスコ・ザビエル

史料D

菱垣廻船積問屋共よりは是迄年々冥加上納金致し来り候処、問屋共不正の趣も相聞え候二付、以来上納二及ばず候。尤、向後右仲間株札ハ勿論、此外共都て問屋仲間并組合杯と唱候儀は、相成らず候間其段申し渡さるべく候。……

問10 下線部(4)について述べたものとして最も適当なものを、次の①～④のうちから一つ選べ。

10

- ① 大坂と江戸を結ぶ海上輸送を担った。  
② 酒樽を専門に運ぶため積み下ろしが容易で、輸送時間を短縮できた。  
③ 蝦夷地や東北地方の物資を西廻りで上方に輸送した。  
④ 河村瑞賢が船の設計と航路の整備を主導した。

問11 下線部(5)に関連し、株仲間について述べた文として最も適当なものを、次の①～④のうちから一つ選べ。

11

- ① 将軍徳川秀忠は、将軍としてはじめて株仲間を公認した。  
② 元禄期には、株仲間からの運上・冥加が幕府の歳入の約半分を占めた。  
③ 老中田沼意次は株仲間を広く公認し、運上・冥加を上納させた。  
④ 大坂の二十四組問屋は、松平定信により解散を命じられた。

問12 史料Dの法令が出された年として最も適当なものを、次の①～④のうちから一つ選べ。

12

- ① 1821年              ② 1831年              ③ 1841年              ④ 1851年

史料E

九月十八日午後十時ヨリ十時三十分ノ間ニ鉄道線路上若ハ其ノ付近ニ於テ爆発アリシハ疑ナキモ、鉄道ニ対スル損傷ハ若シアリタリトスルモ、事実(ウ)ヨリノ南行列車ノ定刻到着ヲ妨ゲザリシモノニシテ其レノミニテハ軍事行動ヲ正当トスルニ充分ナラズ。……

問13 空欄ウに入る地名として最も適当なものを、次の①～④のうちから一つ選べ。 13

- ① 長 春            ② 上 海            ③ 旅 順            ④ 北 京

問14 史料Eに記された鉄道線路の爆破事件が起きた年として最も適当なものを、次の①～④のうちから一つ選べ。 14

- ① 1927年            ② 1929年            ③ 1931年            ④ 1933年

問15 史料Eに記された鉄道線路爆破事件の後の出来事として最も適当なものを、次の①～④のうちから一つ選べ。 15

- ① 段祺瑞政権に対して巨額の経済借款を与えた。  
② 溥儀を執政とする満洲国が建国された。  
③ 満洲を統治する関東都督府が旅順に設置された。  
④ 南満洲鉄道株式会社が設置され、松岡洋右が初代総裁についた。

II 次の文章A～Eを読み、後の問いに答えよ。

文章A

桓武天皇は仏教政治の弊害を改め、天皇権力を強化するために、784年に平城京から長岡京に遷都し、794年には平安京に再遷都した。また、坂上田村麻呂を征夷大將軍に任じ、蝦夷の平定<sup>(1)</sup>にも力を注いだ。しかし、平安京の造営と蝦夷との戦いは国家財政の負担となり、805年には、(ア)の意見を採用し、この2つの事業を打ち切った。

問 1 空欄アに入る人物として最も適当なものを、次の①～④のうちから一つ選べ。

16

- ① 藤原種継      ② 藤原緒嗣      ③ 藤原百川      ④ 菅野真道

問 2 下線部(1)について述べた文として最も適当なものを、次の①～④のうちから一つ選べ。

17

- ① 造営を主導していた早良親王が暗殺された。  
② 東西・南北ともに約2 km で、平城京や長岡京と比べ小規模であった。  
③ 左京の東側に外京が設けられ、寺院は外京に集められた。  
④ 朱雀大路の南端に羅城門があった。

問 3 下線部(2)について述べた文として最も適当なものを、次の①～④のうちから一つ選べ。

18

- ① 志波城、胆沢城、多賀城の順に、北から南へと城を築いていった。  
② 坂上田村麻呂の軍が阿弋流為を降伏させた。  
③ 坂上田村麻呂のあと、紀古佐美が征夷大將軍に就いた。  
④ 蝦夷の平定のあと、健児の制が新設され東北地方の警備にあたった。

文章B

観応の擾乱は、足利尊氏とその弟である(イ)の対立から起こった。この内紛は、南朝との抗争と並行して展開し、全国の武士を巻き込んだ。最終的には尊氏が勝利したが、<sup>(3)</sup>室町幕府の統治力低下を招き、<sup>(4)</sup>南北朝の動乱を長引かせる要因となった。

問 4 空欄イに入るものとして最も適当なものを、次の①～④のうちから一つ選べ。

19

- ① 足利義詮      ② 足利義満      ③ 足利直義      ④ 足利直冬

問 5 下線部(3)について述べた文として最も適当なものを、次の①～④のうちから一つ選べ。

20

- ① 侍所の所司(長官)は、四職と呼ばれる四家から任命された。  
② 後醍醐天皇が定めた建武式目を基本法典とした。  
③ 京都の警備のため武者所を設置し、楠木正成を初代長官とした。  
④ 東国の統治のため鎌倉將軍府を設置し、新田義貞を初代將軍とした。

問 6 下線部(4)について述べた文として最も適当なものを、次の①～④のうちから一つ選べ。

21

- ① 北畠親房は北朝の正統性を主張する『神皇正統記』を著した。  
② 南北朝時代には、南朝と北朝から交互に即位する両統迭立が行われた。  
③ 南北朝の合体は、將軍足利義満の時代に実現した。  
④ 南北朝の合体は、北朝の天皇が南朝の天皇に讓位するかたちで実現した。

文章C

享保・天明・天保の大飢饉は、江戸の三大飢饉と呼ばれる。享保の大飢饉で<sup>(5)</sup>は、西日本を中心とした虫害と長雨により多くの餓死者がでた。天明の大飢饉では、(ウ)の噴火による冷害の影響もあり、東北地方が特に被害を受けた。天保の大飢饉の時期には、幕府の対応に不満を持つ大塩平八郎が、大塩の乱を起こ<sup>(6)</sup>した。

問 7 空欄ウに入るものとして最も適当なものを、次の①～④のうちから一つ選べ。

22

- ① 浅間山                      ② 富士山                      ③ 阿蘇山                      ④ 桜島

問 8 下線部(5)の各年間について述べた文として最も適当なものを、次の①～④のうちから一つ選べ。

23

- ① 享保年間には、上げ米が実施され、かわりに参勤交代の負担を緩和した。  
② 天明年間には、松本藩で嘉助騒動が起きた。  
③ 天保年間には、老中田沼意次が人返しの法を出した。  
④ 天保年間には、定免法が廃止され、検見法が全国で採用された。

問 9 下線部(6)について述べた文として最も適当なものを、次の①～④のうちから一つ選べ。

24

- ① 1832年に江戸で起こった。  
② 生田万の乱の翌年、大坂で起こった。  
③ 乱を起こした大塩平八郎は大坂町奉行の元与力であった。  
④ 将軍徳川家定がこの乱の平定を命じた。

文章D

1869年1月、明治新政府の木戸孝允・大久保利通らは、薩長土肥の4藩主に  
すすめ、版籍奉還を上表させ、その後、多くの藩がこれになった。同年6月、  
新政府は、すべての藩主に奉還を命じたが、旧藩主を知藩事に任命し引き続き藩  
政にあたらせた。(エ)には廃藩置県を断行すると、知藩事は罷免され、新政  
府から派遣された府知事・県令が各地の行政を担うこととなった。

問10 空欄エに入る西暦年として最も適当なものを、次の①～④のうちから一つ選  
べ。 25

- ① 1871年      ② 1873年      ③ 1875年      ④ 1877年

問11 下線部(7)について述べた文として最も適当なものを、次の①～④のうちから  
一つ選べ。 26

- ① 木戸孝允は幕末期に咸臨丸で米国に渡った。  
② 木戸孝允は明治六年の政変で下野し、佐賀の乱を起こした。  
③ 大久保利通は五箇条の誓文の起草・修正に中心的な役割を果たした。  
④ 大久保利通は初代内務卿につき、明治初期の政界を主導した。

問12 下線部(8)について述べた文として最も適当なものを、次の①～④のうちから  
一つ選べ。 27

- ① 版籍奉還は地方分権体制を確立・強化する目的で実施された。  
② 版籍奉還の版は土地を指し、籍は人民を指す。  
③ 版籍奉還は薩長の兵からなる御親兵の軍事力を背景に実施された。  
④ 版籍奉還の実施と同年には、太政官が三院制となった。

文章E

佐藤栄作は高度経済成長期に、首相として長く政権を維持した。沖縄返還を實現し、非核三原則を提唱するなど、外交・安全保障政策で実績をあげ、1974年にはノーベル平和賞を受賞した。同じく首相を務め、在任中に新安保条約を締結した(オ)は実兄であり、安倍晋三は(オ)の孫にあたる。

問13 空欄オに入る人名として最も適当なものを、次の①～④のうちから一つ選べ。

28

- ① 鳩山一郎      ② 田中角栄      ③ 池田勇人      ④ 岸信介

問14 下線部(9)について述べた文として最も適当なものを、次の①～④のうちから一つ選べ。

29

- ① 1971年に沖縄返還協定が調印され、翌年、沖縄返還が実現した。  
② 沖縄返還協定には、佐藤首相とマッカーサーが調印した。  
③ 沖縄返還協定には、米軍の沖縄からの10年以内の撤退が明記された。  
④ 沖縄返還のあと、小笠原諸島・奄美群島が順次返還された。

問15 下線部(10)について述べた文として最も適当なものを、次の①～④のうちから一つ選べ。

30

- ① 首相在任中に、阪神・淡路大震災が起こった。  
② 首相在任中に、消費税を3%から5%に引き上げた。  
③ 首相在任中に、選挙権年齢を18歳以上に引き下げた。  
④ 首相在任中に、国連平和維持活動(PKO)協力法を成立させた。

Ⅲ 次の問1～問10の主題について述べた文として最も適当なものを、①～④のうちからそれぞれ一つ選べ。

問1 縄文時代・縄文文化

31

- ① およそ10万年前にはじまった。
- ② 狩猟の対象は、主にマンモスなどの大型動物であった。
- ③ 精巧な紋様の土器が出土した亀ヶ岡遺跡は青森県にある。
- ④ 水田跡が発見された板付遺跡は長野県にある。

問2 7世紀の出来事

32

- ① 乙巳の変では、中大兄皇子に山背大兄王・中臣鎌足らが協力した。
- ② 646年正月、皇極天皇によって「改新の詔」が出された。
- ③ 白村江の戦いで敗れたあとの667年、都が飛鳥浄御原宮に移された。
- ④ 天智天皇のもとで、最初の戸籍である庚午年籍が作成された。

問3 摂政・関白

33

- ① 藤原冬嗣は、幼少の清和天皇を補佐するため摂政についた。
- ② 阿衡の紛議のあと、藤原基経が宇多天皇の摂政についた。
- ③ 藤原道長は甥の藤原伊周との政争に敗れて、関白の地位を失った。
- ④ 藤原頼通は3代の天皇の約50年にわたり、摂政・関白をつとめた。

問4 鎌倉幕府

34

- ① 将軍源実朝は、北条時政により伊豆の修善寺に幽閉され、暗殺された。
- ② 侍所の初代長官(別当)には大江広元が就いた。
- ③ 承久の乱では、北条時頼らが率いる軍が京都を攻め落とした。
- ④ 承久の乱のあと、幕府は朝廷の監視などを担当する六波羅探題をおいた。

問 5 鎌倉時代の産業・農業

35

- ① 日明貿易によって明銭が輸入され、年貢の銭納に使用された。
- ② 定期市を月に6回開く六斎市が一般化した。
- ③ 鉄製の農具や牛馬を利用した農耕が広がっていった。
- ④ 干鰯・油粕などの金肥が使用されはじめた。

問 6 織田信長と豊臣秀吉

36

- ① 織田信長は毛利氏を服属させたあと、本能寺の変で滅ぼされた。
- ② 織田信長は茶の湯を好み、北野天満宮において北野大茶湯を催した。
- ③ 豊臣秀吉の太閤検地では、従来の石高制を廃止し貫高制に統一した。
- ④ 豊臣秀吉は肥前に名護屋城を築き、朝鮮出兵の根拠地とした。

問 7 江戸時代の学問

37

- ① 私塾が隆盛し、蘭学では、杉田玄白が江戸に芝蘭堂を開いた。
- ② 和算が発達し、関孝和が『発微算法』を著した。
- ③ 江戸の町人が設立した懐徳堂から富永仲基・山片蟠桃らが出た。
- ④ 賀茂真淵が『古事記伝』を著し、日本古来の精神に返ることを主張した。

問 8 日露戦争

38

- ① 日露戦争の開戦前に、日英同盟協約が締結された。
- ② 日本の連合艦隊はロシアのバルチック艦隊を津軽海峡で全滅させた。
- ③ アメリカのタフト大統領の斡旋により、ポーツマス条約が調印された。
- ④ ポーツマス条約により、日本は戦費とほぼ同額の賠償金を獲得した。

問 9 加藤高明内閣

39

- ① 陸軍大臣・海軍大臣以外の全閣僚を貴族院議員から選出した。
- ② 幣原喜重郎を外相に任命し、列強との協調外交を展開した。
- ③ 25歳以上の男女に選挙権を与える普通選挙法を成立させた。
- ④ 治安警察法を廃止し、治安維持法を成立させた。

問10 日本国憲法

40

- ① 日本国憲法の第1条には戦争放棄が規定されている。
- ② 日本国憲法の3原則は、主権在民・平和主義・天皇制の維持である。
- ③ GHQ から鈴木貫太郎内閣に対し、憲法改正が指示された。
- ④ 日本国憲法は、1947年5月3日に施行された。

IV 次のA～Eをみて、後の問いに答えよ。

A 天平文化の歴史書・地誌・文学

名称	関係する人物・内容等
古事記	稗田阿礼が暗誦したものを太安万侶が筆録。神代～推古天皇までの出来事を記述。
日本書紀	舎人親王らが編纂。神代～持統天皇までの出来事を編年体で記述。 <u>六国史</u> のはじめ。 (1)
風土記	元明天皇の詔により各国庁が編纂。5カ国のものが現存。ほぼ完全なかたちで残っているのは『(ア)風土記』。
懷風藻	現存する最古の日本漢詩集。天智天皇の時代以降の64人の詩を作者別・年代順に収録。
万葉集	現存する日本最古の和歌集。天皇から民衆まで、さまざまな階層の人々の歌、約(イ)首を収録。

問1 空欄アに入る国名として最も適当なものを、次の①～④のうちから一つ選べ。

41

- ① 出雲国                      ② 武蔵国                      ③ 常陸国                      ④ 豊後国

問2 空欄イに入るに数字として最も適当なものを、次の①～④のうちから一つ選べ。

42

- ① 150                              ② 450                              ③ 1500                              ④ 4500

問 3 下線部(1)について述べた文として最も適当なものを、次の①～④のうちから一つ選べ。

43

- ① 六国史は唐の皇帝の命により編纂された。
- ② 日本書紀は712年に完成した。
- ③ 2番目の六国史は8世紀半ばに完成した『日本後紀』である。
- ④ 最後の六国史は『日本三代実録』である。

問 4 表A中の人物について述べた文として最も適当なものを、次の①～④のうちから一つ選べ。

44

- ① 推古天皇は女性の天皇で、弟の厩戸王を摂政とした。
- ② 持統天皇は天武天皇の妃で、天武天皇崩御のあとに即位した。
- ③ 舎人親王は天智天皇の子で、大宝律令の編纂に参加した。
- ④ 元明天皇は聖武天皇の母で、藤原京に遷都した。

B 明治期のお雇い外国人

名前	功績など
モース	大森貝塚を発見。日本の考古学の発展に貢献。
クラーク	札幌農学校で教える。 <u>新渡戸稲造・内村鑑三</u> は同校出身。 (2)
ベルツ	東京帝国大学で教える。日本の近代医学の基礎を築く。
(ウ)	民法・刑法の起草に関わる。日本の法制度整備に貢献。
コンドル	建築家。鹿鳴館やニコライ堂を設計。

問 5 空欄ウに入る人名として最も適当なものを、次の①～④のうちから一つ選べ。

45

- ① ボアソナード
- ② グナイスト
- ③ シュタイン
- ④ キヨソネ

問 6 下線部(2)について述べた文としての最も適当なものを，次の①～④のうちから一つ選べ。

46

- ① 新渡戸稲造は，教育勅語に対する不敬罪により教師の職を追われた。
- ② 新渡戸稲造は，英文で『武士道』を著した。
- ③ 内村鑑三は，国際連盟事務局次長を務めるなど，海外でも活躍した。
- ④ 内村鑑三は，東京専門学校を創設した。

問 7 表B中の事項について述べた文としての最も適当なものを，次の①～④のうちから一つ選べ。

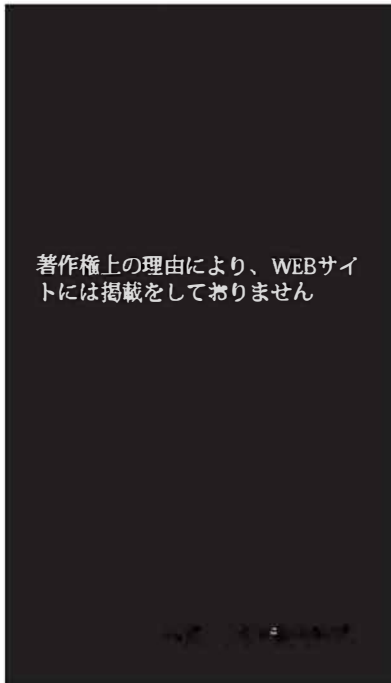
47

- ① 大森貝塚は弥生時代の遺跡で，現在の福岡県にある。
- ② 東京帝国大学の出身者に，岩崎弥太郎・渋沢栄一らがいる。
- ③ 鹿鳴館は迎賓用の洋館で，欧化政策推進のため使用された。
- ④ ニコライ堂は阪神・淡路大震災で倒壊したが，のち再建された。

問 8 Cの木像について述べた文として最も適当なものを、次の①～④のうちから一つ選べ。

48

C



- ① 興福寺金剛力士像である。
- ② 興福寺天灯鬼像である。
- ③ 円空の作品である。
- ④ 定朝の作品である。

写真 興福寺天燈鬼

問 9 Dの建造物について述べた文として最も適当なものを、次の①～④のうちから一つ選べ。

49

D

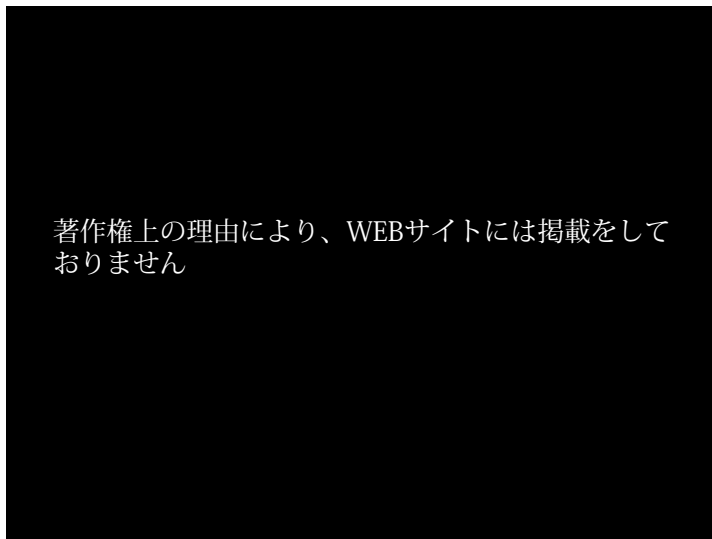


写真 日光東照宮陽明門

- ① 室町時代の建造物である。
- ② 安土・桃山時代の建造物である。
- ③ 大徳寺唐門である。
- ④ 日光東照宮陽明門である。

問10 Eの雑誌について述べた文として最も適切なものを、次の①～④のうちから一つ選べ。

50

E



- ① 徳富蘇峰が創刊した。
- ② 鈴木三重吉が創刊した。
- ③ 堺利彦・山川均らが寄稿した。
- ④ 谷崎潤一郎が『細雪』を連載した。

2026年度 入学試験問題

一般入試前期  
〔3教科型・2教科型〕

2月4日

第2限

地 歴・理 科

(日本史探究・世界史探究)

(生物基礎・化学基礎・物理基礎)

注意事項

- 1 試験開始の合図があるまで、この問題冊子を開いてはいけない。
- 2 科目、ページおよび解答番号は、下表のとおりである。  
必ず出願時に申告した科目を解答すること。

科 目	ページ	解答番号
日本史探究	日―1～日―16	1～50
世界史探究	世―1～世―26	1～50
生物基礎	生―1～生―17	1～34
化学基礎	化―1～化―11	1～35
物理基礎	物―1～物―5	1～41

- 3 解答用紙には、受験番号、受験科目および氏名を正しく記入・マークすること。
- 4 解答は解答用紙の解答欄にマークすること。
- 5 試験中にページの脱落等に気付いた場合は、手を挙げて監督者に知らせること。  
解答用紙の汚れ等に気付いた場合も同様である。
- 6 問題冊子は試験終了後、持ち帰ること。



問 4 下線部(1)について述べた文として最も適当なものを、次の①～④のうちから一つ選べ。

4

- ① 奈良時代に鑑真が来日して、日本に戒律を伝えた。
- ② 奈良時代に弘法大師が天台宗を確立した。
- ③ 平安時代に忍性が奈良西大寺を開いた。
- ④ 平安時代に栄西が黄檗宗を開いた。

問 5 下線部(2)に関連して、「念仏札」を配り、踊念仏によって教えを広めた人物として最も適当なものを、次の①～④のうちから一つ選べ。

5

- ① 日蓮
- ② 道元
- ③ 一遍
- ④ 親鸞

問 6 史料Bの起請文を記した人物について述べた文として最も適当なものを、次の①～④のうちから一つ選べ。

6

- ① 「悪人正機説」を唱えた。
- ② 『立正安国論』を著した。
- ③ 知恩院を建立した。
- ④ 「只管打坐」を信仰の中心とした。

#### 史料C

- 一 天子諸芸能の事、第一御学問也。
- 一 撰家為りと雖も、其器用無きは、三公撰関に任せらるべからず。……
- 一 紫衣の寺、住持職、先規希有の事也。近年猥りに勅許の事、且は藤次を乱し  
(3)  
……

問 7 下線部(3)に関連し紫衣事件が起こった。この事件について述べた文として最も適当なものを、次の①～④のうちから一つ選べ。

7

- ① 幕府は大徳寺の沢庵を武家伝奏に任命した。
- ② 幕府は天皇の実父への尊号宣下を拒否した。
- ③ 後水尾天皇はこの事件を契機として幕府の同意を求めず譲位した。
- ④ 明正天皇はこの事件の後、謹慎させられた。

問 8 史料Cの法令が発布された年として最も適当なものを、次の①～④のうちから一つ選べ。

8

- ① 1603年      ② 1615年      ③ 1636年      ④ 1665年

問 9 史料Cの法令について述べた文として最も適当なものを、次の①～④のうちから一つ選べ。

9

- ① この法令は17カ条からなっている。  
② 徳川家光の命令で作成された。  
③ この法令は江戸幕府将軍の代替わりごとに改定された。  
④ この法令は諸大名を統制するために制定された。

#### 史料D

第一条 向後日本大君と、亜墨利加合衆国と、世々親睦なるへし。……

第三条 下田・箱館港の外、<sup>(4)</sup>次にいふ所の場所を、左の期限より開くへし。……  
<sup>(5)</sup>

問10 下線部(4)に当たる人物として最も適当なものを、次の①～④のうちから一つ選べ。

10

- ① 徳川家慶      ② 徳川家定      ③ 徳川家茂      ④ 徳川慶喜

問11 下線部(5)として指定された場所として最も適当なものを、次の①～④のうちから一つ選べ。

11

- ① 大坂      ② 堺      ③ 金沢      ④ 長崎

問12 史料Dの条約に関して述べた文として最も適当なものを、次の①～④のうちから一つ選べ。

12

- ① 調印した時の日本側の首席老中は安藤信正であった。  
② 調印した米国側の代表はペリーであった。  
③ 調印のあと桜田門外の変が起こった。  
④ 無勅許調印のため、和宮降嫁が中止された。

史料E

国民所得倍増計画は、速やかに国民総生産を倍増して、雇用の増大による完全雇用の達成をはかり、国民の生活水準を大幅に引き上げることを目的とするものでなければならぬ。<sup>(6)</sup>……

問13 下線部(6)に関連して、1960年代の日本について述べた文として最も適切なものを、次の①～④から一つ選べ。 13

- ① ソニーが「ウォークマン」を発売した。
- ② 東海道新幹線が開通した。
- ③ NHKがテレビの本放送を開始した。
- ④ 男女雇用機会均等法が成立した。

問14 史料Eの構想を1960年に閣議決定した首相として最も適切なものを、次の①～④のうちから一つ選べ。 14

- ① 吉田茂            ② 岸信介            ③ 佐藤栄作            ④ 池田勇人

問15 史料Eの構想を打ち出した内閣が行った政策として最も適切なものを、次の①～④のうちから一つ選べ。 15

- ① 農業基本法を制定した。
- ② 環境庁を発足させた。
- ③ 消費税5%を導入した。
- ④ 国鉄の民営化を実施した。

II 次の文章A～Eを読んで、後の問いに答えよ。

文章A

592年に(ア)天皇が暗殺されると推古天皇が即位し、蘇我馬子や厩戸王ら<sup>(1)</sup>と協力して、国家組織の形成を進めた。603年には冠位十二階制、604年には憲法十七条を設定し、600年と607年には遣隋使を派遣した。<sup>(2)</sup>

問1 空欄アに入るものとして最も適当なものを、次の①～④のうちから一つ選べ。

16

- ① 敏達            ② 用明            ③ 舒明            ④ 崇峻

問2 下線部(1)の人物について述べた文として最も適当なものを、次の①～④のうちから一つ選べ。

17

- ① 蘇我馬子は蘇我入鹿の子である。  
② 蘇我馬子は大連物部守屋を滅ぼした。  
③ 厩戸王は仏教を排斥した。  
④ 厩戸王は乙巳の変で滅ばされた。

問3 下線部(2)について述べた文として最も適当なものを、次の①～④のうちから一つ選べ。

18

- ① 600年に遣隋使を派遣したことが『日本書紀』に記されている。  
② 600年の遣隋使は中国皇帝に冊封を求める国書を持参した。  
③ 607年の遣隋使に阿倍仲麻呂が留学生として同行した。  
④ 607年の翌年、帰国する小野妹子とともに裴世清が来日した。

文章B

村上天皇の死後、醍醐天皇の子で左大臣の源高明が左遷されると、藤原北家の勢力は不動のもの<sup>(3)</sup>となった。それ以後は藤原北家の親族間で、摂政・関白の地位<sup>(4)</sup>をめぐる争いが起こった。これを勝ち抜いた藤原道長は、4人の娘を次々に皇后や皇太子妃とし、権力を強めた。



問 8 下線部(6)について述べた文として最も適当なものを、次の①～④のうちから一つ選べ。

23

- ① 京都の朝廷が南朝である。
- ② 北畠親房は南朝方で戦った。
- ③ 北朝は後醍醐天皇を擁した。
- ④ 応仁の乱の後、南北朝の合体が実現した。

問 9 下線部(7)に関連して、1419年に朝鮮軍が大挙して対馬を襲撃したことを何と言うか。最も適当なものを、次の①～④のうちから一つ選べ。

24

- ① 三浦の乱
- ② 寧波の乱
- ③ 応永の外寇
- ④ 壬辰倭乱

#### 文章D

江戸時代には農業や諸産業の発達により、各地の城下町・港町を中心に全国を<sup>(8)</sup>結ぶ商品流通の市場が形成された。<sup>(9)</sup>江戸・大坂・京都の三都は17世紀後半まで<sup>(10)</sup>に世界でも有数な大規模な都市に成長した。

問10 下線部(8)について述べた文として最も適当なものを、次の①～④のうちから一つ選べ。

25

- ① 輸出品として、米や麦を入れた俵物の生産が奨励された。
- ② 幕府直轄の伊豆や佐渡の炭鉱が栄えた。
- ③ 干鰯・麦粕・油粕などが金肥として普及した。
- ④ 関東の九十九里浜では大規模な捕鯨が行われた。

問11 下線部(9)に関連して、江戸時代の交通の発達について述べた文として最も適当なものを、次の①～④のうちから一つ選べ。

26

- ① 五街道と脇街道の起点は江戸日本橋であった。
- ② 幕府は公用の文書や荷物の継送りのため大名飛脚の制度をととのえた。
- ③ 角倉了以は利根川や琵琶湖の水運を開いた。
- ④ 河村瑞賢は東廻り航路・西廻り航路を整備した。

問12 下線部(10)について述べた文として最も適当なものを、次の①～④のうちから一つ選べ。

27

- ① 江戸には天皇・公家が住み、清水寺など著名な寺社が集中した。
- ② 京都では十組問屋が形成され、天満青物市場がにぎわった。
- ③ 大坂は天下の台所といわれ、中之島に蔵屋敷が並んだ。
- ④ 江戸・京都・大坂はいずれも人口が100万人をこえていた。

文章E

日清戦争の勝利と三国干渉は、政府と政党の関係を大きく変化させた。自由党<sup>(11)</sup>は第2次伊藤博文内閣を公然と支持し、板垣退助を内務大臣として入閣させた。その後を継いだ第2次松方正義内閣も、進歩党と提携して大隈重信を外務大臣として入閣させ軍備を拡張した。1898年には自由党系と進歩党系が合同して(イ)を結成した。

問13 空欄イに入る政党名として最も適当なものを、次の①～④のうちから一つ選べ。

28

- ① 立憲帝政党
- ② 立憲改進黨
- ③ 憲政党
- ④ 帝国党

問14 下線部(11)について述べた文として最も適当なものを、次の①～④のうちから一つ選べ。

29

- ① 日清戦争の講和条約の清側の全権は李鴻章であった。
- ② 日清戦争の講和条約はT. ローズヴェルト大統領の仲介で結ばれた。
- ③ 三国干渉はロシア・アメリカ・フランスによってなされた。
- ④ 三国干渉の結果、日本は台湾を清に返還した。

問15 文章E中の人物について述べた文として最も適当なものを、次の①～④のうちから一つ選べ。

30

- ① 伊藤博文は薩摩藩出身である。
- ② 板垣退助は民撰議院設立建白書を左院に提出した。
- ③ 松方正義は「蛮勇演説」で藩閥政府を擁護した。
- ④ 大隈重信は慶応義塾を設立した。

Ⅲ 次の問1～問10の主題について述べた文として最も適当なものを、次の①～④のうちから一つ選べ。

問 1 中国の史料に書かれた古代日本

31

- ① 『漢書』地理志には光武帝から印を与えられたことが記されている。
- ② 『後漢書』東夷伝には邪馬台国の卑弥呼について記されている。
- ③ 『魏志』倭人伝には紀元前1世紀ころの日本の様子が記されている。
- ④ 『宋書』倭国伝には倭王武の上表文について記されている。

問 2 国風文化

32

- ① 上流階層の住宅に書院造が用いられるようになった。
- ② 雪舟が日本独自の水墨画を確立した。
- ③ 書道では小野道風・藤原佐理・藤原行成が三筆と呼ばれた。
- ④ 紀貫之らによって『古今和歌集』が編集された。

問 3 鎌倉幕府の執権

33

- ① 北条義時は御成敗式目51カ条を制定した。
- ② 北条泰時は執権を補佐する連署をおいた。
- ③ 北条時頼は永仁の徳政令を出した。
- ④ 北条時宗は皇族将軍として宗尊親王を鎌倉に迎えた。

問 4 室町幕府の組織

34

- ① 九州探題を置いた。
- ② 雑訴決断所を置いた。
- ③ 京都に六波羅探題を置いた。
- ④ 鎌倉府の長官は上杉氏が世襲した。

問 5 田沼意次の政治

35

- ① 商工業者の株仲間を積極的に認可した。
- ② 公事方御定書を編纂して裁判や刑罰の基準を定めた。
- ③ 青木昆陽を登用して、甘藷(サツマイモ)を普及させた。
- ④ 石川島に人足寄場をつくって無宿人を収容した。

問 6 江戸時代の学者

36

- ① 新井白石は徳川綱吉の侍講として幕政に関与した。
- ② 荻生徂徠は柳沢吉保・徳川吉宗に用いられた。
- ③ 林羅山は加賀の前田家に用いられた。
- ④ 熊沢蕃山は水戸藩主徳川光圀に仕えた。

問 7 幕末の江戸幕府と諸藩の動き

37

- ① 幕府は代官江川太郎左衛門に命じて伊豆韮山に反射炉を築かせた。
- ② 水戸藩では「おこぜ組」と呼ばれる改革派が財政の再建につとめた。
- ③ 土佐藩では藩主鍋島直正が均田制を実施した。
- ④ 薩摩藩では村田清風が紙・蠟を専売制とした。

問 8 西郷隆盛

38

- ① 征韓論を唱え、萩の乱を起こした。
- ② 岩倉使節団に参加した。
- ③ 明治六年の政変で下野した。
- ④ 明治十四年の政変で参議に任命された。

問 9 大日本帝国憲法

39

- ① 天皇が定めて国民に与える欽定憲法であった。
- ② 主権は国民にあったが，集会や結社の自由は認められなかった。
- ③ 皇位の継承や摂政の制などについて定められていた。
- ④ フランスの法学者ポアソナードを招いて，起草させた。

問10 盧溝橋事件

40

- ① この事件をきっかけに満洲事変が始まった。
- ② 関東軍が南満州鉄道を爆破したことから起こった。
- ③ 第1次近衛文麿内閣成立後に起こった。
- ④ 国際連盟からリットン調査団が派遣された。

IV 次のA～Eをみて，後の問いに答えよ。

A 蝦夷地支配の変遷

年	事 項
1669	(ア)の戦いが起こった。
1792	<u>ロシア特使ラクスマンが根室に来航した。</u> (1)
1802	幕府が東蝦夷地を直轄地にした。
1806	ロシア船が翌年にかけて樺太・択捉などを襲った。
1807	幕府が西蝦夷地を直轄地にした。
1821	<u>幕府が東西蝦夷地を松前藩に還付した。</u> (2)

問 1 空欄アに入る語句として最も適当なものを，次の①～④のうちから一つ選べ。

41

- ① コシャマイン
- ② シャクシャイン
- ③ クナシリ・メナシ
- ④ アテルイ



問 5 下線部(3)について述べた文として最も適当なものを，次の①～④のうちから一つ選べ。

45

- ① 日本はこの条約の調印を拒否した。
- ② 日本は赤道以北の旧ドイツ領南洋諸島の委任統治権を得た。
- ③ 日本が主張した人種差別撤廃案がこの条約に明記された。
- ④ この条約で石井・ランシング協定が破棄された。

問 6 下線部(4)に調印した海軍大臣として最も適当なものを，次の①～④のうちから一つ選べ。

46

- ① 西園寺公望
- ② 山本権兵衛
- ③ 若槻礼次郎
- ④ 加藤友三郎

問 7 下線部(5)について述べた文として最も適当なものを，次の①～④のうちから一つ選べ。

47

- ① この条約の締結で統帥権干犯問題が起きた。
- ② 主力艦・補助艦ともに建造が30年間禁止された。
- ③ この条約の締結に反対した青年に加藤高明首相が刺殺された。
- ④ この条約の締結により，日英同盟協約が終了した。

問 8 Cの人物について述べた文として最も適切なものを，次の①～④のうちから一つ選べ。

48

C



- ① 太閤検地とよばれる全国的な土地調査を行った。
- ② イギリス人ウィリアム＝アダムズを外交顧問にした。
- ③ 海賊取締令を出して倭寇を取り締まった。
- ④ 「天下布武」の印を用いた。

問 9 Dの証書について述べた文として最も適当なものを、次の①～④のうちから一つ選べ。

49

D



- ① 農民が土地売買をする際に、明治政府より発行された。
- ② 地租改正の証書として発行された。
- ③ 華族・士族の秩禄の廃止に当たり、その代償として発行された。
- ④ 廃刀令による士族への身分の保証として発行された。

問10 Eの絵画の作者として最も適当なものを、次の①～④のうちから一つ選べ。

50

E



- ① 横山大観      ② 黒田清輝      ③ 藤島武二      ④ 竹久夢二

2026年度 入学試験問題

一般入試 前期  
〔3教科型・2教科型〕

2月5日

第2限

地 歴・理 科

(日本史探究・世界史探究)

(生物基礎・化学基礎・物理基礎)

注 意 事 項

- 1 試験開始の合図があるまで、この問題冊子を開いてはいけない。
- 2 科目、ページおよび解答番号は、下表のとおりである。  
必ず出願時に申告した科目を解答すること。

科 目	ページ	解答番号
日本史探究	日―1～日―17	1～50
世界史探究	世―1～世―19	1～50
生物基礎	生―1～生―19	1～34
化学基礎	化―1～化―11	1～35
物理基礎	物―1～物―5	1～43

- 3 解答用紙には、受験番号、受験科目および氏名を正しく記入・マークすること。
- 4 解答は解答用紙の解答欄にマークすること。
- 5 試験中にページの脱落等に気付いた場合は、手を挙げて監督者に知らせること。  
解答用紙の汚れ等に気付いた場合も同様である。
- 6 問題冊子は試験終了後、持ち帰ること。

# 日本史探究

I 次の史料A～Dを読み、後の問いに答えよ。

## 史料A

凡そ罪犯せらば、皆事発らむ処の官司にして推断せよ。在京の諸司の人、京及び諸国の人、在京諸司にして事発れば、徒以上犯せらば、(ア)に送れ。杖罪以下は当司決せよ。……

凡そ罪犯せらば、答罪は郡<sup>(1)</sup>決せよ。杖罪以上は、郡断定して国に送れ。……

問 1 空欄アにあてはまる語句として最も適当なものを、次の①～④のうちから一つ選べ。

1

- ① 刑部省            ② 防人司            ③ 弾正台            ④ 兵部省

問 2 下線部(1)について述べた文として最も適当なものを、次の①～④のうちから一つ選べ。

2

- ① 大宝律令では、郡の下に村がおかれた。  
② 郡は50戸で編成された。  
③ 郡司がおかれ、その長官を守といった。  
④ 郡司の役人は、主にかつての国造が任じられた。

問 3 史料Aの出典は『令義解』である。これについて述べた文として最も適当なものを、次の①～④のうちから一つ選べ。

3

- ① 有職故実の変遷についての解説書である。  
② 令の解釈についての解説書である。  
③ 菅野真道が中心となり編纂した。  
④ 惟宗直本が中心となり編纂した。

史料B

一 奉公人、侍・中間・小者・あらし子に至る迄、去る七月奥州江御出勢より以後、新儀二町人百姓二成候者之在らば、其町中地下人として相改、一切をくべからず。……

一 在々百姓等、田畠を打捨、或はあきない、或は賃仕事二罷出る輩之有らば、そのものの事ハ申すに及ばず、地下中御成敗為るべし……

天正十九年八月廿一日……  
(3)

問 4 下線部(2)を行った人物として最も適当なものを、次の①～④のうちから一つ選べ。

4

- ① 上杉謙信      ② 武田信玄      ③ 長宗我部元親      ④ 豊臣秀吉

問 5 下線部(3)の年間に起こった出来事として最も適当なものを次の①～④のうちから一つ選べ。

5

- ① 足利義教がザビエルにキリスト教の布教を許可した。  
② キリシタン大名が少年使節をローマに派遣した。  
③ サン＝フェリペ号事件の翌年、南蛮貿易が停止された。  
④ 正式にオランダやイギリスと貿易を開始した。

問 6 史料Bの内容を述べた文として最も適当なものを、次の①～④のうちから一つ選べ。

6

- ① 去年7月以降に武士から町人や農民となった者を町や村においてはならない。  
② 身分の転向をしたい者は、来年7月までに手続きをなさい。  
③ 農民は土一揆をして、役人を困らせてはならない。  
④ 農民は農耕よりも商売をして経済を活性化させなさい。



問11 史料C中の国家について述べた文として最も適当なものを、次の①～④のうちから一つ選べ。

11

- ① ロシア帝国は甲午農民戦争を契機に満洲を占領した。
- ② 1897年、朝鮮は国号を大韓帝国に改めた。
- ③ 清国は北京議定書により、列国の治外法権を撤廃させた。
- ④ 大久保利通が主導して日露協商条約が結ばれた。

史料D

第一条 本法ニ於テ国家総動員トハ戦時<sup>(4)</sup>(戦争ニ準ズベキ事変ノ場合ヲ含ム以下之二同ジ)ニ際シ国防目的達成ノ為、国ノ全カヲ最モ有効ニ發揮セシムル様、人的及物的資源ヲ統制運用スルヲ謂フ……

第四条 政府ハ戦時ニ際シ国家総動員上必要アルトキハ、勅令ノ定ムル所ニ依リ、帝国臣民ヲ徴用シテ総動員業務ニ従事セシムルコトヲ得<sup>(5)</sup>、但シ兵役法ノ適用ヲ妨ゲズ……

第二十条 政府ハ戦時ニ際シ…新聞紙其ノ他ノ出版物ノ掲載ニ付制限又ハ禁止ヲ為スコトヲ得<sup>(6)</sup>。……

問12 下線部(4)のうち、太平洋戦争について述べた文として最も適当なものを、次の①～④のうちから一つ選べ。

12

- ① アメリカが沖縄本島を奇襲攻撃したことにより開戦した。
- ② 近衛文磨首相は、東条英機陸軍大臣の反対を無視して開戦した。
- ③ 日本は兵力不足により文科系学生を学徒出陣させた。
- ④ 日本はカイロ宣言を受諾し、連合国に敗北した。

問13 下線部(5)の記述に基づいて新たに制定された法令として最も適当なものを、次の①～④のうちから一つ選べ。

13

- ① 工場法
- ② 重要産業統制法
- ③ 国民徴用令
- ④ 鉄道国有法

問14 下線部(6)が適用された出版物として最も適当なものを、次の①～④のうちから一つ選べ。

14

- ① 石川達三『生きてゐる兵隊』                      ② 火野葦平『麦と兵隊』  
③ 三島由紀夫『金閣寺』                              ④ 野坂昭如『火垂るの墓』

問15 史料Dの出典は「国家総動員法」である。その成立時期に関して述べた文として最も適当なものを、次の①～④のうちから一つ選べ。

15

- ① ロンドン海軍軍縮条約調印以前に成立した。  
② 満洲事変中に成立した。  
③ 日中戦争中に成立した。  
④ 日独伊三国同盟結成後に成立した。

Ⅱ 次の文章A～Dの文章を読み、後の問いに答えよ。

文章A

(ア)の聖明王が欽明天皇に經典と仏像を贈ったことが、日本への仏教伝来とされている。ヤマト政権下、仏教の受容について、蘇我氏と物部氏・中臣氏の政治対立が起こった。その対立に、蘇我氏が勝利して、仏教の受容がすすめられた。その後、遣隋使・遣唐使とともに留学僧を派遣して、仏教の新しい知識が日本に持ち帰られるようになった。奈良時代には南都六宗という仏教の学系が形成された。

問 1 空欄アにはいる国名として最も適当なものを、次の①～④のうちから一つ選べ。

16

- ① 百濟                      ② 高句麗                      ③ 新羅                      ④ 渤海

問 2 下線部(1)について述べた文として最も適当なものを、次の①～④のうちから一つ選べ。

17

- ① 推古天皇は小野妹子を遣隋使に任じた。
- ② 遣隋使の犬上御田鍬は、隋で病没した。
- ③ 高向玄理は最初の遣唐使であった。
- ④ 菅原道真の提案により、清和天皇が遣唐使を廃止した。

問 3 下線部(2)にあたるものとして最も適当なものを、次の①～④のうちから一つ選べ。

18

- ① 時宗
- ② 真言宗
- ③ 天台宗
- ④ 法相宗

問 4 文章A中の天皇・豪族について述べた文として最も適当なものを、次の①～④のうちから一つ選べ。

19

- ① 欽明天皇の皇后は、推古天皇である。
- ② 蘇我氏は大王から臣の姓を与えられた。
- ③ 中臣氏は飛鳥寺(法興寺)を建立した。
- ④ 乙巳の変のあと、物部氏は藤原氏となった。

#### 文章B

(イ)の墾田永年私財法の発布で、公地の原則が崩れ、荘園の形成が始まった。10世紀以降、荘園の増加によって朝廷の税収が減少したとして、荘園整理令が発せられた。しかし、荘園の整理は進まなかった。そのため、天皇家などは収入確保のために、荘園の寄進を積極的に受け入れた。

問 5 空欄イにあてはまる年として最も適当なものを、次の①～④のうちから一つ選べ。

20

- ① 710年
- ② 723年
- ③ 743年
- ④ 794年

問 6 下線部(3)について述べた文として最も適当なものを、次の①～④のうちから一つ選べ。

21

- ① 初期荘園は、開墾者とその孫の代まで、不輸が認められた。
- ② 崇徳天皇は長講堂領荘園群を所有していた。
- ③ 寄進地系荘園の実質的支配権を持つものを、受領という。
- ④ 太閤検地により、荘園制が事実上解体された。

問 7 下線部(4)のうち、後三条天皇の発布したものとして最も適当なものを、次の①～④のうちから一つ選べ。

22

- ① 延喜の荘園整理令
- ② 寛徳の荘園整理令
- ③ 延久の荘園整理令
- ④ 天喜の荘園整理令

#### 文章C

平氏政権や鎌倉幕府の時代において、民間の貿易船の往来による日宋貿易が行われ、宋へ渡航した僧侶もいた。宋は北方の騎馬民族の台頭とともに次第に弱体化し、13世紀にはモンゴル部族により元が建国された。元は日本に朝貢を求めたが、鎌倉幕府はそれを無視したため蒙古襲来が起こった。

問 8 下線部(5)について述べた文として最も適当なものを、次の①～④のうちから一つ選べ。

23

- ① 平氏政権を打倒しようと信西らが鹿ヶ谷の陰謀を企てた。
- ② 六波羅に後鳥羽上皇を幽閉し、政治の主導権を握った。
- ③ 政権の基盤は、家人とした東国一帯の武士団であった。
- ④ 政権の基盤は、多くの知行国や荘園からの収入であった。

問 9 下線部(6)について述べた文として最も適当なものを、次の①～④のうちから一つ選べ。

24

- ① 長崎の鴻臚館で貿易が行われた。
- ② 宋との貿易には朱印状が必要とした。
- ③ 日本は銅銭や絹織物を輸入した。
- ④ 日本は綿花や陶磁器を輸出した。

問10 下線部(7)として最も適当なものを、次の①～④のうちから一つ選べ。

25

- ① 一 遍
- ② 栄 西
- ③ 空 海
- ④ 雪 舟

問11 下線部(8)について述べた文として最も適当なものを、次の①～④のうちから一つ選べ。

26

- ① 日本に朝貢要求した皇帝は、チンギス＝ハンである。
- ② 執権の北条泰時は、元の朝貢要求を黙殺した。
- ③ 元軍は博多に上陸し、一時的に大宰府を占領した。
- ④ 蒙古襲来における最初の戦いは、文永の役と呼ばれる。

#### 文章D

18世紀中頃、諸藩で財政危機が生じ、各地で特産品の増産と専売制の強化による財政再建が行われた。また藩校や郷学<sup>(9)</sup>において人材を養成して藩権力の復興を目指した。このような藩政改革で大きな成果を上げた熊本藩、米沢藩、秋田藩の藩主は名君と呼ばれた。さらに19世紀においても藩政改革は行われた。薩摩藩、<sup>(11)</sup>長州藩、土佐藩、肥前藩は藩政改革に成功し財政を再建させた。<sup>(12)</sup>

問12 下線部(9)について述べた文として最も適当なものを，次の①～④のうちから一つ選べ。

27

- ① 京都で伊万里焼が生産された。
- ② 上野桐生で西陣織が生産された。
- ③ 出羽村山で黒砂糖が生産された。
- ④ 野田や銚子で醤油が生産された。

問13 下線部(10)のうち岡山藩の郷学として最も適当なものを，次の①～④のうちから一つ選べ。

28

- ① 閑谷学校
- ② 松下村塾
- ③ 古義堂
- ④ 弘道館

問14 下線部(11)について述べた文として，最も適当なものを次の①～④のうちから一つ選べ。

29

- ① 熊本藩と米沢藩は西国，秋田藩は東国の藩である。
- ② 熊本藩主は譜代大名である。
- ③ 米沢藩は藩儒として高野長英を招いた。
- ④ 秋田藩では藩主佐竹義和が藩政改革を進めた。

問15 下線部(12)の方法として最も適当なものを，次の①～④のうちから一つ選べ。

30

- ① 薩摩藩は対馬を通じた朝鮮との密貿易からの利益を利用した。
- ② 長州藩は下関に越荷方を設置し，商品の委託販売の利益を利用した。
- ③ 土佐藩は坂本龍馬を通じたオランダとの密貿易の利益を利用した。
- ④ 肥前藩は「新選組」と呼ばれる改革派が支出の緊縮を徹底した。

Ⅲ 次の問1～10の主題について述べたものとして最も適当なものを、次の①～④のうちから一つ選べ。

問 1 5世紀以前の日本

31

- ① 縄文時代の大規模集落遺跡に群馬県岩宿遺跡がある。
- ② 弥生時代の人々は、ナウマンゾウなどを狩猟し主食とした。
- ③ 3世紀に邪馬台国の卑弥呼が魏に朝貢した。
- ④ 5世紀に近畿地方で方形周溝墓がつくられはじめた。

問 2 奈良時代・平安時代の文化

32

- ① 天平文化の代表的な仏像に平等院鳳凰堂阿弥陀如来像がある。
- ② 弘仁・貞観期は大陸と交流がなく、日本独自の文化が開花した。
- ③ 国風文化の特徴としてかな文字の発達と女性作家の活躍があげられる。
- ④ 国風文化は日本の伝統的な侘び・寂びの精神を基調とした。

問 3 摂関政治

33

- ① 摂政・関白は藤原京家から選任することが基本だった。
- ② 摂関家の藤原道長は、天皇の外戚として権勢をふるった。
- ③ 宇多天皇のもと、藤原忠平が関白の政治的地位を確立した。
- ④ 後一条天皇は摂関政治を嫌い、大江匡房を登用した。

問 4 鎌倉幕府

34

- ① 源頼朝は御家人に御恩を与え、御家人は奉公でそれに報いた。
- ② 御成敗式目は、女性が家督や所領を相続することを禁止した。
- ③ 承久の乱のあと、比企能員・和田義盛が幕政から排除された。
- ④ 正中の変において、後醍醐天皇が鎌倉幕府を滅亡させた。

問 5 室町幕府

35

- ① 足利尊氏は後小松天皇により征夷大將軍に任じられ、幕府を開いた。
- ② 室町幕府の名は、足利義満が政治を行った邸宅の所在地に由来する。
- ③ 將軍を補佐する管領には、赤松・一色・山名の3氏が任じられた。
- ④ 幕府の重要な財源は、全国の百姓から直接徴収する年貢であった。

問 6 戦国大名と文化

36

- ① 相模の北条氏は学問を奨励し、足利学校を設立した。
- ② 山口の大内氏は中江藤樹を保護し、海南学派を開かせた。
- ③ 薩摩の島津氏は観阿弥を保護し、歌舞伎を完成させた。
- ④ 戦国大名のあいだで茶の湯が流行した。

問 7 江戸幕府と蘭学

37

- ① 寛政異学の禁を出し、洋書の輸入を禁止した。
- ② 蛮書和解御用を設置して、洋書の翻訳を行わせた。
- ③ 蛮社の獄において、蘭学者の青木昆陽を処刑した。
- ④ シーボルトを招聘して、江戸で鳴滝塾を開かせた。

問 8 江戸幕府と開国

38

- ① オランダ国王の開国勧告に、幕府は反対、朝廷は賛成の立場をとった。
- ② 井伊直弼とビッドルが日米修好通商条約を結び国交を開いた。
- ③ 幕府は長崎・箱館・横浜を開港し、居留地貿易を行った。
- ④ 幕府はイギリスの顧問団をまねき、横須賀製鉄所を設立した。

問 9 大正デモクラシーとその時代

39

- ① 矢内原忠雄が大正デモクラシーの理念となる天皇機関説を提唱した。
- ② 吉野作造が民本主義を唱え、大正デモクラシーに影響を与えた。
- ③ 立憲同志会の桂太郎が第一次護憲運動をはじめた。
- ④ 清浦奎吾内閣が男子普通選挙制を導入した。

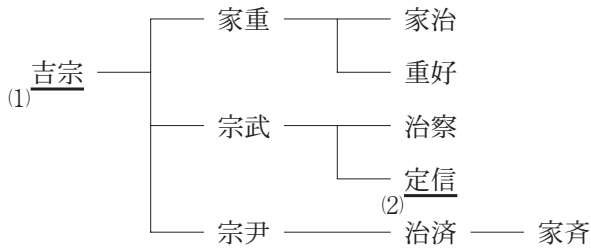
問10 鳩山一郎

40

- ① 日本民主党と自由党を合流させ、自由民主党を結成した。
- ② 所得倍増計画を打ち出し、高度経済成長をもたらした。
- ③ アメリカに沖縄返還を認めさせた。
- ④ 中華人民共和国との国交正常化した。

IV 次のA～Eをみて、問いに答えよ。

A 徳川家の系図



問 1 下線部(1)の業績として最も適当なものを、次の①～④のうちから一つ選べ。

41

- ① 公事方御定書の制定
- ② 参勤交代の廃止
- ③ 七分積金の創設
- ④ 湯島聖堂の建立

問 2 下線部(2)について述べた文として最も適当なものを、次の①～④のうちから一つ選べ。

42

- ① 異国船打払い令を改めて薪水給与令を出した。
- ② 人足寄場を作り、無宿人に職業訓練を行わせた。
- ③ 江戸・大坂周辺を幕領に変更しようとしたが、失敗した。
- ④ 風俗取締令を出し、曲亭馬琴や歌川広重の作品を絶版にした。

問 3 系図A中の人物について述べた文として最も適当なものを、次の①～④のうちから一つ選べ。

43

- ① 吉宗は家康時代への復古を目標として、正徳の政治を行った。
- ② 宗武は御三卿の一つである一橋家をおこした。
- ③ 家重は田沼意次に政治を任せ、側用人から老中に昇格させた。
- ④ 家斉は家治の養子となり、将軍職を継いだ。

#### B 近現代の北海道

年	出来事
1869	<u>開拓使設置</u> (3)
1874	屯田兵制度を制定
1876	札幌農学校を開校
1881	開拓使官有物払下げ事件
1899	北海道旧土人保護法制定
1930	北海道アイヌ協会設立
1950	( ア )
1997	アイヌ文化振興法制定
2019	<u>アイヌ施策推進法制定</u> (4)

問 4 空欄アにあてはまる語句として最も適当なものを、次の①～④のうちから一つ選べ。

44

- ① 札幌オリンピック開催
- ② 洞爺湖サミット開催
- ③ 北海道開発庁設置
- ④ 青函トンネル開通

問 5 下線部③の長官を務めた人物として最も適当なものを、次の①～④のうちから一つ選べ。

45

- ① 岩崎弥太郎
- ② 黒田清隆
- ③ 渋沢栄一
- ④ 森有礼

問 6 下線部(4)について述べた文として最も適切なものを，次の①～④のうちから一つ選べ。

46

- ① アイヌは北海道の先住民であると明記した。
- ② アイヌの居住地域を分離し，日本人と同化しないように保護した。
- ③ アイヌに農地を与え，伝統的な狩猟・漁労による生活を禁じた。
- ④ アイヌ文化を尊重しない者を，刑事処罰することにした。

問 7 年表B中の事項について述べた文として最も適切なものを，次の①～④のうちから一つ選べ。

47

- ① 開拓使は工部省直属の役所で，炭鉱や鉱山を開発した。
- ② 屯田兵制度はロシアに対する北方警備と北海道の開拓を担った。
- ③ 札幌農学校はオランダ式の大農場制度・畜産技術を教えた。
- ④ 開拓使官有物払下げ事件により，第一次伊藤博文内閣が退陣した。

問 8 Cの遺跡の名称として最も適切なものを，次の①～④のうちから一つ選べ。

48

C

著作権上の理由により、WEBサイトには掲載しており  
ません

- ① 吉野ヶ里遺跡
- ③ 百舌鳥古墳群

- ② 吉見百穴
- ④ 大湯環状列石

問 9 Dの浮世絵の主題となっている事柄として最も適当なものを、次の①～④のうちから一つ選べ。

49

D



- ① 富くじ
- ② 見世物小屋
- ③ 秘宝開帳
- ④ 呉服店の初売り

問10 Eの記事の為替レートについて述べた文として、最も適当なものを次の

①～④のうちから一つ選べ。

50

E

The image shows a newspaper clipping with a large, bold headline in the center: **一ドル二百六十圓**. To the left of the headline is a sub-headline: **総司令部指令 あすから実施**. Below the headline and sub-headline are several columns of smaller text, which appear to be news articles or official reports. The text is in Japanese and discusses the exchange rate of the Japanese yen against the US dollar, mentioning the date 1945 and the context of the military administration in Japan.

- ① ドッジにより設定された。
- ② シャウプにより設定された。
- ③ 1945年に開始された。
- ④ プラザ合意で廃止された。

2026年度 入学試験問題

一般入試前期  
〔3教科型・2教科型〕

2月6日

第2限

地

歴・理

科

(日本史探究・世界史探究)

(生物基礎・化学基礎・物理基礎)

注意事項

- 1 試験開始の合図があるまで、この問題冊子を開いてはいけない。
- 2 科目、ページおよび解答番号は、下表のとおりである。  
必ず出願時に申告した科目を解答すること。

科目	ページ	解答番号
日本史探究	日―1～日―16	1～50
世界史探究	世―1～世―23	1～50
生物基礎	生―1～生―18	1～34
化学基礎	化―1～化―12	1～35
物理基礎	物―1～物―5	1～36

- 3 解答用紙には、受験番号、受験科目および氏名を正しく記入・マークすること。
- 4 解答は解答用紙の解答欄にマークすること。
- 5 試験中にページの脱落等に気付いた場合は、手を挙げて監督者に知らせること。  
解答用紙の汚れ等に気付いた場合も同様である。
- 6 問題冊子は試験終了後、持ち帰ること。

# 日本史探究

I 次の史料A～Dを読み、後の問に答えよ。

## 史料A

志癸嶋天皇の御世に、戊午の年の十月十二日に、百齊国の主明王、始めて仏の  
(1) 像経教并せて僧等を度し奉る。勅して蘇我稲目宿禰大臣に授けて興し隆えしむ。  
(2)

問 1 下線部(1)にあたる天皇として最も適当なものを、次の①～④のうちから一つ  
選べ。

1

- ① 欽明天皇      ② 齊明天皇      ③ 推古天皇      ④ 敏達天皇

問 2 下線部(2)に関連して蘇我氏について述べた文として最も適当なものを、次の  
①～④のうちから一つ選べ。

2

- ① 蘇我稲目は物部守屋を滅ぼした。  
② 蘇我馬子は大伴金村を暗殺した。  
③ 蘇我蝦夷は崇峻天皇を暗殺した。  
④ 蘇我入鹿は乙巳の変で滅ぼされた。

問 3 史料Aは『上宮聖徳法王帝説』である。この伝記の主題となっている人物とし  
て最も適当なものを、次の①～④のうちから一つ選べ。

3

- ① 厩戸王      ② 長屋王      ③ 鑑真      ④ 旻

## 史料B

(寿永二年閏十月十三日)……又語りて云く。……抑、東海・東山・北陸三道の  
庄園国領、本の如く領知すべきの由、宣下せらるべきの旨、頼朝申し請ふ。仍て  
宣旨を下さるるの処、北陸道許りは(ア)を恐るるに依り、其の宣旨を成され  
ず。……

問 4 空欄アにあてはまる人名として最も適当なものを、次の①～④のうちから一つ選べ。

4

- ① 清 盛            ② 義 仲            ③ 義 経            ④ 頼 家

問 5 下線部(3)について述べた文として最も適当なものを、次の①～④のうちから一つ選べ。

5

- ① 10世紀初めに、東海・東山・北陸などの七道の行政区分が設定された。  
② 東海道に赴任した経験を、紀貫之が『土佐日記』に書いた。  
③ 東山道において後三年の戦いが起きた。  
④ 北陸道において、藤原純友の乱が起きた。

問 6 下線部(4)について述べた文として最も適当なものを、次の①～④のうちから一つ選べ。

6

- ① 保元の乱で敗北し、伊豆に流された。  
② 平治の乱の功績で、北面の武士になった。  
③ 1192年、征夷大將軍に任じられた。  
④ 1203年、北条時政を執権に任命した。

問 7 史料Bの内容について述べた文として最も適当なものを、次の①～④のうちから一つ選べ。

7

- ① 源頼朝が朝廷と交渉し、鎌倉に公文所を設置することを承認された。  
② 源頼朝が朝廷と交渉し、東海・東山道の支配権を承認された。  
③ 源頼朝が日本全国に守護・地頭を任命する権利を得た。  
④ 源頼朝が平氏討伐資金として、東海・東山道から兵糧米の徴収権を得た。

史料C

今般憲法發布式ヲ举行セラレ、大日本帝国憲法及之二付随スル諸法令ハ昨日ヲ  
(5)以テ公布セラレタリ。……政府ハ常ニ一定ノ政策ヲ取り、超然政党ノ外ニ立チ、  
(6)至正至中ノ道ニ居ラサル可ラス。……

問 8 下線部(5)に関連し、大日本帝国憲法の発布日として最も適当なものを、次の

①～④のうちから一つ選べ。

8

① 1889年2月11日

② 1889年5月3日

③ 1889年11月3日

④ 1890年11月29日

問 9 下線部(6)の内容として最も適当なものを、次の①～④のうちから一つ選べ。

9

① 天皇は神聖不可侵の元首である。

② 政府は国民の自由や権利を制限する法律を発布できない。

③ 帝国議会は衆議院・参議院の二院制とする。

④ 内閣総理大臣と国務大臣は、衆議院議員から選出する。

問10 史料Cを草稿として演説した人物として最も適当なものを、次の①～④のうちから一つ選べ。

10

① 植木枝盛

② 黒田清隆

③ 樺山資紀

④ 福沢諭吉

問11 史料Cの出典は牧野伸顕関係文書である。牧野伸顕について述べた文として最も適当なものを、次の①～④のうちから一つ選べ。

11

① 全権としてヴェルサイユ条約を締結した。

② 血盟団事件で暗殺された。

③ 蔵相として東京渡辺銀行についての失言をし、取り付け騒ぎをおこした。

④ 犬養内閣の蔵相として金輸出再禁止を行った。

史料D

三大国即チ「ソヴィエト」連邦，「アメリカ」合衆国及英国ノ指揮者ハ「ドイツ」国カ降伏シ且「ヨーロッパ」ニ於ケル戦争カ終結シタル後二月又ハ三月ヲ経テ「ソヴィエト」連邦カ左ノ条件ニ依リ連合<sup>(7)</sup>国ニ与シテ日本ニ対スル戦争ニ参加スヘキコトヲ協定セリ……

「ソヴィエト」連邦ハ<sup>(8)</sup>中華民国ヲ日本国ノ羈絆ヨリ解放スル目的ヲ以テ自己ノ軍隊ニ依リ之ニ援助ヲ与フル……



問 1 空欄アに入る天皇として最も適当なものを、次の①～④のうちから一つ選べ。

16

- ① 聖武天皇      ② 淳仁天皇      ③ 光仁天皇      ④ 桓武天皇

問 2 下線部(1)について述べた文として最も適当なものを、次の①～④のうちから一つ選べ。

17

- ① 阿倍仲麻呂は唐の玄宗皇帝に仕え、帰国することなく現地で没した。  
② 阿倍仲麻呂は藤原四子と諂り、長屋王を自殺に追いこんだ。  
③ 玄昉は藤原仲麻呂のもとで右大臣に就き、養老律令の施行に尽力した。  
④ 玄昉は称徳天皇の信任を得て、太政大臣禪師に就いた。

問 3 下線部(2)の期間の出来事として最も適当なものを、次の①～④のうちから一つ選べ。

18

- ① 三世一身の法が発布された。  
② 陸奥国に多賀城が設置された。  
③ 光明子が聖武天皇の皇后に立てられた。  
④ 藤原広嗣の乱が起きた。

#### 文章B

応仁の乱のあと、一向宗(浄土真宗)では、本願寺出身の蓮如<sup>(3)</sup>が畿内・東海・北陸などで教えを広めた。1488年には、門徒らが国人と手を結んで守護(イ)を倒し、加賀を実質的に支配する体制を築いた。この支配は約100年にわたり続き、加賀は「(ウ)の持ちたる国」と称された。

問 4 空欄イに入るものとして最も適当なものを、次の①～④のうちから一つ選べ。

19

- ① 山名宗全      ② 細川勝元      ③ 富樫政親      ④ 朝倉孝景

問 5 空欄ウに入るものとして最も適当なものを、次の①～④のうちから一つ選べ。

20

- ① 公家            ② 百姓            ③ 町人            ④ 武士

問 6 下線部(3)について述べた文として最も適当なものを、次の①～④のうちから一つ選べ。

21

- ① 越前国に吉崎道場を立て、布教活動の拠点とした。  
② 室町幕府の命により、五山十刹の制を整えた。  
③ 將軍足利義教に改宗を勧めたため投獄された。  
④ 村田珠光に禅の精神を教え、侘茶の完成に影響を与えた。

#### 文章C

徳川家綱は徳川家光の長男で、家光の死後、わずか11歳で將軍となった。幼少期には、叔父の(エ)らが政務を補佐した。慶安の変のあとは、末期養子の禁を緩和し、大名家の改易を抑えた。また寛文年間には、<sup>(4)</sup>武家諸法度を新たに発布し、あわせて殉死の禁止を命じた。<sup>(5)</sup>

問 7 空欄エに入るものとして最も適当なものを、次の①～④のうちから一つ選べ。

22

- ① 保科正之            ② 柳沢吉保            ③ 徳川頼房            ④ 徳川頼宣

問 8 下線部(4)について述べた文として最も適当なものを、次の①～④のうちから一つ選べ。

23

- ① 首謀者の由井(比)正雪は、江戸幕府の老中であった。  
② 首謀者の由井(比)正雪は、兵学者であった。  
③ この変の戦火は、「明暦の大火」として知られている。  
④ この変で幕府軍は甚大な被害をこうむり、幕府の権威は失墜した。

問 9 下線部(5)について述べた文として最も適当なものを、次の①～④のうちから一つ選べ。

24

- ① 最初の武家諸法度は将軍徳川秀忠の時代に発布された。
- ② 御成敗式目にならい、最初の武家諸法度は 51 カ条で構成された。
- ③ 第 1 条には、「御恩と奉公」が規定されている。
- ④ 寛文令においては、キリスト教の解禁が明文化された。

文章D

1930 年代の初め、軍人や右翼団体による急進的な国家改造運動が活発化し、<sup>(6)</sup>政財界の要人を狙った事件が相次いだ。1932 年の五・一五事件のあと、元老（オ）の推薦により、穏健派の海軍大将齋藤実が首相に任命され、挙国一致内閣が成立した。これにより、護憲三派内閣<sup>(7)</sup>以来続いていた政党内閣の時代は終わりをむかえた。

問10 空欄オに入るものとして最も適当なものを、次の①～④のうちから一つ選べ。

25

- ① 桂太郎
- ② 西園寺公望
- ③ 加藤友三郎
- ④ 山本権兵衛

問11 下線部(6)について述べた文として最も適当なものを、次の①～④のうちから一つ選べ。

26

- ① 1930 年、浜口雄幸首相が狙撃され重傷を負い、翌年に死亡した。
- ② 1931 年に起きた三月事件の首謀者は、海軍の青年将校であった。
- ③ 1931 年に起きた十月事件ではクーデタが成功し、軍部内閣が成立した。
- ④ 1932 年に起きた血盟団事件では、高橋是清蔵相らが殺害された。

問12 下線部(7)について述べた文として最も適当なものを、次の①～④のうちから一つ選べ。

27

- ① 護憲三派内閣は、治安維持法を廃止して言論の自由を保障した。
- ② 護憲三派内閣は、原敬内閣の総辞職を受けて成立した。
- ③ 護憲三派内閣では、加藤高明が首相をつとめた。
- ④ 護憲三派内閣では、憲政会・立憲政友会・日本社会党が連立を組んだ。

#### 文章E

1972年、田中角栄が「(カ)」を掲げて内閣を組織した。田中首相は同年9月に北京を訪れ、日中共同声明を発表し、日中国交正常化を実現した。その後、1978年には日中平和友好条約がむすばれ、<sup>(8)</sup>両国の経済や文化の交流が深まった。

問13 空欄カに入る人名として最も適当なものを、次の①～④のうちから一つ選べ。

28

- ① 所得倍增計画
- ② 戦後政治の総決算
- ③ 非核三原則
- ④ 日本列島改造論

問14 下線部(8)について述べた文として最も適当なものを、次の①～④のうちから一つ選べ。

29

- ① この条約締結のあと、日韓基本条約が結ばれた。
- ② この条約締結のあと、沖縄返還協定が結ばれた。
- ③ この条約締結時の日本の首相は福田赳夫であった。
- ④ この条約締結時の中国の主席は毛沢東であった。

問15 文章Eに書かれた時期の出来事として最も適当なものを、次の①～④のうちから一つ選べ。

30

- ① 湯川秀樹がノーベル物理学賞を受賞した。
- ② 佐藤栄作がノーベル平和賞を受賞した。
- ③ 第18回オリンピック東京大会が開催された。
- ④ 文化財保護法が公布された。

Ⅲ 次の問1～10の主題について述べたものとして最も適当なものを、次の①～④のうちから一つ選べ。

問1 白村江の戦い

31

- ① 高句麗軍が博多に襲来した。
- ② 隋の煬帝の軍が博多に襲来した。
- ③ 日本は百濟復興支援のために朝鮮半島へ派兵した。
- ④ 日本は戦いに勝利して、新羅を服属させた。

問2 藤原氏

32

- ① 中大兄皇子が臣籍降下して藤原氏の祖となった。
- ② 藤原不比等は氏寺として法隆寺を創建した。
- ③ 藤原葉子が嵯峨天皇に入内し、藤原氏繁栄の基礎を作った。
- ④ 藤原忠平の子孫が摂政・関白の地位を独占した。

問3 南北朝の動乱

33

- ① 後醍醐天皇の北朝、後亀山天皇の南朝が対立した。
- ② 南朝の勢力には、楠木正成・新田義貞・北畠親房らがいた。
- ③ 後醍醐天皇は九州平定のために今川了俊を派遣した。
- ④ 足利義政が南北朝を合体させ、動乱を終わらせた。

問 4 徳川綱吉

34

- ① 生類憐みの令を出した。
- ② 孫娘が明正天皇となった。
- ③ 相对済し令を出した。
- ④ 鎖国を完成させた。

問 5 江戸時代の文化

35

- ① 寛永期の建築物に都久夫須麻神社本殿がある。
- ② 元禄期の産業遺産に伊豆の韭山反射炉がある。
- ③ 宝暦・天明期の画家として喜多川歌麿がいる。
- ④ 文化・文政期の蘭学者として伊藤仁斎がいる。

問 6 琉球

36

- ① 縄文文化の後、オホーツク文化が成立した。
- ② 13世紀、按司の尚巴志が琉球を統一した。
- ③ 琉球王国は東アジア諸国間の中継貿易により繁栄した。
- ④ 琉球王国は佐賀の鍋島氏に征服され、その支配下に入った。

問 7 尊王攘夷運動

37

- ① 井伊直弼が桜田門外の変で尊攘派に殺害された。
- ② 和宮降嫁に反発した尊攘派が安政の大獄で処刑された。
- ③ 八月十八日の政変で、尊攘派の公家が朝廷の実権を握った。
- ④ 京都の尊王攘夷運動を取り締まるため、幕府は天誅組を組織した。

問 8 桂太郎

38

- ① 第一次伊藤内閣の外務大臣として、鹿鳴館外交を展開した。
- ② 第一次桂内閣は尾崎行雄の共和演説事件の責任を取って退陣した。
- ③ 第二次桂内閣は韓国併合条約のあと、鉄道国有法を成立させた。
- ④ 日本の韓国保護国化をアメリカに承認させる桂・タフト協定を結んだ。

問 9 第二次世界大戦後の日本の国際社会復帰

39

- ① サンフランシスコ平和条約により，インドや中国などと講和した。
- ② 1955年，第1回アジア・アフリカ会議の開催国となった。
- ③ 1956年，日ソ共同宣言の後，国際連合へ加入が認められた。
- ④ NATOに加盟し，経済復興を目指した。

問10 女性と法律

40

- ① 明治民法は男女の権利は平等であると規定している。
- ② 治安維持法により，女性の政治集会への参加が禁止された。
- ③ 工場法により，女性の8時間以上の労働が禁止された。
- ④ 1945年，衆議院議員選挙法改正で，女性参政権が認められた。

IV 次のA～Eをみて，後の問いに答えよ。

A 国風文化の詩歌・物語・日記・随筆

作 品	撰者・著者	内容・特徴など
古今和歌集	紀貫之ら	醍醐天皇の命による最初の勅撰和歌集
(ア)	藤原公任	朗詠に適した詩歌約800首を収録
源氏物語	紫式部	光源氏の恋愛・栄華を描いた長編小説
蜻蛉日記	藤原道綱母	妻・母としての苦悩を記した日記文学
枕草子	清少納言	宮中生活の体験を随筆風に記した作品

問 1 空欄アに入る作品として最も適当なものを，次の①～④のうちから一つ選べ。

41

- ① 経国集
- ② 和漢朗詠集
- ③ 梁塵秘抄
- ④ 閑吟集

問 2 表A中の作品で10世紀前半に成立したものはどれか。最も適当なものを、

次の①～④のうちから一つ選べ。

42

- ① 古今和歌集
- ② 源氏物語
- ③ 蜻蛉日記
- ④ 枕草子

問 3 表A中の人物について述べた文として最も適当なものを、次の①～④のうちから一つ選べ。

43

- ① 醍醐天皇の親政は、在位中の元号から天曆の治として知られる。
- ② 紀貫之は能書家で、三跡の一人として知られる。
- ③ 紫式部は後一条天皇の生母である。
- ④ 清少納言は一条天皇の皇后定子に仕えた。

問 4 国風文化について述べた文として適当なものを、次の①～④のうちから一つ選べ。

44

- ① 床の間、違い棚などを特徴とする書院造が貴族の間で流行した。
- ② 絵巻物が全盛期を迎え、『石山寺縁起絵巻』などが作られた。
- ③ 貴族男性は、束帯やそれを簡略化した衣冠を正装として着用した。
- ④ 東大寺南大門に代表される力強い建築様式が流行した。



問 8 Cの建造物の名称として最も適当なものを、次の①～④のうちから一つ選  
べ。

48

C



正倉院宝物

- ① 唐招提寺金堂
- ② 白水阿弥陀堂
- ③ 東大寺正倉院宝庫
- ④ 富貴寺大堂

問 9 Dの立像について述べた文として最も適切なものを，次の①～④のうちから一つ選べ。

49

D



- ① 運慶の作品である。
- ② 一木造による作品である。
- ③ 興福寺が所蔵している。
- ④ 六波羅蜜寺が所蔵している。

問10 Eの彫刻について述べた文として最も適当なものを、次の①～④のうちから一つ選べ。

50

E



Image: TNM Image Archives

- ① 薩摩藩がパリ万国博覧会に出品した作品である。
- ② 工部美術学校で教えたラギーザの作品である。
- ③ 荻原守衛の作品で、ロダンの影響がみられる。
- ④ 高村光雲による木彫りの作品である。

2026年度 一般入試 前期

( 2月 1日 )

問題訂正

日本史探究

日-2 ページ I 問4の選択肢

(誤) ④ …… の 拡大 のため、…

(正) ④ …… の 拡大促進 のため、…

2026年度 一般入試 前期

( 2月 2日 )

問題訂正

日本史探究

教科(科目)名【日本史探究】

日-4 ページ I 問13 の選択肢

(誤) ⑤ 北京

(正) ④ 北京

2026年度 一般入試 前期

( 2月 4日 )

問題訂正

日本史探究

日一2ページ I 問4の問題文

(誤) 下線部(1)について述べた文として…

(正) 下線部(1)に関連して, 高僧について述べた文として…

2026年度 一般入試 前期

( 2月 4日 )

問題訂正

日本史探究

日-2 ページ I 問 6 の選択肢

(誤) ③ 知恩院を建立した。

(正) ③ 浄土宗を開いた。

2026年度 一般入試 前期

( 2月 4日 )

問題訂正

日本史探究

日-9 ページ III 問1の 選扶月支

(誤) ② …… の 卑弥呼 について……

(正) ② …… の 文帝 について……