

2026年度 入学試験問題

一般入試前期
〔3教科型・2教科型〕

2月1日

第2限

地

歴・理

科

(日本史探究・世界史探究)

(生物基礎・化学基礎・物理基礎)

注意事項

- 1 試験開始の合図があるまで、この問題冊子を開いてはいけない。
- 2 科目、ページおよび解答番号は、下表のとおりである。
必ず出願時に申告した科目を解答すること。

科目	ページ	解答番号
日本史探究	日―1～日―15	1～50
世界史探究	世―1～世―18	1～50
生物基礎	生―1～生―21	1～34
化学基礎	化―1～化―9	1～35
物理基礎	物―1～物―5	1～40

- 3 解答用紙には、受験番号、受験科目および氏名を正しく記入・マークすること。
- 4 解答は解答用紙の解答欄にマークすること。
- 5 試験中にページの脱落等に気付いた場合は、手を挙げて監督者に知らせること。
解答用紙の汚れ等に気付いた場合も同様である。
- 6 問題冊子は試験終了後、持ち帰ること。

世界史探究

I 次の文章はギリシアに関するものである。設問にしたがって解答せよ。

紀元前8世紀ごろ、ギリシア人が、強固な愛国心を持つ小さな都市国家をつくった。それがポリスである。各々のポリスは、アクロポリス(城塞)の麓に人々が集住し成立した。各ポリスは独立した国家であり通常は交易を行なっていたが、戦争状態になることもあった。しかし、ギリシア人は自らを「ヘレネス」と呼び、共通の言語と神話、風俗などから、同一民族の意識を有していた。他方ギリシア以外に対する都市国家間の団結は強く、異民族のことを「バルバロイ」と呼んで区別した。

ギリシア人は人口増加による土地不足から、耕地を求めてエーゲ海の島々、小アジアと黒海沿岸などに植民市を建設した。もともと、ギリシアの土地は肥沃ではなかったため、商業活動が活発であり、そのため植民市とも積極的に貿易を行なった。このようにして形成されたポリスのなかでも、特に代表的なものがアテネとスパルタである。

ギリシア人は、経済的な豊かさの中で人間中心の文学や歴史、哲学、美術を生み出した。そしてギリシア文化は、のちにヨーロッパの近代文明の模範とされた。

(1) 下線部(ア)に関連して、古代ギリシアのポリスやその形成について述べた文として誤っているものを、次の①～④のうちから一つ選べ。

1

- ① アクロポリスは、ポリスの祭祀の場であった。
- ② ポリスの市民たちは、クレーロスという私有地を保有していた。
- ③ アクロポリスの麓のアゴラでは、市場や集会が開かれた。
- ④ アテネのアクロポリスにあったパルテノン神殿の柱はイオニア式であった。

(2) 下線部(イ)に関連して、ギリシア人が建設した植民市として正しいものを、次の①～④のうちから一つ選べ。

2

- ① ウィンドボナ
- ② マッサリア
- ③ ルテティア
- ④ ロンディニウム

(3) 下線部(ウ)に関連して、アテネとスパルタについて述べた文として正しいものを、次の①～④のうちから一つ選べ。

3

- ① アテネはイオニア系のポリスで、テミストクレスが民主政治を完成させた。
- ② アテネでは奴隷身分の農民をペリオイコイと呼び、商工業に従事する半自由民をヘイロータイと呼んだ。
- ③ スパルタはドーリア系のポリスで、市民は軍国主義的規律に従って生活し、ギリシア最強の陸軍国をつくった。
- ④ スパルタには領内にラウレイオン銀山があり、貨幣経済が発展していた。

(4) 下線部(エ)に関連して、古代ギリシアの歴史や神話について述べた文として誤っているものを、次の①～④のうちから一つ選べ。

4

- ① ヘロドトスはペルシア戦争を主題にした『歴史』を物語的に記述した。
- ② ホメロスは『イリアス』と『オデュッセイア』を著した。
- ③ トウキディデスはペロポネソス戦争を主題にした『歴史』で、批判的な考察を行った。
- ④ ヘシオドスは『歴史』の中で、「エジプトはナイルのたまもの」と評したことで有名である。

(5) 下線部(オ)に関連して、古代ギリシアの自然哲学者について述べた文として誤っているものを、次の①～④のうちから一つ選べ。

5

- ① 西洋医学の祖とされるデモクリトスは万物の根源を原子とした。
- ② ヘラクレイトスは万物の根源を火とし、「万物は流転する」と述べた。
- ③ イオニア地方のミレトス出身のタレスは、万物の根源を水とした。
- ④ 三平方の定理を発見したとされるピタゴラスは、万物の根源を数とした。

II 次の文章はスペインの植民地に関するものである。設問にしたがって解答せよ。

アメリカ合衆国の独立やフランス革命の影響を受けて、1804年にハイチ共和国

が始まると、ナチス＝ドイツとの秘密協定でソ連が侵攻。1941～44年、今度はドイツに占領され、大規模なホロコーストの現場になった。戦後ソ連への併合が決まったのは1945年2月、米英ソの3首脳が世界を「勢力圏」に分割したヤルタ会談でのことだ。

出典：喜田尚「国が5度代わったこの街で、人道主義が生まれた」『朝日新聞グローブ』（なお、設問の都合上、原文を一部改変した箇所がある）

朝日新聞社に無断で転載することを禁じる 承諾番号「26-0688」

(1) 下線部(ア)に関連して、第一次世界大戦の敗戦国として誤っているものを、次の

①～④のうちから一つ選べ。

11

① オーストリア

② ドイツ

③ イタリア

④ オスマン帝国

(2) 下線部(イ)に関連して、ソ連崩壊後の出来事として正しいものを、次の①～④の

うちから一つ選べ。

12

① マルタ会談

② チョルノービリ(チェルノブイリ)原子力発電所事故

③ 東西ドイツの統一

④ チェチェン紛争

(3) 下線部(ウ)に関連して、オーストリア＝ハンガリー帝国について述べた文として

正しいものを、次の①～④のうちから一つ選べ。

13

① プロイセン＝オーストリア(普墺)戦争に勝利し、ホルシュタインを獲得した。

② フランツ＝ヨーゼフ1世が締結したアウスグライヒにより成立した。

③ デンマーク戦争に敗れるも、「未回収のイタリア」を領有し続けた。

④ コシュートが指導するドイツ関税同盟に北ドイツ連邦と共に参加した。

(4) 下線部(エ)に関連して、ポーランドについて述べた文として誤っているものを、次の①～④のうちから一つ選べ。

14

- ① カトリックを受容し、ヤゲウォ(ヤゲロー)朝がドイツ騎士団を撃破し、繁栄した。
- ② ロシア・プロイセン・オーストリアによって分割され、王国は消滅した。
- ③ コシューシコの指導の下、ポーランド＝ソヴィエト戦争に勝利し、独立を達成した。
- ④ ポズナニ暴動の後、ゴムウカ(ゴムルカ)が改革を指導した。

(5) 下線部(オ)に関連して、ナチス＝ドイツ(ナチ党)に関する以下の出来事を古いものから年代順に並べた時、3番目に当たるものとして正しいものを、次の①～④のうちから一つ選べ。

15

- ① 国会議事堂放火事件
- ② 再軍備宣言
- ③ チェコスロヴァキア解体
- ④ ラインラント進駐

(6) 下線部(カ)に関連して、秘密外交の廃止を主張した「十四カ条」を発表した人物の大統領在任中の事績について述べた文として正しいものを、次の①～④のうちから一つ選べ。

16

- ① 「平和に関する布告」を発表した。
- ② ラテラノ(ラテラン)条約の締結に尽力した。
- ③ ウェストミンスター憲章を発表した。
- ④ 「新しい自由」を掲げ、宣教師外交を展開した。

(7) 下線部(キ)に関連して、戦後、ナチス＝ドイツ(ナチ党)の戦争責任者に対する国際軍事裁判が開かれた都市名として正しいものを、次の①～④のうちから一つ選べ。

17

- ① アウシュヴィッツ
- ② ミュンヘン
- ③ ニュルンベルク
- ④ キール

(8) 下線部(ク)に関連して、アメリカ大統領とその政策との組み合わせとして正しいものを、次の①～④のうちから一つ選べ。

18

- ① ケネディ / 「偉大な社会」計画
- ② ジョンソン / 対テロ戦争
- ③ カーター / 人権外交
- ④ レーガン / ニューフロンティア政策

(9) 下線部(ケ)に関連して、1945年7月に成立したアトリー内閣について述べた文として誤っているものを、次の①～④のうちから一つ選べ。

19

- ① 石炭・鉄道・電気・銀行等を国有化した。
- ② 国民保険法の制定等、「ゆりかごから墓場まで」の福祉の充実を目指した。
- ③ ヨーロッパ経済復興援助計画(マーシャル=プラン)を発表し、ヨーロッパの経済復興を主導した。
- ④ インド等の植民地の独立を認め、エールのイギリス連邦離脱を承認した。

(10) 下線部(コ)に関連して、ヤルタ会談以後に開催された戦後処理に関する首脳会談として正しいものを、次の①～④のうちから一つ選べ。

20

- ① 大西洋上会談
- ② カイロ会談
- ③ テヘラン会談
- ④ ポツダム会談

IV 次の文章は中国古代文明の発祥に関するものである。設問にしたがって解答せよ。

中国大陸北方(華北)での農耕は、前6000年頃に始まる。この時期、黄河の中流域でアワやキビなどの雑穀栽培が行なわれていた。前5000年頃の黄河中流域では、彩文土器(彩陶)を特色とする(ア)文化が現れた。前3000年頃に現れた(イ)文化の時期には、南の長江流域との交流が次第に緊密化していった。磨研土器(黒陶)が黄河下流域を中心に、長江中下流域や山東半島にまで広く出土するこ

とが、そのことを示している。

20世紀半ばに河南省で発見された二里头遺跡は、宮殿跡や祭祀儀礼に使用したとされる玉器や青銅器など王権の誕生を示す文物が発掘されており、現在ではここを伝説の中国最初の王朝である夏王朝の遺跡とみなす説もある。存在が確実視される中国最古の王朝は、前1600年頃に成立した殷王朝である。20世紀前半に王朝後期^(ウ)の遺跡である殷墟が発見されたことによって、その存在が証明された。

前11世紀後半、殷の西方に起こった周王朝^(エ)が殷を滅ぼして華北を支配した(西周)。西周は都を(オ)に置いていたが、前8世紀に王室の後継争いおよび諸侯間の内紛や異民族の犬戎の侵攻によって滅亡し、その後、王族の一人が東の(カ)に都を遷して再興した(東周)。東周以後の周王朝は、天子としての権威を保ちつつも、都の周辺を領有する地方政権に弱体化し、地方を統治する諸侯が勢力をつけて争いあう春秋時代を迎えた。^(キ)

(1) 空欄(ア)と(イ)に入る語の組み合わせとして正しいものを、次の①～④のうちから一つ選べ。

21

- ① ア：仰 韶 / イ：竜 山 ② ア：良 渚 / イ：仰 韶
③ ア：竜 山 / イ：良 渚 ④ ア：竜 山 / イ：仰 韶

(2) 下線部(ウ)に関連して、殷王朝について述べた文として誤っているものを、次の①～④のうちから一つ選べ。

22

- ① 占いによる神権政治が行なわれていた。
② 奴隷や家畜を殉死させる風習があった。
③ 漢字の起源となる甲骨文字が使用された。
④ 精巧な祭祀用鉄器が数多く制作された。

(3) 下線部(エ)に関連して、周王朝について述べた文として誤っているものを、次の

①～④のうちから一つ選べ。

23

- ① 周王は自らを「天子」と称し、殷に代わり、新たに天命を受けた存在であるとした。
- ② 宗族と呼ばれる氏族集団が社会秩序の基礎となり、その規範を宗法によって定めた。
- ③ 諸侯の統制を強化するため、卿・大夫・士を置き、彼らに諸侯の動向を監視させた。
- ④ 周王の一族や功臣、有力氏族の首長を世襲の諸侯とし、彼らに封土を分与し統治を任せた。

(4) 空欄(オ)と(カ)に入る語の組み合わせとして正しいものを、次の①～④のうちから一つ選べ。

24

- ① オ：曲阜 / カ：臨淄
- ② オ：鎬京 / カ：洛邑
- ③ オ：鎬京 / カ：曲阜
- ④ オ：洛邑 / カ：鎬京

(5) 下線部(キ)に関連して、春秋時代について述べた文として正しいものを、次の①～④のうちから一つ選べ。

25

- ① 有力諸侯が覇者となり、尊王攘夷を唱えた。
- ② 諸侯による中央集権的な地方統治の体制(郡県制)が確立した。
- ③ 孔子が主張した法治主義は、以後の中国王朝の統治思想の基盤となった。
- ④ 春秋時代の大国斉では、末期に趙・魏・韓の3国が独立した。

V 次の文章はモンゴルに関するものである。設問にしたがって解答せよ。

モンゴル高原では、9世紀に遊牧民の(ア)の帝国が崩壊したのち、さまざまな勢力が覇権を競い争っていた。そのなかで13世紀に頭角を現したのがテムジン率いるモンゴルである。テムジンは1206年に諸部族長たちにより、君主に選ばれチンギス=ハンと名乗った。その後チンギス=ハン各地に遠征を開始し、西トル

(4) 下線部(エ)に関連して、クビライ(フビライ)や、その時代について述べた文として正しいものを、次の①～④のうちから一つ選べ。

29

- ① ヨーロッパ遠征に派遣されたフレグ(フラグ)がワールシュタットの戦いに勝利した。
- ② クビライに仕えたパクパは授時暦を発明した。
- ③ 高麗軍とともに、鎌倉時代の日本を攻撃した。
- ④ 『世界の記述』を著したイブン=バットウータが都に来訪した。

(5) 下線部(オ)に関連して、元の時代に中国に来訪し、初めてアタナシウス派を伝えた人物として正しいものを、次の①～④のうちから一つ選べ。

30

- ① モンテ=コルヴィノ
- ② プラノ=カルピニ
- ③ ルブルック
- ④ マテオ=リッチ

(6) 下線部(カ)に関連して、朱元璋による改革について述べた文として正しいものを、次の①～④のうちから一つ選べ。

31

- ① 政治最高機関であった軍機処とその長官の丞相を廃止した。
- ② 軍制では、民戸と軍戸に戸籍を分け緑営を編成した。
- ③ 農村では、戸籍台帳である魚鱗図冊や土地台帳である賦役黄冊を整備した。
- ④ 民衆を教化するために儒教思想に基づく六諭をつくった。

(7) 下線部(キ)に関連して、永楽帝について述べた文として正しいものを、次の①～④のうちから一つ選べ。

32

- ① 都を南京から北京に遷都し、紫禁城を造営した。
- ② チベット仏教(ラマ教)の宦官である鄭和に南海大遠征を命じた。
- ③ 科挙を重視し、『古今圖書集成』や『四庫全書』を編纂させた。
- ④ 永楽帝治世末期に李自成の乱が起きた。

(8) 下線部(ク)に関連して、下線部の事件の名称として正しいものを、次の①～④のうちから一つ選べ。

33

- ① 党錮の禁
- ② 靖難の役
- ③ 靖康の変
- ④ 土木の変

(9) 下線部(ケ)に関連して、清王朝の時代の出来事を古いものから年代順に並べた時、3番目に当たるものを次の①～④のうちから一つ選べ。

34

- ① 貿易が広州一港に制限された。
- ② 呉三桂らの三藩の乱の鎮圧に成功した。
- ③ 反清復明を掲げる台湾の鄭氏を滅ぼした。
- ④ ロシアとキャフタ条約を結んだ。

(10) 下線部(コ)に関連して、ジュンガルについて述べた文として正しいものを、次の①～④のうちから一つ選べ。

35

- ① アルタン＝ハンの時代に北京を包囲した。
- ② チャガタイ＝ハンの時代に雍正帝に敗れた。
- ③ チベット仏教の守護者の地位を巡って清と対立した。
- ④ ジュンガルが支配した内モンゴルは新疆と呼ばれた。

VI 次の文章は中国に関するものである。設問にしたがって解答せよ。

中国は、第二次世界大戦における戦勝国として国際的地位が高まったが、対立していた国民党と共産党との内戦が始まった。はじめはアメリカ合衆国から支援を受けた国民党が優位であったが、国民党政権の腐敗に対する民衆の不满を背景に、農民の支持を集めた共産党の人民解放軍が都会の労働者層の支持も獲得して優勢となった。

1949年10月、中国本土を制圧した共産党は、毛沢東を主席に周恩来を首相とする中華人民共和国^(ア)の樹立を宣言した。他方、共産党との戦いに敗れた蒋介石率いる国民党政府(中華民国)は台湾に逃れた。これが「二つの中国」問題^(イ)である。その数か月後、中華人民共和国とソヴィエト連邦は、中ソ友好同盟相互援助条約を締結した。

中華人民共和国の共産党政権は、銀行や工場を国有化し、1953年からは農業の集団化を目指す第一次五カ年計画に着手した。1958年からの第二次五カ年計画では、「大躍進」政策を実施したが、経済は壊滅的な打撃を受ける結果となった。

(ウ)

毛沢東にかわって国家主席となった劉少奇は、急進的な社会主義化を緩和しようとした。しかし、これに反対する毛沢東は1966年にプロレタリア文化大革命を起(ア)こし、社会は大混乱に陥った。

1976年に周恩来と毛沢東が死去して、文化大革命反対派である鄧小平が実権を握ると、文化大革命は終焉を迎え、近代化政策が打ち出されていくことになった。(イ)

(1) 下線部(ア)に関連して、共産党が内戦で勝利することができた理由を述べた文として誤っているものを、次の①～④のうちから一つ選べ。 36

- ① アメリカが国民党への支援を打ち切った。
- ② 共産党が農村部で土地改革を実施して貧者に土地を分け与えて勢力を拡張した。
- ③ 宣伝戦略などにより、共産党は民主と自由の担い手であるという印象を人々に与えた。
- ④ 日中戦争において、共産党が中国を代表する正式な政権と認められた。

(2) 下線部(イ)に関連して、1950年に中華人民共和国を承認した国として正しいものを、次の①～④のうちから一つ選べ。 37

- ① アメリカ
- ② イギリス
- ③ 西ドイツ
- ④ 日本

(3) 下線部(ウ)に関連して、「大躍進」政策(1958年～1962年)について述べた文として誤っているものを、次の①～④のうちから一つ選べ。 38

- ① 農村における「大躍進」政策実行のために編成されたのが人民公社である。
- ② 従来の技術で鉄の増産をはかったが、低品質な製品しかできなかった。
- ③ 急速な社会主義化や飢饉の影響で、農業生産力は大きく低下した。
- ④ 紅衛兵たちが「大躍進」政策に反対する党幹部たちを弾圧した。

- (4) 下線部(エ)に関連して、プロレタリア文化大革命(1966年～1977年)の時期の出来事について述べた文として正しいものを、次の①～④のうちから一つ選べ。

39

- ① 中国の国際連合代表権が中華人民共和国から台湾の中華民国政府に移った。
- ② アメリカのニクソン大統領が中国を訪問し、米中和解が実現した。
- ③ 田中角栄首相が中国を訪問し、日中平和友好条約に調印した。
- ④ カンボジアを支援したベトナムと中越戦争を行なった。

- (5) 下線部(オ)に関連して、「四つの現代化」として誤っているものを、次の①～④のうちから一つ選べ。

40

- ① 言論活動
- ② 工業
- ③ 国防
- ④ 科学技術

VII 次の文章は基軸通貨の歴史に関するものである。設問にしたがって解答せよ。

世界各国の通貨のなかでも、貿易や金融取引で中心的に使われるのが基軸通貨で、その地位はときに移り変わる。最初の基軸通貨といわれるのが、16世紀からスペイン帝国が^(ア)鑄造した「8レアル銀貨」だ。征服した中南米でポトシ銀山などの鉱脈が見つかり、質の高い銀貨が大量につくれるようになった。スペイン銀貨は欧^(イ)州、中国、東南アジア、イスラーム圏など世界で流通するようになる。

^(ウ)州、^(エ)中国、^(オ)東南アジア、イスラーム圏など世界で流通するようになる。
出典：有田哲文「基軸通貨という特権と弊害」『朝日新聞』（なお、設問の都合上、原文を一部改変した箇所がある）

朝日新聞社に無断で転載することを禁じる 承諾番号「26-0668」

- (1) 下線部(ア)に関連して、16世紀のスペインについて述べた文として正しいものを、次の①～④のうちから一つ選べ。

41

- ① ゴア、マラッカ、バタヴィアを占領した。
- ② コルテスがアステカ文明を、ピサロがインカ文明を滅ぼした。
- ③ ユグノー戦争の勝利によりネーデルラント(オランダ)が独立した。
- ④ 無敵艦隊がプレヴェザの海戦でオスマン帝国に勝利した。

(2) 下線部(イ)に関連して、ヨーロッパ諸国の国境変容や新興国の独立について述べた文として誤っているものを、次の①～④のうちから一つ選べ。

42

- ① 9世紀のヴェルダン条約により、フランク王国が3分割された。
- ② 16世紀のカトー＝カンブレジ条約でフランスはイタリアに対する権利を放棄した。
- ③ 17世紀のウェストファリア条約により、スイスとベルギーの独立が承認された。
- ④ 19世紀のサン＝ステファノ条約でルーマニア、セルビア、モンテネグロの独立が承認された。

(3) 下線部(ウ)に関連して、中国の貨幣や税制について述べた文として誤っているものを、次の①～④のうちから一つ選べ。

43

- ① 秦では銅銭である半両銭が用いられた。
- ② 唐代から明代まで、地丁銀制が採用された。
- ③ 宋代には銅銭が日本に輸出された。
- ④ 元では紙幣である交鈔が用いられた。

(4) 下線部(エ)に関連して、第二次世界大戦後のベトナムについて述べた文として正しいものを、次の①～④のうちから一つ選べ。

44

- ① ベトナム独立同盟会の指導者であったバオダイがベトナム民主共和国の初代大統領に就任した。
- ② インドシナ戦争ではディエンビエンフー陥落後、ジュネーブ休戦協定が結ばれるが、フランスが調印しなかった。
- ③ アメリカはゴ＝ディン＝ジエム率いるベトナム共和国を支援し、トンキン湾事件後に北爆を行なった。
- ④ 南ベトナム解放民族戦線と北ベトナム軍によるサイゴン占領を経て、ベトナム(パリ)和平協定が結ばれた。

(5) 下線部(オ)に関連して、イスラーム圏の税制や土地・貨幣制度について述べた文として正しいものを、次の①～④のうちから一つ選べ。

45

- ① 地租としてジズヤが、異教徒にはハラージュが人頭税として課税された。
- ② セルジューク朝ではテマ制が採用された。
- ③ イスラーム圏ではソリドゥス金貨が鑄造され、広く流通した。
- ④ ブワイフ朝がイクター制を創始した。

VIII 以下の写真は世界史に関するものである。設問にしたがって解答せよ。

(1) 次の写真について述べた文として正しいものを、次の①～④のうちから一つ選べ。

46



サイネットフォト

- ① このレリーフを作成した国はヒエログリフを用いた。
- ② レリーフの王はユダ王国の民を都に連行した。
- ③ このレリーフを作成した国は初めてオリエントを統一した。
- ④ このレリーフを作成した国は海の民の侵攻で滅亡した。

- (2) 次の写真に関連して述べた文として正しいものを、次の①～④のうちから一つ選べ。

47



サイネットフォト

- ① 剣奴クラッススが共和政末期に反乱を起こした。
② カラカラ帝が建設した大浴場の跡である。
③ この場所でテオドシウス帝によってキリスト教徒が迫害された。
④ 人々はパンとサーカスを求め、写真の場集った。
- (3) 次の写真の人物について述べた文として正しいものを、次の①～④のうちから一つ選べ。

48



- ① ジロンド派によって処刑された。
② ルイ 15 世の後である。
③ マリア＝テレジアの妹である。
④ ヴァレンヌ逃亡事件を企図した。

(4) 次の絵の作者とされる人物として正しいものを、次の①～④のうちから一つ選べ。

49



- ① 高宗 ② 欽宗 ③ 徽宗 ④ 太宗

(5) 次の写真の新聞記事の発行年として正しいものを、次の①～④のうちから一つ選べ。

50



- ① 1941年 ② 1942年 ③ 1944年 ④ 1945年

2026年度 入学試験問題

一般入試前期
〔3教科型・2教科型〕

2月2日

第2限

地 歴・理 科

(日本史探究・世界史探究)

(生物基礎・化学基礎・物理基礎)

注意事項

- 1 試験開始の合図があるまで、この問題冊子を開いてはいけない。
- 2 科目、ページおよび解答番号は、下表のとおりである。
必ず出願時に申告した科目を解答すること。

科目	ページ	解答番号
日本史探究	日―1～日―17	1～50
世界史探究	世―1～世―22	1～50
生物基礎	生―1～生―16	1～34
化学基礎	化―1～化―10	1～35
物理基礎	物―1～物―5	1～42

- 3 解答用紙には、受験番号、受験科目および氏名を正しく記入・マークすること。
- 4 解答は解答用紙の解答欄にマークすること。
- 5 試験中にページの脱落等に気付いた場合は、手を挙げて監督者に知らせること。
解答用紙の汚れ等に気付いた場合も同様である。
- 6 問題冊子は試験終了後、持ち帰ること。

世界史探究

I 次の文章はイエルサレムの歴史に関するものである。設問にしたがって解答せよ。

イエルサレムの旧市街を見下ろすオリーブ山の上に、イギリスの作家H・G・^(ア)ウェルズが着想したタイム・マシンを据えつけて乗りこみ、^(イ)古代から現代までの約30世紀を数時間でながめたら、と想像してみる。次々に目にする光景がもつ歴史的な意味の重さに、圧倒されるに違いない。

ソロモン王の神殿が立ち現れ、やがて新バビロニアの軍勢に包囲され崩れ落ちる。バビロンに連れ去られた祭司が^(ウ)帰還し、小さな第二神殿が再建され、旧約聖書の編纂が進む。ヘレニズム文化、ローマの支配がもたらされ、^(エ)ヘロデ王が神殿を大改築する。境内で律法学者と議論をかわす^(オ)イエスの姿、近くのゲツセマネの園で起きる同志ユダやペテロの裏切りのドラマ、イエスが十字架に掛けられ「わが神、わが神、なぜわたしをお見捨てになったのですか」と叫んで絶命する歴史の特異点を目にするかもしれない。

出典：船津靖『パレスチナ―聖地の紛争』（なお、設問の都合上、原文を一部改変した箇所がある）

(1) 下線部(ア)に関連して、イエルサレムについて述べた文として誤っているものを、次の①～④のうちから一つ選べ。

1

- ① ユダ王国のダヴィデ王が都とした。
- ② ユダヤ教、キリスト教、イスラーム教の聖地である。
- ③ セルジューク朝の支配から奪回するために十字軍が組織された。
- ④ 第1回十字軍が建設したイエルサレム王国はサラディンに敗れた。

(2) 下線部(イ)に関連して、イギリスの古代文明研究者の名前とその功績の組み合わせとして正しいものを、次の①～④のうちから一つ選べ。

2

- ① シュリーマン／クノッソス遺跡の発掘
- ② ヴェントリス／線文字Bの解読
- ③ エヴァンズ／トロイア(トロヤ)遺跡の発掘
- ④ ランケ／ベルセポリスの発掘

(3) 下線部(ウ)に関連して、新バビロニアについて述べた文として正しいものを、次の①～④のうちから一つ選べ。

3

- ① インド＝ヨーロッパ語系のヘブライ人の国である。
- ② ネブカドネザル2世がイスラエル王国を滅ぼし、バビロン捕囚を行なった。
- ③ リディアと結んでアッシュルバニパル王のアッシリアをうち破った。
- ④ アケメネス朝のキュロス2世に滅ぼされた。

(4) 下線部(エ)に関連して、ヘレニズム文化について述べた文として正しいものを、次の①～④のうちから一つ選べ。

4

- ① エピクロスが禁欲主義を、ゼノンが快楽主義を説いた。
- ② エラトステネスが地球の円周を計測した。
- ③ エウリピデスが太陽中心説を説いた。
- ④ ヘロドトスが『歴史』でペロポネソス戦争を科学的に記述した。

(5) 下線部(オ)に関連して、イタリア半島を統一するまでのローマについて述べた文として誤っているものを、次の①～④のうちから一つ選べ。

5


- ① 元老院を置く共和政が実施された。
- ② 二人のコンスル(執政官)のうち一人が平民から選出されるようになった。
- ③ カエサルが十二表法を制定した。
- ④ ホルテンシウス法により身分闘争が終息した。

Ⅱ 次の図版A・Bと文章は、近代ヨーロッパとアメリカ大陸の歴史的事件を題材に描いた名画に関するものである。設問にしたがって解答せよ。

A



B



Aの絵画は、スペインの画家(ア)の「[1808年5月3日]」である。1808年5月、スペインの首都マドリードで、皇帝ナポレオン1世率いるフランス軍の占領に対する民衆蜂起が起こった。蜂起はフランス軍によって鎮圧され、捕らえた蜂起参加者は処刑された。(ア)は蜂起したマドリード市民が銃殺されている凄惨な場面を描いている。

Bの絵画は、フランスの画家エドゥアール・マネの「皇帝マクシミリアンの処刑」

である。1861年、フアレス率いるメキシコ自由主義派による対外債務の返済停止を口実に、フランス皇帝ナポレオン3世はメキシコへの武力干渉に踏み切り(メキシコ遠征)、^(イ)オーストリア皇帝の弟マクシミリアンをメキシコ皇帝に擁立した。だがメキシコ民衆の抵抗や南北戦争後の^(ウ)アメリカ合衆国の抗議もあって、フランスはメキシコから撤退。残ったマクシミリアンは1867年にメキシコ軍に捕らえられて処刑された。マネの絵はマクシミリアンが銃殺される瞬間を描いたものである。絵はAの構図を踏まえ、銃殺を執行する兵士の制服をフランス軍のそれに似せて描くことで、マクシミリアンの死の原因がナポレオン3世の失策にあることを暗示している。メキシコ遠征の失敗はフランス国内でのナポレオン3世の威信の低下を招き、^(オ)1871年のドイツ＝フランス(独仏)戦争(プロイセン＝フランス戦争)の敗戦によって、ナポレオン3世の第二帝政は崩壊した。

(1) 空欄(ア)に入る人名として正しいものを、次の①～④のうちから一つ選べ。

6

- ① ベラスケス
- ② ゴヤ
- ③ ダヴィド
- ④ ドラクロワ

(2) 下線部(イ)に関連して、ナポレオン3世の第二帝政期について述べた文として誤っているものを、次の①～④のうちから一つ選べ。

7

- ① イギリス・ロシアとともに、ギリシアのオスマン帝国からの独立を支援した。
- ② セーヌ県知事のオスマンに命じてパリの大改造を行なった。
- ③ クリミア戦争でイギリス・オスマン帝国とともにロシアと戦った。
- ④ レセップスの指導でエジプトにスエズ運河が建設された。

(3) 下線部(ウ)に関連して、オーストリアについて述べた文として誤っているものを、次の①～④のうちから一つ選べ。

8

- ① カルロヴィッツ条約でオスマン帝国からハンガリーなどを獲得した。
- ② マリア＝テレジアはオーストリア継承戦争でプロイセンからシュレジエン地方を獲得した。
- ③ 三月革命では、ハンガリーなどで独立・自治を求めるナショナリズム運動が起きた。
- ④ イタリア王国によるイタリア統一後も、トリエステ・南チロル地方は依然領有した。

(4) 下線部(エ)について、このようなアメリカの外交方針を決定づけた文書として正しいものを、次の①～④のうちから一つ選べ。

9

- ① 門戸開放宣言
- ② バルフォア宣言
- ③ 「十四カ条」
- ④ モンロー宣言

(5) 下線部(オ)に関連して、ドイツ＝フランス(独仏)戦争(プロイセン＝フランス戦争)後のフランス・ドイツについて述べた文として誤っているものを、次の①～④のうちから一つ選べ。

10

- ① 戦争に勝利したドイツは、フランスからアルザス・ロレーヌ地方を獲得した。
- ② ドイツ帝国の宰相ビスマルクは国内のカトリック勢力・社会主義者を弾圧した。
- ③ フランスでは第二帝政崩壊後、パリ＝コミューンによる第三共和政が成立した。
- ④ 第三共和政のフランスは、インドシナの植民地化など積極的な対外進出を展開した。

Ⅲ 次の文章は南方熊楠の学びに関するものである。設問にしたがって解答せよ。

南方熊楠は幕末に生まれ、第二次世界大戦中まで生きた生物学者、民俗学者である。…熊楠は大学予備門^(ア)(現在の東京大学)を中退後、1886年末に横浜を出航してアメリカへ向かい、サンフランシスコのパシフィック・ビジネス・カレッジとミシガン州立農学校に在籍するも、いずれも卒業はしなかった。…独学で植物研究にとりくみ、フロリダやキューバにも採集に出かけている。1892年9月にイギリスへ移ると、大英博物館、サウスケンジントン博物館(現在のヴィクトリア&アルバート博物館)、キュー・ガーデン(キュー植物園)などに入出し、多くの研究者たちと交わった。イギリス時代には、人類学、民俗学、東洋学、科学史などに研究対象を広げていったものの、これらについても誰かから直接習ったことはない。大学にも在籍しなかった。

出典：志村真幸『在野と独学の近代』(なお、設問の都合上、原文を一部改変した箇所がある)

(1) 下線部(ア)に関連して、第二次世界大戦の開戦直前のヨーロッパの状況について述べた文として正しいものを、次の①～④のうちから一つ選べ。 11

- ① ミュンヘン会談でポーランド回廊の併合が認められた。
- ② ドイツはローザンヌ条約が禁じていたオーストリア併合を行なった。
- ③ ソ連がポーランドに侵攻した。
- ④ 独ソ不可侵条約が締結された。

(2) 下線部(イ)に関連して、1886年までに勃発・終結していた戦争として誤っているものを、次の①～④のうちから一つ選べ。 12

- ① アメリカ＝イギリス(米英)戦争 ② エジプト＝トルコ戦争
- ③ ロシア＝トルコ戦争 ④ 南アフリカ(南ア、ブール)戦争

(3) 下線部(ウ)に関連して、19世紀後半のアメリカ合衆国について述べた文として誤っているものを、次の①～④のうちから一つ選べ。 13

- ① 移民法が成立し日本を含むアジア系移民が禁止された。
- ② 初の大陸横断鉄道が開通した。
- ③ エディソンが白熱電灯、蓄音機を発明した。
- ④ フロンティアが消滅した。

(4) 下線部(エ)に関連して、1951年のサンフランシスコ講和会議について述べた文として誤っているものを、次の①～④のうちから一つ選べ。 14

- ① 国際連合憲章が採択され、安全保障理事会常任理事国の拒否権が承認された。
- ② 連合国と日本との講和会議で、中国は招かれず、インドは参加しなかった。
- ③ サンフランシスコ平和条約が締結され日本は主権を回復したが、ソ連や東欧諸国は署名しなかった。
- ④ 日本は朝鮮半島・台湾・南樺太・千島を放棄することが明文化され、沖縄・小笠原諸島はアメリカの施政権下におかれた。

(5) 下線部(オ)に関連して、スウェーデンの植物学者で、植物分類の体系化に多大な貢献をした人物として正しいものを、次の①～④のうちから一つ選べ。 15

- ① テュルゴ
- ② リスト
- ③ リンネ
- ④ ケネー

(6) 下線部(カ)に関連して、19世紀のアメリカ合衆国の領土拡大について述べた文として正しいものを、次の①～④のうちから一つ選べ。 16

- ① イギリスよりミシシッピ川以西のルイジアナを買収した。
- ② フランスよりフロリダを買収した。
- ③ カナダよりアラスカを買収した。
- ④ アメリカ＝メキシコ戦争によりカリフォルニアを獲得した。

(7) 下線部(キ)に関連して、キューバの歴史について述べた文として誤っているものを、次の①～④のうちから一つ選べ。

17

- ① 19世紀に独立運動が起こり、アメリカがそれを支援したことからアメリカ＝スペイン戦争が勃発した。
- ② アメリカによる内政干渉等を認めたプラット条項は1930年代に撤廃された。
- ③ バティスタ政権を打倒したカストロが、ラテンアメリカ初の社会主義政権を樹立した。
- ④ キューバ危機はケネディが妥協し、ミサイルを撤去することで回避された。

(8) 下線部(ク)に関連して、イギリスの選挙法改正について述べた文として誤っているものを、次の①～④のうちから一つ選べ。

18

- ① 19世紀前半の第1回選挙法改正で腐敗選挙区が廃止された。
- ② 19世紀後半の第2回・第3回選挙法改正で都市部や農村部の労働者に選挙権が拡大した。
- ③ 20世紀前半の第4回選挙法改正で、男性の財産資格が撤廃され、女性にも選挙権が認められた。
- ④ 20世紀後半の第5回選挙法改正で、男女共に21歳以上の者に参政権が認められた。

(9) 下線部(ケ)に関連して、同博物館の展示品と開設のための収益をもたらした1851年の出来事として正しいものを、次の①～④のうちから一つ選べ。

19

- ① アヘン戦争(の勝利による賠償金)
- ② ロンドン万国博覧会
- ③ スエズ運河会社株買収
- ④ アロー戦争(の勝利による賠償金)

い、その船に便乗して出航し、(カ)、すなわち現在のスマトラ島東岸に近いパレンバン港まで乗船した。

出典：家島彦一『海域から見た歴史 インド洋と地中海を結ぶ交流史』（なお、設問の都合上、原文を一部改変した箇所がある）

(1) 下線部(ア)に関連して、ネストリウス派を異端とした431年の会議の名称として正しいものを、次の①～④のうちから一つ選べ。

21

- ① エフェソス公会議
- ② カルケドン公会議
- ③ コンスタンツ公会議
- ④ トリエント(トレント)公会議

(2) 下線部(イ)に関連して、ササン朝について述べた文として正しいものを、次の①～④のうちから一つ選べ。

22

- ① ホスロー1世はビザンツ皇帝ユスティニアヌスと領土をめぐり抗争した。
- ② 建国者のアルサケスはゾロアスター教を国教とした。
- ③ シャープール1世はトルコ系突厥と組んでエフタルを滅ぼした。
- ④ 領内でマニ教が生まれ、その経典『アヴェスター』が編纂された。

(3) 下線部(ウ)に関連して、グプタ朝について述べた文として正しいものを、次の①～④のうちから一つ選べ。

23

- ① チャンドラグプタ1世は、都をプルシャプラにおいた。
- ② 宮廷詩人カーリダーサが戯曲『ラーマーヤナ』を著した。
- ③ 最盛期の王であるアショーカ王は、磨崖碑や石柱碑を各地につくらせた。
- ④ ナーランダー僧院が創建されて、仏教の教学の拠点となった。

飲み屋からきこえていた。すべてのものは、遠く四方八方から競って集められ、万国みな通じていた。したがって天下の珍奇なものは、皆、市場に集められ、天下の珍味は、悉く調理場に集められ用意されていた。華かな風情は、街路に満ち、にぎやかさは、春遊に限られず、^{しょうこ}簫鼓の音は、家々の夜宴により、空にさわがしくひびいていた。伎巧は、人びとの耳目をおどろかし、ぜいたくな生活は、人びとの心を大きくしていた。……

出典：江上波夫監修『新訳世界史史料・名言集』（なお、設問の都合上、原文を一部改変した箇所がある）

生徒A：ずいぶん楽しそう。「東京」というのはどこでしょう。日本の東京ではありませんよね？

先生：「東京」の「京」とは都のことですから、北宋の都です。東京はその正式名称の一部です。

生徒B：ああそうか。(ア)のことですね！

生徒A：こうした様子が描かれているところからすると、ずいぶん平和な時代が続いたんですかね。

先生：そうですね。これから百年くらい前、北の敵国と講和条約を結びました。

生徒A：澶淵の盟でしたっけ。毎年絹と銀を送る代わりに、^(イ)攻めてこないようにする約束ですね。

生徒B：お金で平和を買ったのですか？

生徒A：それにしても夜も昼もにぎやかな雰囲気ですね！ 宋といえば^(ウ)創始者以来の科挙重視に代表される(エ)で有名ですが、こんな側面もあったんですね。

先生：そうですね。この都ではお店も夜間営業を許され、にぎわっていました。

生徒B：「新しい歌曲」「管弦」など、音楽も印象的だね。

生徒A：授業で習った宋词かな？

生徒B：この時代を代表する文学者で唐宋八大家の一人だった(オ)が作詞したのもあったかな？ 「天下の珍奇なもの」の中には、現在の江西省にある(カ)の磁器もありそうだ。「管弦の音」や「笑い声」があふれる高級料亭なら、茶器にも使われていたのかも。

(5) 下線部(キ)に関連して、宋代の海外貿易について述べた文として正しいものを、次の①～④のうちから一つ選べ。

30

- ① 貿易港は広州のみで行商(公行)が独占していた。
- ② 市舶司が海外との貿易を管理していた。
- ③ 海禁政策の一方で朝貢貿易が行なわれていた。
- ④ 総理各国事務衙門が外交を担当していた。

VI 次の文章はアフリカに関するものである。設問にしたがって解答せよ。

アフリカ東海岸では、8世紀頃からキルワや(ア)などの港市にアラビア半島やイランにルーツを持つムスリム商人が来訪した。彼らはアフリカ内陸部から象牙や奴隷などを購入してイスラーム世界に輸出するインド洋交易^(イ)を活発におこなった。その南方、(ウ)とリンボポ川に挟まれた地域では、13世紀にはグレート＝ジンバブエ(大ジンバブエ)が栄えた。

一方で、アフリカ西岸地域は15世紀以降、ヨーロッパ勢力が来航しはじめた。やがて、イギリスはリヴァプールなどから積み出された銃器や雑貨をアフリカで奴隷と交換し、これを西インド諸島で砂糖やタバコなどと交換してヨーロッパに運ぶ三角貿易を展開した。やがて19世紀に入るとアフリカは列強によって分割された。^(オ)

(1) 空欄(ア)に当てはまる語句として正しいものを、次の①～④のうちから一つ選べ。

31

- ① トンブクトゥ
- ② マリンディ
- ③ メロエ
- ④ モノモタパ

(2) 下線部(イ)に関して、インド洋交易に関連して述べた文として正しいものを、次の①～④のうちから一つ選べ。

32

- ① ムスリム商人たちは主にジャンク船を用い周航した。
- ② 真臘(カンボジア)の外港であるオケオが交易で栄えた。
- ③ 南インドのチョーラ朝やパーンディヤ朝が交易で栄えた。
- ④ ポルトガルはインドのカルカッタに総督府を置いた。

(3) 空欄(ウ)に当てはまる語句として正しいものを、次の①～④のうちから一つ選べ。

33

- ① ニジェール川
- ② ナイル川
- ③ エーヤワディー川
- ④ ザンベジ川

(4) 下線部(エ)に関して、大西洋三角貿易で奴隷を輸出したアフリカの国として正しいものを、次の①～④のうちから一つ選べ。

34

- ① ベニン王国
- ② マリ王国
- ③ アクスム王国
- ④ エチオピア王国

(5) 下線部(オ)に関して、列強のアフリカ分割に関連して述べた文として正しいものを、次の①～④のうちから一つ選べ。

35

- ① イタリアはオスマン帝国に勝利し、チュニジアを植民地化した。
- ② ベルリン＝コンゴ会議の結果、ベルギーはコンゴを確保した。
- ③ イギリスはアフリカ横断政策を目指した。
- ④ フランスはアルジェリアやリビアを植民地にした。

VII 次の文章は蒋介石に関するものである。設問にしたがって解答せよ。

今から約100年前の1926年7月、中国大陸では国民革命軍総司令官の蒋介石が北伐を開始した。蒋介石は1887年10月31日、清の支配する浙江省奉化県にて生ま

れた。彼は日露戦争後の日本に留学し、1年間にわたり新潟県高田の日本陸軍野砲兵連隊の士官候補生として入隊した経験を持つ。辛亥革命が始まると中国に戻り軍事面で活躍した。孫文が国民党を結成すると入党し、孫文死後は後継者となった。

日本が満洲事変以降、中国大陸に侵攻すると、当初は共産党の排除を優先していたが、1936年の西安事件で監禁されると内戦停止を承諾し、日本との戦争を優先させた。日中戦争と第二次世界大戦中は連合国の首脳として戦後の中国の地位を確立させた。

戦後、蒋介石は共産党との対立を再燃させ、1945年10月10日に「双十協定」によって内戦回避では一致し、政治協商会議が開催されたが、協議は決裂し国共内戦が始まった。蒋介石はアメリカの支援を受けて当初は優位な戦いを進めたが、国民の支持を得られず敗北し、台湾に逃れた。その後、台湾で中華民国政府を維持したが、大陸反攻の夢は果たせず1975年に亡くなった。

(1) 下線部ア)に関連して、北伐の前後の出来事を古いものから年代順に並べた時、3番目に当たるものを次の①～④のうちから一つ選べ。

36

- ① 上海クーデタで共産党員が弾圧された。
- ② 瑞金に中華ソヴィエト共和国臨時政府ができた。
- ③ 張作霖が日本軍によって爆殺された。
- ④ 済南事件で日本軍と軍事衝突が起きた。

(2) 下線部イ)に関連して、日露戦争前後の東アジアについて述べた文として正しいものを、次の①～④のうちから一つ選べ。

37

- ① 西太后が滅満興漢を掲げる義和団を支援した。
- ② 日英同盟が締結され、イギリスは光榮ある孤立を放棄した。
- ③ 下関条約により日本は南樺太や東清鉄道の一部を得た。
- ④ 第3次日韓協約に対抗するハーフ密使事件が起きた。

(3) 下線部(ウ)に関連して、辛亥革命について述べた文として正しいものを、次の①～④のうちから一つ選べ。

38

- ① 鉄道国有化宣言に反対する四川暴動が起きた。
- ② 革命後の混乱の中で、胡適が『阿Q正伝』を著した。
- ③ 清王朝滅亡後に北京で中華民国が成立した。
- ④ 中華民国の初代の臨時大総統は袁世凱であった。

(4) 下線部(エ)に関連して、満洲事変から第二次世界大戦にかけての中国について述べた文として正しいものを、次の①～④のうちから一つ選べ。

39

- ① 日本がリットン報告書を不服として国際連盟を脱退した。
- ② 第二次国共合作が成立後に起きた盧溝橋事件で日中両国が衝突した。
- ③ 日中戦争勃発後、蔣介石は汪兆銘と和解し、都を重慶に遷都した。
- ④ 蔣介石はヤルタ会談に参加し、スターリンらと会談を行った。

(5) 下線部(オ)に関連して、台湾は国民党による一党支配が続いていたが、戒厳令解除後に初めて民主的に選ばれた総統として正しいものを、次の①～④のうちから一つ選べ。

40

- ① 陳水扁
- ② 李登輝
- ③ 馬英九
- ④ 蔣経国

VIII 次の文章は産業革命に関するものである。設問にしたがって解答せよ。

イギリスの主要産業は毛織物であったが、インドからイギリスに綿織物が輸入されるようになると、洗濯の容易な綿織物が国内で急速に普及した。綿織物の人気が高まったため、毛織物業者の働きかけにより1700年にはキャラコ(綿織物)輸入禁止法が制定された。

イギリスでは、綿織物に対する需要がたかまったことで、綿織物を中心とした産業革命が起きた。当初はインドや西インド諸島から綿織物の原料を輸入していた。

しかし 1793 年に(イ)が綿繰り機を発明すると、手作業に比べて 50 倍も速く作業が進むことからアメリカ南部の綿花生産高が激増し、イギリスもアメリカ南部の綿花^(ウ)を使って綿織物を生産するようになった。

綿織物の本場であったインドは、安価なイギリスの綿製品にたちうちすることができず、綿花や藍などをイギリスに輸出して工業製品を輸入する立場に転落した。そのため綿産業で栄えたダッカなどの都市では生活苦から餓死者が続出したという。そのような状況下のインドで、1857 年に(エ)が起きた。

中国ではイギリスの綿製品は受け入れられなかった。そこでイギリスは中国にインド産のアヘンの密輸出を始め、中国からの輸入超過の解消をはかった。イギリスから綿製品がインドへ、インドからアヘンが中国へ、中国から茶・絹がイギリスへという三角貿易が確立した。清朝ではアヘン対策として林則徐が広州でのアヘンの没収と廃棄を強行して成果をあげたが、イギリスに会戦の口実を与えることになり、アヘン戦争が始まった。

(オ)

(1) 下線部(ア)に関連して、イギリスの産業革命を可能にした要因について述べた文として誤っているものを、次の①～④のうちから一つ選べ。

41

- ① 第 1 次囲い込みの影響で、土地を失った農民が都市に流入した。
- ② 石炭や鉄など、豊かな資源に恵まれていた。
- ③ 植民地の獲得で広大な市場があった。
- ④ 大西洋三角貿易で得た莫大な富があった。

(2) 空欄(イ)に当てはまる人名として正しいものを、次の①～④のうちから一つ選べ。

42

- ① アークライト
- ② カートライト
- ③ ジョン＝ケイ
- ④ ホイットニー

(3) 下線部(ウ)に関連して、アメリカ合衆国の南北の対立について述べた文として誤っているものを、次の①～④のうちから一つ選べ。

43

- ① 綿工業の盛んなイギリスに栽培した綿花を輸出するため、南部は自由貿易政策を望んだ。
- ② 北部では工業化が進み、イギリスの工業製品に対抗して国内市場を確保するために保護貿易政策が望まれた。
- ③ ミズーリ協定により奴隷州になるか否かはその州に委任されることになった。
- ④ 南北戦争の最中、リンカンにより奴隷解放宣言が出された。

(4) 空欄(エ)に当てはまる語句として正しいものを、次の①～④のうちから一つ選べ。

44

- ① シパーヒーの反乱
- ② マイソール戦争
- ③ カーナティック戦争
- ④ バーブ教徒の乱

(5) 下線部(オ)に関連して、アヘン戦争の結果締結された南京条約で定められた内容として正しいものを、次の①～④のうちから一つ選べ。

45

- ① 広州、福州、厦門、寧波、天津の5港を開港する。
- ② 外国公使の北京駐在を認める。
- ③ キリスト教の布教を認める。
- ④ 香港島を割譲する。

IX 図版を見て，設問にしたがって解答せよ。

- (1) 絵の題材と当時の批評から，のちに「印象派」の名称が生まれたことで知られるモネの作品を，次の①～④のうちから一つ選べ。

46

①



②



③



④



- (2) 写真Aが建てられた時代と、写真Aについて述べた文として正しい組み合わせを、次の①～④のうちから一つ選べ。

47

A



写真：アフロ

【時代】

ア： デリー＝スルタン朝

イ： ムガル帝国

【説明文】

ア： 皇帝が遷都した新都に建てた宮殿である。

イ： 皇帝が愛妃のために建てた廟墓である。

- ① 時代：ア / 説明文：ア ② 時代：ア / 説明文：イ
③ 時代：イ / 説明文：ア ④ 時代：イ / 説明文：イ

- (3) Bはイギリスの女性参政権運動の様子を撮影した写真である。国家として初めて女性参政権を認めた国を次の①～④のうちから一つ選べ。

48

B



- ① アメリカ ② イギリス
③ ニューージーランド ④ フランス

- (4) 写真Cの建物について述べた文として正しいものを、次の①～④のうちから一つ選べ。

49

C



サイネットフォト

- ① フランスにあるルネサンス様式のランス大聖堂である。
② イタリアにあるロマネスク様式のピサの大聖堂である。
③ フランスにあるゴシック様式のシャルトル大聖堂である。
④ ドイツにあるバロック様式のシュパイアー大聖堂である。
- (5) 写真Dについて述べた文として誤っているものを、次の①～④のうちから一つ選べ。

50

D



- ① ナポレオンのエジプト遠征中に発見された。
② 上段が神聖文字、中段が民用文字、下段がギリシア文字である。
③ 神聖文字は主に碑文などに刻まれ、民用文字は主にパピルスに書かれた。
④ ローリンソンが民用文字を手がかりに神聖文字の解読に成功した。

2026年度 入学試験問題

一般入試前期
〔3教科型・2教科型〕

2月4日

第2限

地 歴・理 科

(日本史探究・世界史探究)

(生物基礎・化学基礎・物理基礎)

注意事項

- 1 試験開始の合図があるまで、この問題冊子を開いてはいけない。
- 2 科目、ページおよび解答番号は、下表のとおりである。
必ず出願時に申告した科目を解答すること。

科目	ページ	解答番号
日本史探究	日―1～日―16	1～50
世界史探究	世―1～世―26	1～50
生物基礎	生―1～生―17	1～34
化学基礎	化―1～化―11	1～35
物理基礎	物―1～物―5	1～41

- 3 解答用紙には、受験番号、受験科目および氏名を正しく記入・マークすること。
- 4 解答は解答用紙の解答欄にマークすること。
- 5 試験中にページの脱落等に気付いた場合は、手を挙げて監督者に知らせること。
解答用紙の汚れ等に気付いた場合も同様である。
- 6 問題冊子は試験終了後、持ち帰ること。

世界史探究

I 次の史資料は古代ギリシアに関するものである。設問にしたがって解答せよ。

史資料A^(ア)：ペロポネソス戦争中のペリクレスの葬送演説より

われらの政体は他国の制度を追従するものではない。ひとの理想を追うのではなく、ひとをしてわが範を習わしめるものである。その名は、少数者の独占を排し多数者の公平を守ることを旨として、民主政治と呼ばれる。わが国においては、個人間に紛争が生ずれば、法律の定め^(イ)によってすべての人に平等な発言が認められる。だが一個人が才能の秀でていることが世にわかれば、無差別なる平等の理を排し世人の認めるその人の能力に応じて、公けの高い地位を授けられる。またたとえ貧窮に身を起そうとも、ポリスに益をなす力をもつ人ならば、貧しさゆえに道をとざされることはない。われらはあくまでも自由に公けにつくす道を持ち、また日々互いに猜疑の眼を恐れることなく自由な生活を享受している。よし隣人が己れの楽しみを求めても、これを怒ったり、あるいは実害なしとはいえ不快を催すような冷視を浴せることはない。私の生活においてわれらは互いに制肘を加えることはしない、だが事公けに関するときは、法を犯す振舞いを深く恥じおそれる。時の政治をあずかる者に従い、法を敬い、とくに、侵された者を救う掟と、万人に廉恥の心と呼びさます不文の掟とを、厚く尊ぶことを忘れない。

出典：『西洋古代史料集』東京大学出版会（なお、設問の都合上、原文を一部改変した箇所がある）

史資料B：アリストテレスの資料より

さてペリクレスが民衆を指導している間は国政はまだ善かったが、ペリクレスの死後はずっと悪くなった。というのはこの頃^(ウ)になってはじめて民衆はしかるべき人々の間で評判の好くない者をその指導者としたから。これより以前には絶えずしかるべき人々が民衆の指導者であった。そもそも最初の民衆指導者となったのはソロン

であり、第二にはペイシストラトスで、共に名門に生まれ知名の士であった。

出典：アリストテレス『アテナイ人の国制』（村川堅太郎訳）（なお、設問の都合上、原文を一部改変した箇所がある）

史資料C：東方遠征について残された資料より

ペルシア王国（アケメネス朝のこと）の首都であるペルセポリスを、アレクサンドロ^(エ)スはマケドニア人たちにアジア中の都市で最も敵対的なところだと指摘し、略奪のため王宮以外を兵士たちに与えた。

出典：『西洋古代史料集』東京大学出版会（なお、設問の都合上、原文を一部改変した箇所がある）

(1) 下線部(ア)に関連して、ペロポネソス戦争について述べた文として正しいものを、次の①～④のうちから一つ選べ。

1

- ① この戦争に関する批判的な記述がトゥキディデスの『歴史』にある。
- ② アテネがペロポネソス同盟、スパルタがデロス同盟を率いた。
- ③ スパルタではデーマゴゴスと呼ばれる扇動政治家が出現した。
- ④ カイロネイアの戦いでスパルタが決定的な勝利を収めた。

(2) 下線部(イ)に関連して、古代ギリシアの民主政について述べた文として正しいものを、次の①～④のうちから一つ選べ。

2

- ① 将軍などの例外を除いて役職はくじ引きで決められた。
- ② 20歳以上の男女の市民に政治に参加する権利があった。
- ③ ペリクレスは市民権法に基づき外国人に参政権を開放した。
- ④ 史資料Aによれば、人は能力に関わらずいかなる場合も平等に扱われることになっている。

(3) 下線部(ウ)に関連して、アテネの政治について述べた文として誤っているものを、次の①～④のうちから一つ選べ。

3

- ① ドラコンが初めての成文法を確立した。
- ② クレイステネスが陶片追放制度を確立した。
- ③ ペイシストラトスが僭主政治を行った。
- ④ ウェルギリウスが財産政治を行なった。

(4) 下線部(エ)に関連して、アケメネス朝ペルシアについて述べた文として正しいものを、次の①～④のうちから一つ選べ。

4

- ① ダレイオス1世が建国し、オリエント世界を統一した。
- ② 王の目と王の耳を設置し、サトラップ(知事)を監視させた。
- ③ マラトンの戦いでテミстокレスのアテネ海軍に敗れた。
- ④ 史資料C中のペルセポリスからサルデスまでの王の道を建設した。

(5) 下線部(オ)に関連して、アレクサンドロス大王やその後のヘレニズム世界について述べた文として正しいものを、次の①～④のうちから一つ選べ。

5

- ① アレクサンドロスはプラタイアの戦いでダレイオス3世を破った。
- ② アレクサンドロスは幼少期に家庭教師のプラトンの指導を受けた。
- ③ アレクサンドロスの死後、ディアドコイの争いが起こった。
- ④ セレウコス朝の都アレクサンドリアに王立研究所(ムセイオン)が設置された。

II 次の文章はロシアの南下政策に関するものである。設問にしたがって解答せよ。

19世紀末の日本を悩ませていたのは、巨大国家ロシアの南下政策だった。冬期^(ア)でも凍らない港(不凍港)を手中に収めるために南方^(イ)へ進出するという南下政策は、ロシアにとって国是ともいべき伝統的な政策で、進出先は、中国東北部(旧満洲地域)^(ウ)さらには朝鮮半島に定められていた。その目と鼻の先には、日本列島が位置

している。日本は、このロシアの南下政策に悩まされていたのである。

ロシアの南下政策は、何もこの時期に始まったことではない。19世紀前半以来、ロシアはこの政策を取り続けてきた。だが、うまくいかなかった。ダーダネルス海峡、ボスフォラス海峡、黒海への進出が挫折し(1856年、パリ条約)^(エ)、アドリア海、エーゲ海への進出も不首尾に終わった(1878年、ベルリン条約)^(オ)。中央アジアを南下してのインド洋方面への進出も、イギリス、フランスの両国が植民地を経営しており、諦めざるを得なかったのである。

出典：熊本史雄『外務官僚たちの大東亜共栄圏』（なお、設問の都合上、原文を一部改変した箇所がある）

(1) 下線部(ア)に関連して、19世紀前半のヨーロッパについて述べた文として誤っているものを、次の①～④のうちから一つ選べ。

6

- ① イギリスでは、ラダイト運動やチャーティスト運動が起こった。
- ② フランスでは、ワーテルローの戦いに敗れたナポレオンが諸国民戦争に勝利した。
- ③ ドイツでは、学生団体であるブルシェンシャフト(ドイツ学生同盟)が成立した。
- ④ イタリアでは、カルボナリの蜂起後、マッツィーニの青年イタリアの活動が始まった。

(2) 下線部(イ)に関連して、18世紀のロシアについて述べた文として正しいものを、次の①～④のうちから一つ選べ。

7

- ① ピョートル1世がペテルブルクからモスクワに遷都した。
- ② 清とネルチンスク条約を締結し、モンゴル地域の国境を画定した。
- ③ ステンカ＝ラージン率いる農民反乱が鎮圧された。
- ④ 北方戦争でスウェーデンに勝利し、バルト海の覇権を掌握した。

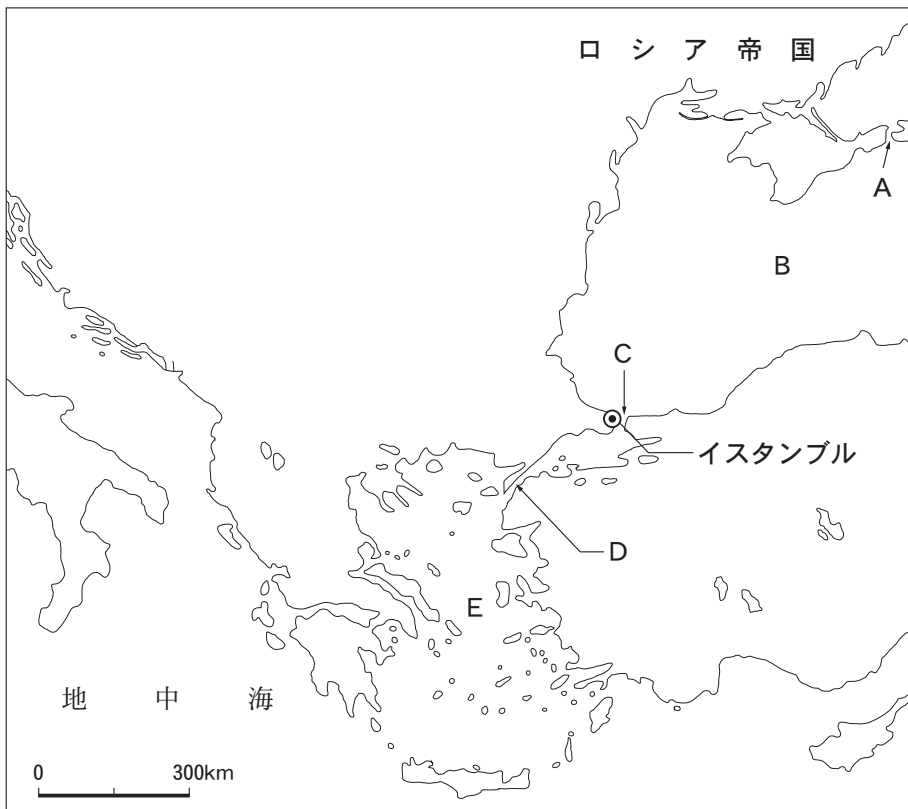
- (3) 下線部(ウ)に関連して、明・清代に中国を訪れたイエズス会宣教師とその業績の組み合わせとして誤っているものを、次の①～④のうちから一つ選べ。

8

- ① カスティリオーネ / 『天工開物』
- ② ブーヴェ / 「皇輿全覧図」
- ③ アダム＝シャル / 『崇禎暦書』
- ④ マテオ＝リッチ / 「坤輿万国全図」

- (4) 下線部(エ)に関連して、以下の地図におけるダーダネルス海峡、ボスフォラス海峡、黒海の正しい位置の組み合わせを次の①～④のうちから一つ選べ。

9



- ① ダーダネルス海峡：D / ボスフォラス海峡：A / 黒海：E
② ダーダネルス海峡：C / ボスフォラス海峡：D / 黒海：B
③ ダーダネルス海峡：A / ボスフォラス海峡：C / 黒海：E
④ ダーダネルス海峡：D / ボスフォラス海峡：C / 黒海：B

(5) 下線部(オ)に関連して、1878年のベルリン会議を開催したビスマルクの事績として誤っているものを、次の①～④のうちから一つ選べ。

10

- ① 近代国家の国民統合のためにカトリック教会の影響力を抑制する文化闘争を推進した。
- ② 皇帝に対する狙撃事件を口実に、社会主義者鎮圧法を制定した。
- ③ 社会保険制度を導入し、国家が災害や疾病に対して国民の労働や生活を保護した。
- ④ 海軍を拡張し、「世界政策」と称される帝国主義政策を先導した。

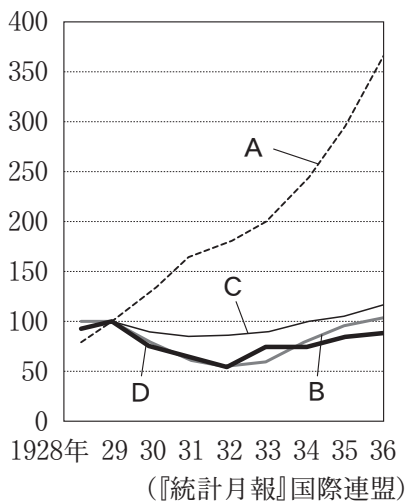
Ⅲ 表1は、アメリカ、イギリス、ドイツ、ロシア(ソ連)と世界に関する製造業生産高指数(1913年を、各々100とする)で、グラフ1は、アメリカ、イギリス、ドイツ、ロシア(ソ連)の恐慌中の工業生産高指数(1929年を、各々100とする)である。表1とグラフ1のA、B、C、Dは同一国である。設問にしたがって解答せよ。

表1：国別の製造業生産高指数(1913年を100とする)

国名	A	B	C	D	(世界)
1913年	100.0	100.0	100.0	100.0	100.0
1920年	12.8	59.0	92.6	122.2	93.2

F. ヒルガート『工業化の世界史』より作成

グラフ1：恐慌中の工業生産高指数(1929年を100とする)



(1) A国における1920年代の出来事について述べた文として正しいものを、次の

①～④のうちから一つ選べ。

11

- ① トロツキーがレーニンとの争いに敗れ、国外に追放された。
- ② 新経済政策(ネップ)によりコルホーズやソフホーズが建設された。
- ③ ラパロ条約でイギリスとの国交を樹立した。
- ④ スターリンが一国社会主義論を主張して実権を掌握した。

(2) B国について述べた文として正しいものを，次の①～④のうちから一つ選べ。

12

- ① 社会民主党の党首シュトレゼマンが，ヴァイマル共和国の初代大統領に就任した。
- ② ヒンデンブルクがレンテンマルクを発行してインフレを鎮静化した。
- ③ フランス・ベルギーによるルール工業地帯の占領に対し，労働者がストライキで抵抗した。
- ④ 世界恐慌後はフーヴァー＝モラトリアムによる経済再建が功を奏した。

(3) C国について述べた文として正しいものを，次の①～④のうちから一つ選べ。

13

- ① 長期におよぶ総力戦にもかかわらず第一次大戦で敗れ経済が停滞した。
- ② 第一次マクドナルド内閣が保守党と労働党との連立で成立した。
- ③ 第4回選挙法改正で，21歳以上の男女の参政権が認められた。
- ④ 独立戦争を経てアイルランド自由国が成立した。

(4) D国の1930年代について述べた文として誤っているものを，次の①～④のうちから一つ選べ。

14

- ① 農業調整法(AAA)により，農産物価格の引き下げのために農民に補助金を支払って生産を拡大させた。
- ② 全国産業復興法(NIRA)により，政府による統制のもとで企業に生産や価格の規制をさせて，産業の回復を図った。
- ③ テネシー川流域開発公社(TVA)は，ダム建設などの地域総合開発により雇用促進を図った。
- ④ 民主党のフランクリン＝ローズヴェルト政権は，南米市場確保のため善隣外交を行なった。

(5) 以下の経済・貿易に関して述べた文を古いものから年代順に並べた時、3番目に当たるものとして正しいものを、次の①～④のうちから一つ選べ。 15

- ① 国際的な自由貿易の維持・拡大を目的として、「関税と貿易に関する一般的協定」(GATT)が調印された。
- ② 世界の自由貿易体制構築をはかる機関として世界貿易機関(WTO)が成立した。
- ③ ブレトン＝ウッズ会議での協定に基づき、国際通貨基金(IMF)と国際復興開発銀行(IBRD)が設立された。
- ④ ヨーロッパの共同市場化と共通経済政策推進のためにヨーロッパ経済共同体(EEC)が発足した。

IV 次の文章はユーゴスラヴィアに関するものである。設問にしたがって解答せよ。

1918年、セルビアを中心に南スラヴ系の諸民族を統合して成立したセルブ＝クロアト＝スロヴェーン王国が1929年にユーゴスラヴィアに改称した。

第二次世界大戦では、ドイツ軍によるバルカン侵攻に降伏して、ユーゴスラヴィアはドイツに占領された。^(ア)しかし、(イ)が率いる共産党が組織したパルチザン部隊により、ドイツから自力で解放することに成功し、1945年に6つの共和国からなるユーゴスラヴィア連邦人民共和国が建国された。ユーゴスラヴィア連邦人民共和国は、社会主義でありながらもソ連とは一線を画した独自の体制を築いた。

^(ウ)1990年、ユーゴスラヴィア連邦加盟の各々の共和国で選挙が実施された結果、^(エ)旧共産主義者同盟系の政党が勝利を収めたのはセルビアとモンテネグロのみで、他の共和国では民族主義的傾向の強い政党が勝利した。連邦の維持について6共和国首脳の話し合いでは合意が得られず、1991年6月にスロヴェニア・クロアチア^(オ)が、同年11月にはマケドニア(現在の北マケドニア)が、翌年3月にはボスニア＝ヘルツェゴヴィナがそれぞれ独立を宣言した。それらに対し連邦維持を望む新ユーゴスラヴィア連邦(セルビアとモンテネグロ)との間に紛争が起きた。

(1) 下線部(ア)に関連して、ドイツの対外政策について述べた文として誤っているものを、次の①～④のうちから一つ選べ。

16

- ① ドイツはロカルノ条約を破棄して、非武装地帯のラインラントに軍隊を進駐させた。
- ② ドイツは「民族自決」を大義名分に掲げ、オーストリアを併合した。
- ③ イギリス・フランス・ドイツ・イタリアはミュンヘン会談を開き、ドイツによるダンツィヒ併合を承認した。
- ④ チェコスロヴァキア解体後、ポーランドにポーランド回廊の権利を要求した。

(2) 空欄(イ)に当てはまる人物として正しいものを、次の①～④のうちから一つ選べ。

17

- ① ティトー
- ② ダラディエ
- ③ バドリオ
- ④ ペタン

(3) 下線部(ウ)に関連して、ユーゴスラヴィア連邦人民共和国について述べた文として正しいものを、次の①～④のうちから一つ選べ。

18

- ① 1947年に結成されたコミンフォルムに参加したが、ソ連から除名された。
- ② 1949年に結成された経済相互援助会議(コメコン)に参加した。
- ③ 1955年に結成されたワルシャワ条約機構に加盟した。
- ④ 非同盟主義を掲げ、1961年には第1回非同盟諸国首脳会議を首都ザグレブで主催した。

(4) 下線部(エ)に関連して、1990年の出来事について述べた文として正しいものを、次の①～④のうちから一つ選べ。

19

- ① イラクがフセイン大統領のもとでイラン＝イラク戦争を起こした。
- ② 東西ドイツが統一され、首都はベルリンに置かれた。
- ③ ウクライナなどがソ連からの離脱を宣言し、連邦を構成していた共和国は独立国家共同体(CIS)を設立し、ソ連は消滅した。
- ④ アルゼンチンとイギリスの間でフォークランド戦争が起こった。

- (5) 下線部(オ)に関連して、スロヴェニア共和国とクロアチア共和国に共通する事項を説明した文A・Bの正誤の組み合わせとして正しいものを、次の①～④のうちから一つ選べ。

20

A：21世紀になってEUに加盟した。

B：独立後は国際連合への加入が認められた。

- ① A：正 / B：正 ② A：正 / B：誤
③ A：誤 / B：正 ④ A：誤 / B：誤

- V 次の文章は古代インドに関するものである。設問にしたがって解答せよ。

アーリヤ人はカイバル峠を越えてインド世界に入り、農耕技術を習得し、ガンジス川流域に進出・定住し、新たなインド社会を形成した。紀元前4世紀、インド最初の統一国家であるマウリヤ朝が成立した。ついで、クシャーナ朝が開かれ、東西交易の中継地点として（イ）うらおった。南インドでも先住民がサータヴァーハナ朝などの諸王朝を建設した。その後、グプタ朝が北インド全域を支配した。7世紀にカナウジを都として（エ）ハルシャ王が北インドの大半を支配したが一代で急速に衰え、その後北インドは、（オ）「王の子」を称する人々が争うラージプート時代と呼ばれる長い混乱の時代を迎えた。

- (1) 下線部(ア)に関して、アーリヤ人の信仰に関する文献で、神々への賛歌をまとめた最古のものとして正しいものを、次の①～④のうちから一つ選べ。

21

- ① 『リグ＝ヴェーダ』 ② 『マヌ法典』
③ 『マハーバーラタ』 ④ 『ウパニシャッド』

(2) 下線部(イ)に関して、マウリヤ朝について述べた文として正しいものを、次の①～④のうちから一つ選べ。

22

- ① 都がプルシャプラに置かれた。
- ② 中国から法顕が来訪した。
- ③ マガダ国を倒したコーサラ国の王朝である。
- ④ 最盛期のアショーカ王は仏教に帰依した。

(3) 下線部(ウ)に関して、クシャーナ朝の時代に栄えた仏教美術の中心地と制作された仏像の写真の組み合わせとして正しいものを選べ。

23

a



写真：アフロ

b



写真：アフロ

- ① アジャンター — a
- ② アジャンター — b
- ③ ガンダーラ — a
- ④ ガンダーラ — b

(4) 下線部(エ)に関して、グプタ朝について述べた文として正しいものを、次の①～④のうちから一つ選べ。

24

- ① チャンドラグプタ 2 世の時代に最盛期をむかえた。
- ② 中央アジアからの突厥の侵入によって衰退した。
- ③ カーリダーサが戯曲『ラーマーヤナ』を著した。
- ④ ナーガールジュナ(竜樹)が大乗仏教を理論化した。

(5) 下線部(オ)に関して、ハルシャ王の時代にインドに来訪した僧とその旅行記の名称の組み合わせとして正しいものを、次の①～④のうちから一つ選べ。

25

- ① 義 淨 — 『南海寄帰内法伝』 ② 義 淨 — 『大唐西域記』
- ③ 玄 奘 — 『南海寄帰内法伝』 ④ 玄 奘 — 『大唐西域記』

VI 次の文章はオスマン帝国に関するものである。設問にしたがって解答せよ。

1300 年頃、アナトリアにトルコ系遊牧民を中心とするオスマン帝国が興った。帝国はバルカン半島にも勢力を拡大し、1396 年には、ニコポリス^(ア)の戦いでハンガリー王率いる連合軍を破り、ドナウ河以南を支配した。1402 年、オスマン帝国はアンカラの戦いでティムール朝に敗れ、一時は滅亡の危機を迎えたが、その後国力を回復し、1453 年^(イ)にメフメト 2 世がビザンツ帝国を征服し、ここに都を遷して(ウ)と称した。

以後も帝国は強大な軍事力で周辺諸国を征服し、領土を拡大した。1514 年、セリム 1 世は、チャルディラーンの戦いでサファヴィー朝を破った。次のスレイマン 1 世の時代、オスマン帝国は最盛期を迎えた。1529 年にハプスブルク家の支配する(オ)を包囲し、1538 年にはプレヴェザの海戦で連合艦隊を撃破するなど、ヨーロッパ・アジア・アフリカにまたがる大帝国に発展し、ヨーロッパ諸国に脅威を与えた。

(1) 下線部(ア)に関連して、オスマン帝国について述べた文として誤っているものを、次の①～④のうちから一つ選べ。

26

- ① 領内に多数居住する非ムスリム(キリスト教徒・ユダヤ教徒)は宗教ごとの共同体を作り、自治が認められた。
- ② 征服したバルカン半島のキリスト教徒の子弟を改宗させ、イエニチェリに登用した。
- ③ バグダードのカリフを保護下に置き、スルタンの称号を得たことで、イスラーム教スンナ派の盟主となった。
- ④ シパーヒー(騎士)に封土を配分して土地の徴税権を与え、封土の広さに応じた規定の兵士数を従軍させた。

(2) 下線部(イ)に関連して、ティムール朝について述べた文として誤っているものを、次の①～④のうちから一つ選べ。

27

- ① サマルカンドに都を置いた。
- ② ティムールは、明への遠征途中に死去した。
- ③ トゥグリル＝ベクが天文台を建設した。
- ④ トルコ系の遊牧民ウズベク人によって滅ぼされた。

(3) 空欄(ウ)に入る語として正しいものを、次の①～④のうちから一つ選べ。

28

- | | |
|------------|----------|
| ① ブカレスト | ② イスタンブル |
| ③ アドリアノーブル | ④ タブリーズ |

(4) 下線部(エ)に関連して、サファヴィー朝について述べた文として誤っているものを、次の①～④のうちから一つ選べ。

29

- ① シーア派の神秘主義教団の指導者イスマーイール1世が建国した。
- ② イランの伝統的な王を意味するシャーの称号を採用した。
- ③ 最盛期のアッバース1世の時代、イスファハーンに遷都した。
- ④ 18世紀にアルメニア人の侵入を受けて滅亡した。

(1) 下線部(ア)に関連して、18世紀から19世紀初めのイギリスの経済政策について述べた文として誤っているものを、次の①～④のうちから一つ選べ。 31

- ① 北米植民地での課税強化のため、出版物や新聞などに課税する印紙法が制定された。
- ② 綿織物などを西アフリカで奴隷と交換し、カリブ海やアメリカ大陸でその奴隷を砂糖やたばこに交換した。
- ③ ボストン茶会事件がきっかけで、茶法が制定された。
- ④ 国産穀物の価格が下がるのを防ぐため、穀物法で輸入穀物に高関税を課していた。

(2) 下線部(イ)に関連して、マカートニーが謁見した清の皇帝として正しいものを、次の①～④のうちから一つ選べ。 32

- ① 乾隆帝
- ② 同治帝
- ③ 雍正帝
- ④ 康熙帝

(3) 下線部(ウ)に関連して、唐と冊封関係にあった国を、次の①～④のうちから一つ選べ。 33

- ① ウイグル
- ② 日本
- ③ 突厥
- ④ 渤海

(4) 下線部(エ)に関連して、18世紀の人口急増の理由として誤っているものを、次の①～④のうちから一つ選べ。 34

- ① アメリカ大陸から伝来したトウモロコシやサツマイモなどが普及して、食糧事情が安定した。
- ② 社会が安定して大規模な戦乱もなく、気候の寒冷化、大きな災害や疫病など、人口減少の要因がなかった。
- ③ 産業革命期を迎え、労働力として多数の賃金労働者が必要とされたため、農村から離農して都市に流入し、都市人口が急増した。
- ④ 人頭税が廃止されたため、戸籍に登録されない人数が減った。

(5) 下線(オ)に関連して、18世紀末に始まった農民反乱として正しいものを、次の

①～④のうちから一つ選べ。

35

① 紅巾の乱

② 三藩の乱

③ 太平天国の乱

④ 白蓮教徒の乱

VIII 次の文章はマンデラの思想に関するものである。設問にしたがって解答せよ。

マンデラの武装闘争の考えに強く影響を与えたのが、カストロのキューバ革命^(ア)であり、フランツ・ファノンが参戦したアルジェリア独立^(イ)であった。…アフリカ諸国の独立には大きく分けて二つの種類があった。ひとつは、西アフリカの多くの国のように、植民地独立プロセスに沿ったプログラムが、比較的穏当に実施された場合である。それに対して、1960～70年代に激しい解放闘争を経験したのが、エジプト^(ウ)のガマール・アブドゥル＝ナセル^(エ)を初めとする北アフリカの運動であり、これが「アルジェリア革命」へとつながる。…マンデラの「和解と赦し」は、非暴力主義からの単純な帰結ではなく、インド^(オ)をモデルにした非暴力主義と、アルジェリアをモデルとした暴力革命の振幅の中で胚胎された。

出典：河野哲也『アフリカ哲学全史』（なお、設問の都合上、原文を一部改変した箇所がある）

(1) 下線部(ア)に関連して、キューバについて述べた文として誤っているものを、次の①～④のうちから一つ選べ。

36

- ① ナポレオン3世の軍事侵攻を退け、キューバではディアスの独裁政権が誕生した。
- ② 「棍棒(こんぼう)外交」を展開するアメリカは、キューバを事実上、保護国化した。
- ③ カストロとゲバラの指導でバティスタ政権が打倒され、キューバ革命が成功した。
- ④ ソ連のミサイル基地建設計画による1962年のキューバ危機は、ケネディとフルシチョフによって回避された。

(2) 下線部(イ)に関連して、アルジェリアについて述べた文として誤っているものを、次の①～④のうちから一つ選べ。

37

- ① 19世紀にシャルル10世がアルジェリアを侵略し、植民地となった。
- ② 第二次世界大戦後、反仏運動が高まり、FLN(民族解放戦線)が武装闘争を展開した。
- ③ 独立をめぐるフランス国内の世論は二分され、第三共和政が崩壊した。
- ④ ドゴールがエヴィアン協定で独立を承認した。

(3) 下線部(ウ)に関連して、1960年に独立した新興国とその宗主国の組み合わせとして誤っているものを、次の①～④のうちから一つ選べ。

38

- ① マダカスカル / フランス ② ナイジェリア / イギリス
- ③ ガーナ / イタリア ④ コンゴ / ベルギー

(4) 下線部(エ)に関連して、エジプトについて述べた文として誤っているものを、次の①～④のうちから一つ選べ。

39

- ① スエズ運河の株をイギリスが買収し、運河の支配権を掌握した。
- ② マフディー運動の鎮圧により、イギリスはスエズ運河地帯の駐屯権を獲得した。
- ③ エジプト王国をナギブとナセルが打倒し、エジプト共和国を建国した。
- ④ ナセルがスエズ運河を国有化し、イスラエルとイギリス、フランスが侵攻した。


(5) 下線部(オ)に関連して、インドの独立に関する以下の出来事を古いものから年代順に並べた時、3番目に当たるものとして正しいものを次の①～④のうちから一つ選べ。

40

- ① 国民会議派ラホール大会でプールナ＝スワラージ(完全独立)が決議された。
- ② ガンディーが「塩の行進」を展開した。
- ③ インド国民会議カルカッタ大会でスワデーシ(国産品愛用)・スワラージ(自治獲得)等の4綱領が掲げられた。
- ④ インド統治法が制定され、ローラット法に抗議する市民が虐殺されるアムリットサル事件が起きた。

IX 次の文章は先生と生徒の会話である。設問にしたがって回答せよ。

先生：では、次の絵を見て下さい。この絵からはどんなことが読み取れますか？



生徒A：奥の方の建造物はおそらくピラミッドだ。その近くで戦っているのはフランス軍かなあ？

生徒B：服装や馬の存在からして、現代の出来事とは思えません。きっと、(X)のエジプト侵攻でしょう。

先生：そうです。(Y)の(Z)との連携を妨害するべく、総裁政府の命令でエジプトに遠征したのです。彼は「兵士諸君！4000年の歴史が諸君を見下ろしている」と言ったと伝えられています。

生徒A：カッコいい！戦っている相手の軍にはターバンを巻いた人がいるね。

生徒B：ターバン…。相手はイスラーム勢力ですか？

生徒A：そうか、この時代は(α)がエジプトを支配していたんだ。

先生：その通りです。(α)の支配下にあったマムルーク中心の軍隊がフランス軍と戦ったのです。

生徒A：なるほど…。このターバンの人物は、フランス軍の兵士たちに比べると、服装が昔ふうですね。

生徒B：近代的なフランス軍が、旧時代の勢力を圧倒する！というメッセージがあるのかもしれないね。

先生：革命後ですから、そうした雰囲気もあったでしょうね。ただ同時に、(X)は古代エジプト文明に対して高い評価をしており、遠征に多くの者を連れて行きました。「エジプト学」という学問はそこからスタートしたのです。

生徒A：古いものを否定するだけでなく、文化的遺産を尊重していたんですね。そう言われてみると、この絵、(X)と古代エジプト文明の偉大さを重ねているようにも見えてきますね。

生徒B：18世紀末のファラオか！彼は自身のことを新たな文明の創始者として描きたかったのかもね。

先生：残念ながら(X)の支配は長続きしませんでした。この遠征のおかげでエジプト文明の研究は飛躍的に進みましたから、その学問的業績は不朽のものといえますね。

(1) 空欄(X), (Y), (Z)に入る語句の組み合わせとして正しいものを, 次の①~④のうちから一つ選べ。

41

- ① X: ナポレオン=ボナパルト Y: イギリス Z: インド
- ② X: ルイ=ナポレオン Y: イギリス Z: 南アフリカ
- ③ X: ルイ=ナポレオン Y: オーストリア Z: 南アフリカ
- ④ X: ナポレオン=ボナパルト Y: オーストリア Z: インド

(2) 下線部(ア)に関して, フランス革命勃発後の出来事として正しいものを, 次の①~④のうちから一つ選べ。

42

- ① 立法議会の時期にジャコバン派が恐怖政治を展開した。
- ② 三部会から離脱した人々は「球戯場の誓い」を行なった。
- ③ 総裁政府の時期にロベスピエールが陰謀事件を企図した。
- ④ 8月10日事件でルイ16世の王権が停止された。

(3) 空欄αの事績として正しいものを, 次の①~④のうちから一つ選べ。

43

- ① メフメト2世の時代にエジプトを支配した。
- ② 19世紀にダンジマートと呼ばれる改革が行われた。
- ③ アブデュルメジト1世がミドハト憲法を制定した。
- ④ トルコマンチャーイ条約でロシアに領土を割譲した。

(4) 下線部(イ)に関して, マムルーク朝の事績として正しいものを, 次の①~④のうちから一つ選べ。

44

- ① イエルサレムを奪回し, 第3回十字軍と戦った。
- ② チンギス=ハンにより滅亡した。
- ③ カイロに都を置き, シーア派のカリフを自称した。
- ④ メッカとメディナを支配した。

(5) 下線部(ウ)に関して，古代エジプト文明について述べた文として正しいものを，
次の①～④のうちから一つ選べ。

45

- ① 最大のピラミッドは新王国時代のクフ王のものである。
- ② 中王国時代，ヒクソスから鉄の製法が伝えられた。
- ③ ロゼッタ石の神聖文字をヴェントリスが解読した。
- ④ 新王国のアメンホテプ4世の時代に写実的なアマルナ美術が栄えた。

X 次の写真は世界史に関わるものである。設問にしたがって回答せよ。

- (1) 下の写真の中央の人物が使節を派遣した時代の中国について述べた文として正しいものを、次の①～④のうちから一つ選べ。


46



- ① 黄河と長江を結ぶ大運河を建設した。
- ② 新羅と結んで百済，高句麗を滅ぼした。
- ③ 郷挙里選による人材登用を始めた。
- ④ 西域から仏図澄らが来訪した。

- (2) 下の写真の左側の軍隊を派遣した中国の国家について述べた文として正しいものを、次の①～④のうちから一つ選べ。

47



- ① 火薬，羅針盤，木版印刷が初めて実用化された。
- ② 大都に都を置き，ジャムチという駅伝制を整備した。
- ③ 会子と呼ばれる紙幣を濫発し，物価の高騰を招いた。
- ④ 清談が流行し，寇謙之が道教を確立した。


- (3) 下の写真の人物が所属していた修道会について述べた文として正しいものを、次の①～④のうちから一つ選べ。

48



- ① モンテ=カシノ修道院を拠点に「祈り、働け」をモットーとした。
② フランスで創設され中世の大開墾運動の中心となった。
③ イグナティウス=ロヨラを総長にパリで結成された。
④ アッシジのフランチェスコが結成した托鉢修道会である。
- (4) 下の写真の絵画の作者として正しいものを、次の①～④のうちから一つ選べ。

49



- ① ミケランジェロ
② レオナルド=ダ=ヴィンチ
③ ジョット
④ ラファエロ

- (5) 下の写真の人物の治績について述べた文として正しいものを、次の①～④のうちから一つ選べ。

50



- ① 大陸封鎖令に反発し、アメリカ＝イギリス戦争を戦った。
- ② 強制移住法により先住民(ネイティブ＝アメリカン)を迫害した。
- ③ ホームステッド法を制定し西部開拓を促進した。
- ④ 門戸開放宣言を提唱し中国進出を図った。

2026年度 入学試験問題

一般入試前期
〔3教科型・2教科型〕

2月5日

第2限

地 歴・理 科

(日本史探究・世界史探究)

(生物基礎・化学基礎・物理基礎)

注意事項

- 1 試験開始の合図があるまで、この問題冊子を開いてはいけない。
- 2 科目、ページおよび解答番号は、下表のとおりである。
必ず出願時に申告した科目を解答すること。

科目	ページ	解答番号
日本史探究	日―1～日―17	1～50
世界史探究	世―1～世―19	1～50
生物基礎	生―1～生―19	1～34
化学基礎	化―1～化―11	1～35
物理基礎	物―1～物―5	1～43

- 3 解答用紙には、受験番号、受験科目および氏名を正しく記入・マークすること。
- 4 解答は解答用紙の解答欄にマークすること。
- 5 試験中にページの脱落等に気付いた場合は、手を挙げて監督者に知らせること。
解答用紙の汚れ等に気付いた場合も同様である。
- 6 問題冊子は試験終了後、持ち帰ること。

世界史探究

I 次の図版A・Bと文章は、古代中国と中世ヨーロッパにおける弓矢を使った戦法に関するものである。設問にしたがって解答せよ。

A



出典：敦煌市博物館所蔵「魏晋李広画像磚」

上の図は、中国の魏晋時代の^{せん}磚(レンガ)に描かれた絵画である。描かれているのは前漢の將軍の李広(李廣)という人物である。司馬遷の歴史書によれば、李広は前漢の武帝に將軍として仕え、遊牧国家の匈奴^(ア)としばしば勇戦し、敵国の匈奴に「漢の飛將軍」と呼ばれ恐れられた名將であった。

この画像磚では、李広が馬上で後ろを振り向きつつ矢を放つ瞬間が描かれている。これは匈奴に限らず古代の^(イ)スキタイ以来、遊牧民に共通する馬上での弓術(騎射)の一種であり、ここで李広は遊牧民の戦法にも熟達していた武將として描かれている。

また西洋では、この戦法を「パルティアン・ショット」(Parthian shot)と呼ぶ。この名称は、古代ローマと戦ったパルティア王国の騎兵がこの戦法を得意としていた^(オ)ことに由来する。

(1) 下線部(ア)の書物の名称として正しいものを、次の①～④のうちから一つ選べ。

1

- ① 『春 秋』
- ② 『資治通鑑』
- ③ 『漢 書』
- ④ 『史 記』

(2) 下線部(イ)に関連して、前漢の武帝について述べた文として正しいものを、次の

①～④のうちから一つ選べ。

2

- ① 呉楚七国の乱を平定して、中央集権体制を確立した。
- ② 班超を西域都護に任命し、西域諸国を服属させた。
- ③ 国家の増収のために均輸法・平準法を実施した。
- ④ 死後に赤眉の乱が起こり、前漢は衰退に向かった。

(3) 下線部(ウ)に関連して、匈奴について述べた文として正しいものを、次の①～④

のうちから一つ選べ。

3

- ① 5世紀の南北朝時代に中国に入り、北魏を建てた。
- ② 秦の始皇帝が侵入に備えて万里の長城を修築した。
- ③ 冒頓単于の時代に分裂し、以後は衰退に向かった。
- ④ 後にヨーロッパに移住し、アヴァール人と呼ばれた。

(4) 下線部(エ)に関連して、スキタイについて述べた文として正しいものを、次の

①～④のうちから一つ選べ。

4

- ① 黒海北方の草原地帯を中心に活動し、ギリシア植民市などと交易した。
- ② 前1500年頃、インダス川流域のパンジャーブ地方に侵入した。
- ③ 初めて鉄製の武器を用い、独特な動物文様や馬具・武具を制作した。
- ④ 前6世紀、新バビロニアを滅ぼし、メソポタミア・イランを支配した。

(5) 下線部(オ)に関連して、パルティア王国について述べた文として正しいものを、次の①～④のうちから一つ選べ。

5

- ① 中国の歴史書では「大秦」と呼ばれた。
- ② セレウコス朝からメソポタミアを奪い、クテシフォンに都を置いた。
- ③ シャープール1世の時、ローマ皇帝ウァレリアヌスを捕虜とした。
- ④ ニハーヴァンドの戦いでイスラーム軍に敗れ、まもなく滅亡した。

B

矢筒



出典：佐藤二葉『アンナ・コムネナ』(なお、設問の都合上、一部を省略している)。

(c) 株式会社星海社/星海社

上の漫画は、ビザンツ帝国(東ローマ帝国)の皇帝アレクシオス1世の長女アンナ・コムネナ^(ア)の生涯を描いた作品である。アンナは後に歴史家として『アレクシアス』を著したことで名高い。『アレクシアス』は、ノルマン人^(イ)・セルジューク朝^(ウ)・十字軍^(エ)などの侵攻や国内の反乱という数々の危機に立ち向かい、帝国を再興させた父

アレクシオス1世の生涯を叙述した歴史書で、11～12世紀のビザンツ帝国の政治・軍事に関する重要な史料となっている。

この場面では、アンナがトルコ人の少年ヨハネス・アクスークと弓の練習をしている場面が描かれている。アクスークの弓術を「異民族(オ)(バルバロイ)っぽいやり方ね」と言うアンナだが、それが合理的な戦法であることも認めており、漫画では異民族の風習に対しても、それがすぐれたものであれば公平に評価することのできる、開かれた精神の持ち主として描かれている。

(6) 下線部(ア)に関連して、ビザンツ帝国について述べた文として誤っているものを、次の①～④のうちから一つ選べ。

6

- ① 都のコンスタンティノープルは、中世ヨーロッパ世界最大の都市として繁栄した。
- ② コンスタンティヌス帝の時、オドアケルの王国を滅ぼして一時的に地中海支配を回復した。
- ③ ユスティニアヌス1世(大帝)は、『ローマ法大全』の編纂やハギア=ソフィア聖堂の建立に力を注いだ。
- ④ 1453年、オスマン帝国のスルタンであるメフメト2世の征服によって滅亡した。

(7) 下線部(イ)に関連して、ノルマン人について述べた文として正しいものを、次の①～④のうちから一つ選べ。

7

- ① 8世紀、ノルマンディー公ウィリアムがアングロ=サクソン人の支配するイングランドを征服した。
- ② 9世紀、アルフレッド大王がイングランド・デンマーク・ノルウェーの王となった。
- ③ 10世紀、キエフ公国のウラディミル1世はキリスト教に改宗しカトリックを受容した。
- ④ 12世紀、地中海のシチリア島と南イタリアを領有するシチリア王国を建国した。

(8) 下線部(ウ)に関連して、セルジューク朝について述べた文として正しいものを、次の①～④のうちから一つ選べ。

8

- ① 宰相のニザーム＝アルムルクは、主要都市にニザーミーヤ学院を設立した。
- ② 軍人への給与に代えて地域の徴税権を与えるイクター制を初めて導入した。
- ③ シーア派として初めてバグダードのカリフからスルタンの称号を与えられた。
- ④ イェニチェリと呼ばれる常備軍を組織し、西アジア地域の支配を拡大した。

(9) 下線部(エ)に関連して、十字軍について述べた文として正しいものを、次の①～④のうちから一つ選べ。

9

- ① クレルモン宗教会議で教皇ウルバヌス2世が聖地回復のために提唱した。
- ② 第1回十字軍は、エジプトの мамルーク朝を破り、イエルサレム王国を建国した。
- ③ 第3回十字軍は、イングランド王ジョンやフランス王フィリップ2世らが参加した。
- ④ 第4回十字軍は、ジェノヴァの要望により、ビザンツ帝国を征服してラテン帝国を建てた。

(10) 下線部(オ)に関連して、古代ギリシア人の蔑称に由来する「バルバロイ」という語の意味として正しいものを、次の①～④のうちから一つ選べ。

10

- ① どこから来たか分からない者
- ② 粗暴で醜悪な者
- ③ わけの分からない言葉を話す者
- ④ 無教養な異教徒

Ⅱ 次の文章は主に近世から現代にかけてのネーデルラントに関するものである。設問にしたがって解答せよ。

中世末期のヨーロッパでは都市が発達し、そこからルネサンスと呼ばれる新たな文化の潮流が生まれた。ルネサンスは、古代ローマの伝統や遺産があり、地中海貿易で豊かになっていたイタリアでまず開花した。ルネサンスは南北ヨーロッパ商業の中継地として栄えたネーデルラントでも早くから発展し、他の国や地域にも広まった(北方ルネサンス)。例えば、ブリューゲルは16世紀の北方ルネサンスを代表する画家である。

商業の発達したネーデルラントにはカルヴァン派の新教徒が多かったが、この地域を支配していたフェリペ2世の政策に反乱が起こった。特に北部7州(現在のオランダにあたる地域)は、同盟を結んで結束を確認し抵抗を続け、1581年ネーデルラント連邦共和国の独立を宣言した。

オランダは海洋国家であり、(ケ)に拠点を設け、一時台湾も支配するなど、アジアでの交易で莫大な利益をあげた。文化や科学の分野でもオランダは17世紀前半に全盛期を迎え、近代的な自然科学が発展した。その後、イングランドとの戦争やフランスの侵攻によってオランダは弱体化し黄金時代は終わった。

オランダは19世紀、ウィーン議定書により領土の変更と、立憲君主制への政治体制の移行がなされた。第二次世界大戦中は、ドイツの占領を受けるが、戦後、再び独立を回復して1958年には、フランスの外相(ス)の提案で、フランス・西ドイツ・ベネルクス3国・イタリアはEECを発足させた。EECは、経済統合の対象をすべての製品やサービスに拡大し、関税の相互引下げ、共同の商業・農業政策、資本・労働力移動の自由化を目指し、ECへと発展した。さらに1993年11月には域内市場を完成させてEU(ヨーロッパ連合)が正式に発足した。オランダはEU発足以来の加盟国として小さいながらも西欧の中核として重要な役割を果たしている。

- (1) 下線部(ア)に関連して、フィレンツェにあるルネサンス様式の建築物とその設計者の組み合わせとして正しいものを、次の①～④のうちから一つ選べ。

11

- ① ブラマンテ／サンタ＝マリア大聖堂
- ② ブラマンテ／サン＝ピエトロ大聖堂
- ③ ブルネレスキ／サンタ＝マリア大聖堂
- ④ ブルネレスキ／サン＝ピエトロ大聖堂

- (2) 下線部(イ)に関連して、メディチ家に庇護され、「春」や「ヴィーナスの誕生」を描いた人物として正しいものを、次の①～④のうちから一つ選べ。

12

- ① ラファエロ
- ② レオナルド＝ダ＝ヴィンチ
- ③ ボッティチェリ
- ④ ミケランジェロ

- (3) 下線部(ウ)に関連して、中世の時代に南北ヨーロッパの交易の中継地で、トロワなどの都市で定期市が開かれたフランス北東部の地域として正しいものを、次の①～④のうちから一つ選べ。

13

- ① ブルゴーニュ
- ② ノルマンディー
- ③ シャンパーニュ
- ④ ブルターニュ

- (4) 下線部(エ)に関連して、北方ルネサンスに関係する人物とその作品の組み合わせとして正しいものを、次の①～④のうちから一つ選べ。

14

- ① チョーサー／『カンタベリ物語』
- ② トマス＝モア／『ガルガンチュアとパンタグリユエル』
- ③ ホルバイン／『ドン＝キホーテ』
- ④ エラスムス／『キリスト者の自由』

- (5) 下線部(オ)に関連して、ブリューゲルとその作品の組み合わせとして正しいものを、次の①～④のうちから一つ選べ。

15

A



B



- | | |
|-----------|-----------|
| ① 農民の踊り—A | ② 農民の踊り—B |
| ③ 四人の使徒—A | ④ 四人の使徒—B |

- (6) 下線部(カ)に関連して、ネーデルラントのカルヴァン派の呼称として正しいものを、次の①～④のうちから一つ選べ。

16

- | | |
|------------|--------|
| ① プレスビテリアン | ② ゴイセン |
| ③ ピューリタン | ④ ユグノー |

(7) 下線部(キ)に関連して、フェリペ2世の治績として正しいものを、次の①～④のうちから一つ選べ。

17

- ① スレイマン1世による第一次ウィーン包囲を退けた。
- ② ルター派のシュマルカルデン同盟とのシュマルカルデン戦争に勝利した。
- ③ レパントの海戦でオスマン帝国海軍に敗北した。
- ④ エリザベス1世と対立し無敵艦隊(アルマダ)を派遣した。

(8) 下線部(ク)に関連して、ネーデルラントの北部7州が同盟を結成した場所として正しいものを、次の①～④のうちから一つ選べ。

18

- ① アムステルダム
- ② アントウェルペン
- ③ ハーグ
- ④ ユトレヒト

(9) 空欄(ケ)に当てはまる語句として正しいものを、次の①～④のうちから一つ選べ。

19

- ① ポンディシエリ
- ② バタヴィア
- ③ シャンデルナゴル
- ④ ゴア

(10) 下線部(コ)に関連して、オランダ出身のユダヤ人で汎神論を説いた人物として正しいものを、次の①～④のうちから一つ選べ。

20

- ① スピノザ
- ② グロティウス
- ③ ライプニッツ
- ④ ハーヴェー

(11) 下線部(サ)に関連して、ウィーン議定書による領土や政治体制の変更について述べた文として正しいものを、次の①～④のうちから一つ選べ。

21

- ① オランダはケープ植民地を獲得した。
- ② ロシアはフィンランドを獲得した。
- ③ ドイツでは神聖ローマ帝国が復活した。
- ④ イギリスはキプロス島の行政権を得た。

(12) 下線部(シ)に関連して、ナチ党が支配するドイツについて述べた文として正しいものを、次の①～④のうちから一つ選べ。

22

- ① ミュンヘン会談の結果、オーストリアを併合した。
- ② エチオピアに侵攻し植民地化した。
- ③ 国会議事堂放火事件を契機に共産党を非合法化した。
- ④ ロカルノ条約を破棄し、アルザス・ロレーヌに進駐した。

(13) 空欄(ス)に当てはまる語句として正しいものを、次の①～④のうちから一つ選べ。

23

- ① ド＝ゴール
- ② バドリオ
- ③ ブリアン
- ④ シューマン

(14) 下線部(セ)に関連して、1973年の拡大 EC に際して加盟した国家として正しいものを、次の①～④のうちから一つ選べ。

24

- ① ポルトガル
- ② スペイン
- ③ イギリス
- ④ オーストリア

(15) 下線部(ソ)に関連して、EU について述べた文として誤っているものを、次の①～④のうちから一つ選べ。

25

- ① 現在の加盟国は全て共通通貨ユーロを導入している。
- ② EU はマーストリヒト条約の調印によって発足した。
- ③ 国民投票の結果を受けて、イギリスが離脱した。
- ④ シェンゲン協定によって人の移動が自由化された。

Ⅲ 次の文章はマヤ文明に関するものである。設問にしたがって解答せよ。

マヤ文明をはじめとするメソアメリカ(メキシコの大部分と中央アメリカ北部)と南米のアンデスというアメリカ大陸の二大文明は、旧大陸の「四大文明」(メソポタ

(1)

ミア、^(ウ)エジプト、^(エ)インダス、^(オ)黄河)と共に「世界六大文明」を構成した。マヤ文明は石器の都市文明であるが、鉄器を使わずに石器だけであれほど洗練された都市文明を築き上げたという点が非常に興味深い。

出典：青山和夫『マヤ文明—密林に栄えた石器文化』(なお、設問の都合上、原文を一部改変した箇所がある)

(1) 下線部(ア)に関連して、マヤ文明について述べた文として誤っているものを、次の①～④のうちから一つ選べ。

26

- ① ユカタン半島に巨大なピラミッド状の神殿が造営された。
- ② 独自の絵文字であるマヤ文字が用いられた。
- ③ 二十進法が用いられ、天文学や暦が発達した。
- ④ キープが用いられ、農耕が発達した。

(2) 下線部(イ)に関連して、メソポタミア文明について述べた文として誤っているものを、次の①～④のうちから一つ選べ。

27

- ① シュメール人がウル、ウルク、ラガシュ等の都市国家を建設した。
- ② ジググラトが建てられ、楔形文字が粘土板に記された。
- ③ 六十進法と太陽暦が用いられ、占星術が発達した。
- ④ 現存する世界最古の文学作品といわれる『ギルガメシュ叙事詩』が著された。

(3) 下線部(ウ)に関連して、エジプト文明について述べた文として誤っているものを、次の①～④のうちから一つ選べ。

28

- ① 神聖文字、神官文字、民用文字が用いられた。
- ② ヘロドトスが『歴史』で「エジプトはナイルのたまもの」と述べた。
- ③ 古王国の中心地はテーベ、中王国と新王国の中心地はメンフィスにあった。
- ④ 靈魂の不滅を信じ、ミイラや「死者の書」を作った。

(4) 下線部(エ)に関連して、インダス文明について述べた文として正しいものを、次の①～④のうちから一つ選べ。

29

- ① 現在も未解読のインダス文字が刻まれた印章が出土した。
- ② パンジャーブ地方にモエンジョ＝ダーロ等の遺跡がある。
- ③ ドラヴィダ系の人々がアーリア人の先住民を圧迫・征服した。
- ④ 最古のヒンドゥー教の聖典として『リグ＝ヴェーダ』が成立した。

(5) 下線部(オ)に関連して、中国文明について述べた文として正しいものを、次の①～④のうちから一つ選べ。

30

- ① 黄河中流域では彩文土器で知られる仰韶文化が繁栄した。
- ② 長江下流域では黒陶に代表される竜山文化が栄えた。
- ③ 渭水盆地の河姆渡遺跡では稲作の跡が見つかった。
- ④ 実在が確認される最古の王朝である殷では、封建制が取り入れられた。

IV 次の文章は中国に関するものである。設問にしたがって解答せよ。

隋の文帝(楊堅)が南北朝時代に終止符を打った。文帝は(ア)という官吏登用法を実施して皇帝権の強化をはかった。また均田制に基づく租調庸制で財政を確立し、^(イ)府兵制により軍事力を強化した。文帝が着手した大土木工事は煬帝(楊広)の時代に完成し、^(ウ)煬帝は周辺諸国への遠征を行った。しかし、煬帝の暴政は各地で農民や豪族の反乱をまねき、煬帝は臣下に殺害された。

混乱に乗じて隋を倒した高祖(李淵)によって唐が建国された。第二代皇帝である太宗(李世民)は中国を統一し、律令を整備して、^(エ)中央官制を確立した。^(オ)

(1) 空欄(ア)に当てはまる語句として正しいものを、次の①～④のうちから一つ選べ。

31

- ① 郡県制
- ② 九品中正
- ③ 科挙
- ④ 六論

(2) 下線部(イ)に関連して、均田制・府兵制について述べた文として正しいものを、次の①～④のうちから一つ選べ。

32

- ① 華北統一を成し遂げた太武帝が、戦乱で荒廃した農地の回復や農民の定着を目的に均田制を実施した。
- ② 隋の時代に、新たに奴婢や耕牛にも土地が支給されるという豪族優遇策を導入した。
- ③ 府兵制とは西魏に始まった兵制で、公有地を支給された自営農民の中から兵士を徴発する制度である。
- ④ 安史の乱以後、募兵制が初めて導入され府兵制が廃止された。

(3) 下線部(ウ)に関連して、隋の時代の出来事として誤っているものを、次の①～④のうちから一つ選べ。

33

- ① 大運河が開通して南北等の移動が容易になった。
- ② 煬帝は高句麗遠征に失敗した。
- ③ 倭の国が小野妹子らを遣隋使として派遣した。
- ④ 法顕がインドに赴き、帰国後仏典の漢訳を開始した。

(4) 下線部(エ)に関連して、太宗の時代の出来事として正しいものを、次の①～④のうちから一つ選べ。

34

- ① 玄奘がインドにおもむき、ヴァルダナ朝のハルシャ王と謁見した。
- ② タラス河畔の戦いで捕虜となった唐の製紙職人から、製紙法がイスラーム世界に伝わった。
- ③ 義浄が海路インドを訪れ、ナーランダー僧院で学んだ。
- ④ ゴロアスター教が中国に伝えられ、長安に大秦景教流行中国碑が建てられた。

(1) 空欄Xと空欄Yに入る名前の組み合わせとして正しいものを、次の①～④のうちから一つ選べ。

36

- ① X：呉三桂 Y：順治帝
- ② X：呉三桂 Y：雍正帝
- ③ X：李自成 Y：ヌルハチ
- ④ X：李自成 Y：康熙帝

(2) 下線部(ア)に関連して、康熙帝の時代に起こった内乱について述べた文として正しいものを、次の①～④のうちから一つ選べ。

37

- ① 台湾の鄭成功の一派を鎮圧し、台湾を直轄領にした。
- ② ジュンガルを滅ぼし、新疆として併合した。
- ③ 白蓮教徒の乱の鎮圧のため財政逼迫を招いた。
- ④ 太平天国の乱ののち、洋務運動が起こった。

(3) 下線部(イ)に関連して、ロシアと康熙帝が結んだ条約の説明として正しいものを、次の①～④のうちから一つ選べ。

38

- ① アイグン条約を結び、黒竜江以北をロシア領とした。
- ② キャフタ条約を結び、モンゴル・シベリアの国境を策定した。
- ③ ネルチンスク条約を結び、外興安嶺を国境とした。
- ④ 北京条約を結び、沿海州をロシアに割譲した。

(4) 下線部(ウ)に関連して、フェルビーストの事績として正しいものを、次の①～④のうちから一つ選べ。

39

- ① 『幾何原本』の翻訳に携わった。
- ② 「坤輿万国全図」を献上した。
- ③ 円明園を設計した。
- ④ 三藩の乱で大砲を鑄造した。

(5) 下線部(エ)に関連して、康熙帝の時代に起こったキリスト教徒への迫害について述べた文として正しいものを、次の①～④のうちから一つ選べ。

40

- ① 中国の習俗に従わない宣教師を追放した。
- ② イエズス会の布教のみを禁止した。
- ③ キリスト教徒に人头税を課した。
- ④ 扶清滅洋を唱える仇教運動が起こった。

Ⅵ 次の文章はムスタファ＝ケマルに関するものである。設問にしたがって解答せよ。

ムスタファ＝ケマルは1881年に下級官吏の子として生まれた。軍務に就いてまもなく反専制運動に身を投じ、1908年の革命の中核となる「統一と進歩委員会」の一員となった。しかし、革命後⁽⁷⁾は党の中枢部と対立して、軍務に専念することとなった。

1918年10月にオスマン帝国が降伏したのち、首都は連合軍に占領され、さらに19年5月にはギリシア軍がアナトリア内部に侵攻した。しかしムスタファ＝ケマルは、抵抗を続けるアナトリア各地の人々を統合、20年に(ウ)にトルコ大国民議会政府を樹立してセーヴル条約を否定し、22年9月にはついにギリシア軍をエーゲ海に追い落とすことに成功した。^(エ)

1922年、セーヴル条約に代わる新たな講和条約を結ぶべく、会議が開かれたが、その会議への招聘状がスルタン政府にも届いたことを契機として、ケマルは11月にスルタン制を廃止して、オスマン帝国を滅亡させ、さらに23年10月には共和制を宣言した。以後、ケマルは、大統領として数多くの改革を断行してトルコを「近代国家」に転生させるべく努力していった。「アタテュルク^(オ)(父なるトルコ人)」とは、のちに議会から授与された尊称である。

(1) 下線部(ア)に関連して、1908年の革命について述べた文として正しいものを、次の①～④のうちから一つ選べ。

41

- ① 知識人や将校が議会と憲法を復活させた。
- ② ミドハト＝パシャが憲法を制定、発布した。
- ③ タンジマートを実施した。
- ④ パン＝イスラーム主義を唱えるアフガーニーが主導した。

(2) 下線部(イ)に関連して、第一次世界大戦中の連合国の西アジア地域への対応について述べた文として正しいものを、次の①～④のうちから一つ選べ。

42

- ① サイクス・ピコ協定によって英仏露で分割されることになっていた。
- ② フセイン・マクマホン協定によりイスラエルの独立が認められることになっていた。
- ③ バルフォア宣言によりアラブ人が独立することになっていた。
- ④ ウィルソンの「十四カ条」の平和原則により正統主義に基づいた戦後処理が計画されていた。

(3) 空欄(ウ)に入る地名として正しいものを、次の①～④のうちから一つ選べ。

43

- ① イスタンブル
- ② イズミル(スミルナ)
- ③ アンカラ
- ④ アドリアノーブル

(4) 下線部(エ)に関連して、連合国とハンガリーが結んだ講和条約として正しいものを、次の①～④のうちから一つ選べ。

44

- ① ヌイイ条約
- ② トリアノン条約
- ③ サン＝ジェルマン条約
- ④ ローザンヌ条約

(5) 下線部(オ)に関連して、ムスタファ＝ケマルの改革について述べた文として誤っているものを、次の①～④のうちから一つ選べ。

45

- ① 政教分離の原則を確立した。
- ② ヒジュラ暦を廃し太陽暦を採用した。
- ③ 女性に参政権を与えた。
- ④ 文字改革を行ない、アラビア文字を採用した。

VII 次の(1)～(5)の記述について、各設問にしたがって解答せよ。

(1) 古代ギリシア「三大悲劇詩人」の人物として誤っているものを、次の①～④のうちから一つ選べ。

46

- ① エウリピデス
- ② アイスキュロス
- ③ ソフォクレス
- ④ ホメロス

(2) 中国の春秋戦国時代の思想家(諸子百家)として誤っているものを、次の①～④のうちから一つ選べ。

47

- ① 老子
- ② 朱子
- ③ 孔子
- ④ 墨子

(3) 『ゲルマニア』の著者として正しいものを、次の①～④のうちから一つ選べ。

48

- ① ウェルギリウス
- ② アウグスティヌス
- ③ タキトゥス
- ④ マルクス＝アウレリウス＝アントニヌス

(4) 『法の精神』の著者として正しいものを、次の①～④のうちから一つ選べ。

49

- ① ルソー
- ② ヴォルテール
- ③ モンテスキュー
- ④ ダランベール

(5) 『資本論』の著者として正しいものを、次の①～④のうちから一つ選べ。

50

① ヘーゲル

② マルクス

③ ケインズ

④ アダム＝スミス

2026年度 入学試験問題

一般入試前期
〔3教科型・2教科型〕

2月6日

第2限

地 歴 ・ 理 科

(日本史探究・世界史探究)

(生物基礎・化学基礎・物理基礎)

注意事項

- 1 試験開始の合図があるまで、この問題冊子を開いてはいけない。
- 2 科目、ページおよび解答番号は、下表のとおりである。
必ず出願時に申告した科目を解答すること。

科目	ページ	解答番号
日本史探究	日―1～日―16	1～50
世界史探究	世―1～世―23	1～50
生物基礎	生―1～生―18	1～34
化学基礎	化―1～化―12	1～35
物理基礎	物―1～物―5	1～36

- 3 解答用紙には、受験番号、受験科目および氏名を正しく記入・マークすること。
- 4 解答は解答用紙の解答欄にマークすること。
- 5 試験中にページの脱落等に気付いた場合は、手を挙げて監督者に知らせること。
解答用紙の汚れ等に気付いた場合も同様である。
- 6 問題冊子は試験終了後、持ち帰ること。

世界史探究

I 次の文章は、古代のギリシア・ヘレニズム世界について述べたものである。設問にしたがって解答せよ。

ギリシアでは、ミケーネ文明^(ア)が滅亡した後、しばらくの混乱期を経て前8世紀頃に各地にポリスが形成された。ポリスの中でも特に有力であったのがアテネとスパルタであった。アテネはイオニア人が建設したポリスであり、重装歩兵として軍事力の中核を形成する富裕な平民が勢力を伸ばし、前6世紀末に行なわれた改革^(イ)によって民主政の基礎が築かれた。スパルタはドーリア人が先住民を征服して建設したポリスであり、少数の市民が多数の先住民を隷属農民として支配していた。

前5世紀初め、イオニア植民市の反乱を発端として、アケメネス朝ペルシアとの間で3回に及ぶペルシア戦争が始まった。この戦争がギリシア側の勝利に終わると、主力であったアテネは、経済的および文化的にも繁栄し、ペリクレスのもとで絶頂期を迎えた^(ウ)。これに反発するスパルタは、ペロポネソス戦争でアテネを破ったが、スパルタの支配は長く続かず、ペルシアの干渉もあってギリシア世界は戦乱の中で衰退していった。

ギリシア北方で台頭したマケドニアのフィリッポス2世はカイロネイアの戦いに勝利してギリシア世界を制圧し、続くアレクサンドロス大王は、東方遠征を敢行して東地中海からインダス川流域にいたる大帝国を樹立した^(エ)。しかし、大王が没すると、後継者たちの間で争いが生じ、帝国は幾つかの国家に分裂した。

(1) 下線部(ア)に関連して、ミケーネ文明について述べた文として正しいものを、次の①～④のうちから一つ選べ。

1

- ① 線文字Aが使用されていた。
- ② エヴァンズの発掘によってその存在が明らかになった。
- ③ ミケーネの他に、ティリンスも代表的な中心地である。
- ④ 鉄製武器を用いた強力な軍事力を保持していた。

(2) 下線部(イ)に関連して、前6世紀末にアテネで行なわれた改革について述べた文として誤っているものを、次の①～④のうちから一つ選べ。

2

- ① 血縁に基づく4部族制を廃止し、地縁に基づく10部族制を導入した。
- ② この改革は、クレイステネスによって行なわれた。
- ③ 債務奴隷を禁止し、財産の額によって参政権を与えた。
- ④ 陶片追放(オストラキスモス)の制度によって、僭主の出現を防ごうとした。

(3) 下線部(ウ)に関連して、ペルシア戦争について述べた文として正しいものを、次の①～④のうちから一つ選べ。

3

- ① ギリシア軍が、プラタイアの戦いで勝利をおさめた。
- ② ギリシア軍は、ペイシストラトスの指揮のもと、サラミスの海戦でペルシア軍を破った。
- ③ ペルシア軍が、マラトンの戦いで勝利をおさめた。
- ④ スパルタはペルシア軍の再攻にそなえてデロス同盟を結成し、その盟主となった。

(4) 下線部(エ)に関連して、ペリクレス時代ともいわれるこの時期のアテネについて述べた文として正しいものを、次の①～④のうちから一つ選べ。

4

- ① 奴隷制度が廃止された。
- ② 選挙によって選ばれた議員が、最高機関の民会を構成した。
- ③ 女性には参政権が与えられなかった。
- ④ イオニア式建築のパルテノン神殿が再建された。

- (5) 下線部(オ)に関連して、アレクサンドロス大王の東方遠征について述べた a・b の文の正誤の組み合わせとして正しいものを、下の①～④のうちから一つ選べ。

5

- a. イッソスの戦いでアケメネス朝のダレイオス 3 世を破った。
b. 遠征後はペルシア人を重用し、コイナーと呼ばれたペルシア語を共通語とした。

- ① a - 正 b - 正 ② a - 正 b - 誤
③ a - 誤 b - 正 ④ a - 誤 b - 誤

- II 次の文章は 17 世紀から 19 世紀のイギリス、フランスに関するものである。設問にしたがって解答せよ。

17 世紀に革命を経験したイギリスは、18 世紀には商工業が発展して国内市場が拡大した。また、重商主義政策によって広大な海外市場も得た。これらの市場や国内の豊富な資源は世界史上初の産業革命の前提となった。

^(ア)イギリスとの植民地戦争に敗れたフランスでは、財政が行き詰っていた。1789^(イ)年、フランス革命が始まると国民議会は人権宣言を採択した。1791 年には初の憲法が制定され、新たに立法議会が成立した。その後、1792 年に国民公会^(ウ)が招集され、翌年には国王を処刑するにいたった。これに対し、イギリス首相^(エ)は革命の波及を恐れて第 1 回対仏大同盟を結成した。

1799 年フランスでは、ナポレオン=ボナパルト^(オ)が統領政府を立て独裁権を握った。1802 年にはイギリスと講和を結び、1804 年に国民投票により皇帝に即位し、ナポレオン 1 世を名乗った。

(1) 下線部(ア)に関連して、イギリスの産業革命について述べた文として正しいものを、次の①～④のうちから一つ選べ。

6

- ① 18世紀後半にワットが蒸気機関の改良に成功した。
- ② 18世紀後半には子どもの労働条件改善のため、工場法が制定された。
- ③ 多くの手工業職人が失業したため、国立作業場が設置された。
- ④ 18世紀後半にクロンプトンが力織機を発明した。

(2) 下線部(イ)に関連して、フランスとイギリスのフレンチ＝インディアン戦争と連動して行なわれたヨーロッパにおける戦争として正しいものを、次の①～④のうちから一つ選べ。

7

- ① 七年戦争
- ② オーストリア継承戦争
- ③ ファルツ継承戦争
- ④ スペイン継承戦争

(3) 下線部(ウ)に関連して、国民公会に関して述べた文として正しいものを、次の①～④のうちから一つ選べ。

8

- ① バブーフが私有財産の廃止を主張して、政府を打倒しようとした。
- ② 当初優勢であったジロンド派は国王の処刑を主張し、ロバスピエールと対立した。
- ③ 初の男性普通選挙が実施されて成立した議会である。
- ④ 王政や封建制を廃止し、経済における自由競争を推進した。

(4) 下線部(エ)に関連して、この時の首相として正しい人物名を、次の①～④のうちから一つ選べ。

9

- ① ディズレーリ
- ② ピット
- ③ カニング
- ④ ウォルポール

(5) 下線部(オ)に関連して、ナポレオンの治績に関する内容として正しいものを、次の①～④のうちから一つ選べ。

10

- ① 中央銀行としての役割を担うフランス銀行を設立した。
- ② ハイチの独立運動を支持し、世界初の黒人共和国の成立に寄与した。
- ③ イギリス侵攻を目指してトラファルガーで戦い、勝利した。
- ④ ライツヒの戦いに勝利し、ヨーロッパの支配を強めた。

Ⅲ 次の資料は第一次世界大戦に関するものである。設問にしたがって解答せよ。

資料①：イギリス外相のロスチャイルド卿宛の書簡

私は国王陛下の政府を代表いたしまして、ユダヤ人シオニスト諸氏の大望に共感を示す以下の宣言を、閣議の同意を得て貴下にお伝えすることができて非常に悦ばしく思っております。

「国王陛下の政府はパレスチナにおいてユダヤ人のための民族的郷土を設立することを好ましいと考えており、この目的の達成を円滑にするために最善の努力を行うつもりです。また、パレスチナに現存する非ユダヤ人諸コミュニティの市民および信仰者としての諸権利、ならびに他のあらゆる国でユダヤ人が享受している諸権利および政治的地位が侵害されることは決してなされることはない」と明確に理解されています。」

貴下がこの宣言をシオニスト連盟にお知らせいただけましたならば光栄に存じます。

資料②：イタリアは、フランス、イギリス、ロシアとともに、そのすべての敵に対する共同の戦争を遂行するためのあらゆるものの動員を約束する。…講和条約において、イタリアは、トレンティーノおよび南チロル…を獲得する。…イタリアは同様に、ダルマチア地方を…獲得する。

資料③：アメリカ大統領による発表

一、平和の盟約が公開のうちに合意された後は、外交はつねに正直に、公衆の見守る中で進められねばならず、いかなる私的な国際的了解事項もあつてはならない。…
五、すべての植民地に関する要求は、自由かつ偏見なしに、そして厳格な公正さをもって調整されねばならない。主権をめぐるあらゆる問題を決定する際には、対象となる人民の利害が、主権の決定をうけることになる政府の公正な要求と平等の重みをもつという原則を厳格に守らねばならない。…
一四、大国と小国とを問わず、政治的独立と領土的保全とを相互に保障することを目的とした明確な規約のもとに、国家の一般的な連合が樹立されねばならない。

資料④：10月24-25日〔西暦11月6-7日〕の革命によって作りだされ、労働者・兵士・農民代表ソヴェト(ソヴィエトのこと)に立脚する労農政府は、すべての交戦諸民族とその政府に対して、公正で民主的な講和についての交渉を即時に開始することを提議する。公正な、または民主的な講和は、戦争で疲れはて苦しみにぬれているすべての交戦諸国の労働者階級と勤労者階級の圧倒的多数が待ちのぞんでいるものであり、ツァーリ君主制の打倒後にロシアの労働者と農民がもっともきっぱりと根気よく要求してきたものであるが、政府がこのような講和とみなしているのは、無併合(すなわち、他国の土地を略奪することも他の諸国民を強制的に統合することもない)、無賠償の即時の講和である。

出典：『世界史史料 10 20世紀の世界 I』(なお、設問の都合上、原文を一部改変した箇所がある)

(1) 下線部(ア)に関連して、この人物として正しいものを、次の①～④のうちから一つ選べ。

11

① バルフォア

② ロイド＝ジョージ

③ ネヴィル＝チェンバレン

④ ジョゼフ＝チェンバレン

(2) 下線部(イ)に関連して、ユダヤ人たちが下線部のようにパレスチナへの国家建設を目指すきっかけとなった19世紀フランスにおける事件として正しいものを、次の①～④のうちから一つ選べ。

12

- ① ファショダ事件
- ② アガディール事件
- ③ ドレフェス事件
- ④ ブーランジェ事件

(3) 下線部(ウ)に関連して、イスラエルについて述べた文として正しいものを、次の①～④のうちから一つ選べ。

13

- ① 第2次中東戦争でイギリスやフランスの侵攻を受けた。
- ② 第3次中東戦争でゴラン高原やガザ地区を失った。
- ③ 第4次中東戦争後にシナイ半島をエジプトに返還した。
- ④ インティファダと呼ばれる空爆をパレスチナ各地で行なった。

(4) 下線部(エ)に関連して、フランスの植民地として正しいものを、次の①～④のうちから一つ選べ。

14

- ① リビア
- ② ケニア
- ③ リベリア
- ④ マダガスカル

(5) 下線部(オ)に関連して、資料③を発表したアメリカ大統領として正しいものを、次の①～④のうちから一つ選べ。

15

- ① セオドア＝ローズヴェルト
- ② ウィルソン
- ③ ハーディング
- ④ フーヴァー

(6) 下線部(カ)に関連して、欧米や日本の植民地における抵抗について述べた文として正しいものを、次の①～④のうちから一つ選べ。

16

- ① エジプトではワフド党が反英闘争を展開した。
- ② ベトナムではアギナルドやホセ＝リサルがフランスに抵抗した。
- ③ アメリカの支配するジャワ島ではジャワ戦争が起きた。
- ④ 朝鮮では甲申政変で金玉均が日本の排除を試みた。

(7) 下線部(キ)に関連して、資料③に基づき第一次世界大戦後に独立した国として誤っているものを、次の①～④のうちから一つ選べ。

17

- ① ハンガリー
- ② ポーランド
- ③ ラトヴィア
- ④ ブルガリア

(8) 下線部(ク)に関連して、資料③に基づき成立した国際連盟について以下のA・Bの問いに答えよ。

A 国際連盟について述べた文として正しいものを、次の①～④のうちから一つ選べ。

18

- ① 成立当初、英仏日ソの4か国が常任理事国となった。
- ② アメリカは上院の反対により加盟しなかった。
- ③ 紛争を引き起こす国家に軍事制裁を行なった。
- ④ 日本はイタリア脱退後に連盟を脱退した。

B イギリスが国際連盟からの委任統治で支配した地域として正しいものを、次の①～④のうちから一つ選べ。

19

- ① シリア
- ② レバノン
- ③ イズミル
- ④ イラク

(9) 下線部(ケ)に関連して、この革命や革命を主導した勢力について述べた文として正しいものを、次の①～④のうちから一つ選べ。

20

- ① メンシェヴィキのプレハーノフの臨時政府を打倒した。
- ② スターリンが世界革命論を唱え、コミンテルンを組織した。
- ③ 戦時共産主義をとり、余剰作物の販売や私企業を認めた。
- ④ チェカや赤軍を組織し反革命勢力と対立した。

(10) 下線部(コ)に関連して、第一次世界大戦終結前後の社会主義勢力や労働運動について述べた文として正しいものを、次の①～④のうちから一つ選べ。 21

- ① 中国で陳独秀を指導者として共産党が成立した。
- ② ドイツではスバルタクス団がエーベルト大統領に協力した。
- ③ チェコスロヴァキアでは社会主義政権が成立した。
- ④ スペインではブルムの人民戦線内閣が成立した。

(11) 下線部(サ)に関連して、資料④が言及するロシアが第一次世界大戦中に敗北した戦いとして正しいものを、次の①～④のうちから一つ選べ。 22

- ① マルヌの戦い
- ② ヴェルダンの戦い
- ③ タンネンベルクの戦い
- ④ ソンムの戦い

(12) 下線部(シ)に関連して、下線部の打倒されたツァーリとして正しいものを、次の①～④のうちから一つ選べ。 23

- ① ニコライ 1 世
- ② ニコライ 2 世
- ③ アレクサンドル 1 世
- ④ アレクサンドル 2 世

(13) 下線部(ス)に関連して、資料④を出した政府が結んだ講和として正しいものを、次の①～④のうちから一つ選べ。 24

- ① ブレスト＝リトフスク条約
- ② ヌイイ条約
- ③ トリアノン条約
- ④ サン＝ジェルマン条約

(14) 上記の資料①～資料④について述べた文として正しいものを、①～④のうちから一つ選べ。 25

- ① 資料①の文書が出された後、サイクス・ピコ協定が結ばれた。
- ② 資料②の後、イタリアは三国同盟側についた。
- ③ 資料③の原則はパリ講和会議で基本原則とされた。
- ④ 資料④の下線部(ス)のような形の講和は多くの参戦国に受け入れられた。

IV 次の文章は古代エジプトに関するものである。設問にしたがって解答せよ。

エジプト人は二度にわたって宗教を替え、言葉を一度替えた。古代エジプト^(ア)の宗教は紀元後2, 3世紀のキリスト教^(イ)の進出で、その数百年後に死に絶えた。キリスト教はヘレニズム世界の共通語と共にエジプトに入ってきたが、アレクサンドリア^(ウ)など大都市をのぞいてギリシア語が一般の人々に影響を与えた形跡はない。象形文字やその簡便化された文字で書かれてきたエジプト語は、はるかに簡単で文字の数も少ないギリシア文字で書かれるコプト語に替わった。…

しかし7世紀、イスラーム教^(エ)の怒濤のような大拡張期になると、全エジプトが比較的短い時間にイスラーム化された。この改宗運動はキリスト教の時よりも徹底したもので、わずかなコプト教徒を残したものの、エジプト人の大部分がイスラーム教徒となり、言葉はアラビア語^(オ)に取って代わられた。

出典：笈川博一『古代エジプト 失われた世界の解説』（なお、設問の都合上、原文を一部改変した箇所がある）

(1) 下線部(ア)に関連して、古代エジプトについて述べた文として正しいものを、次の①～④のうちから一つ選べ。

26

- ① ファラオは太陽神アメン(アモン)の代理人とされ、古代エジプト王の称号となった。
- ② メンフィスを中心に栄えた古王国にヒクソスが侵入し、馬や戦車をもたらした。
- ③ ネフェルティティの像は、中王国時代のアマルナ美術の代表作である。
- ④ 古代エジプトではヒエログリフ(神聖文字)と称される象形文字が使用された。

- (2) 下線部(イ)に関連して、4世紀に実施されたキリスト教の布教と教義の確立について述べた文として誤っているものを、次の①～④のうちから一つ選べ。

27

- ① ニケーア公会議でアタナシウス派が正統とされ、アリウス派が異端とされた。
- ② テオドシウス帝がキリスト教を国教とする勅令を出し、異教の信仰を禁じた。
- ③ エフェソス公会議で異端とされたネストリウス派は拝火教として唐に伝えられた。
- ④ 『教会史』を著したエウセビオスが、皇帝位は神の恩寵によって与えられるとした。

- (3) 下線部(ウ)に関連して、アレクサンドリアに建設されたムセイオンで研究に従事した人物について述べた文として正しいものを、次の①～④のうちから一つ選べ。

28

- ① エラトステネスが地球の周囲の長さを測定した。
- ② アリスタルコスが浮力や艇(てこ)の原理を発見した。
- ③ アルキメデスが平面幾何学(ユークリッド幾何学)を大成した。
- ④ プトレマイオスが地球球体説・地動説を唱えた。

- (4) 下線部(エ)に関連して、イスラーム教について述べた文として正しいものを、次の①～④のうちから一つ選べ。

29

- ① 6世紀にムハンマドが創始し、メディナのカーバ神殿を聖殿とした。
- ② イスラーム暦はムハンマドがメディナからメッカへ移住した622年を紀元としている。
- ③ イスラーム法は『クルアーン(コーラン)』とハディースに基づき、六信五行を定めている。
- ④ ユダヤ教徒やキリスト教徒は「啓典の民」として、ジズヤの支払いが免除された。

(5) 下線部(オ)に関連して、アラビア語について述べた文として正しいものを、次の

①～④のうちから一つ選べ。

30

- ① イスラーム世界では錬金術がさかんで、「アルカリ」「アルコール」等はアラビア語が起源である。
- ② アフリカ東海岸ではアラビア語と現地の言葉が混交してウルドゥー語が成立した。
- ③ アラビア文字で書かれたベヒストゥーン碑文をローリンソンが解読した。
- ④ アラビア語はムガル帝国の公用語であった。

V 次の文章は永楽帝に関するものである。設問にしたがって解答せよ。

永楽帝の推進した積極的な対外政策のなかで、ひときわ異彩を放っているのが、^(ア)宦官鄭和を総司令官とする南海遠征である。スケールの大きさからして、まさに空前絶後のこの遠征は、永楽3年(1405)を皮切りに、宣徳8年(1433)までの29年間に7度行われた。…

彼らは東南アジア諸国を何度も歴訪したばかりか、回を重ねるごとに距離を延ばし、^(イ)インド洋・ペルシア湾・紅海の沿岸諸国を訪ね、のちにはアフリカ東海岸にまで達する大航海を行なった。…

太祖の始めた海禁=朝貢システムのもと、自由な民間交易は、永楽時代もいっさい^(ウ)禁止された。こうした状況下で、明側の必要物資を安定的に調達するには、唯一の方途の朝貢貿易を促進するしかない。特に明朝の支配層の生活が奢侈に流れ、海外の珍奇な品への需要が増すと、海外貿易への期待がしだいに高まった。鄭和の遠征は、そんな国内事情を背景に、朝貢貿易の昂進を目指してなされた、対外的なデ^(エ)モンストレーションだったというわけだ。

出典：檀上寛『永楽帝 華夷秩序の完成』(なお、設問の都合上、原文を一部改変した箇所がある)

(1) 下線部(ア)に関連して、永楽帝について述べた文として正しいものを、次の

①～④のうちから一つ選べ。

31

- ① 靖康の変に勝利して帝位についた。
- ② 国政の最高機関として軍機処を設置した。
- ③ 南京に遷都し、長城や大運河を整備した。
- ④ 『四書大全』『五経大全』等の大編纂事業を行なった。

(2) 下線部(イ)に関連して、以下の設問A・Bに答えよ。

A 鄭和の遠征拠点となったマラッカについて述べた文として誤っているものを、次の①～④のうちから一つ選べ。

32

- ① マレー半島南西岸の港市で、マラッカ海峡に面したマラッカ王国の中心である。
- ② 対明貿易で繁栄し、明への朝貢貿易を維持する一方、マラッカ国王はイスラームに改宗した。
- ③ 16世紀にオランダ、17世紀にポルトガルに占領された。
- ④ 19世紀にペナン、シンガポールと共にイギリスの海峡植民地となった。

B 鄭和の艦隊が訪れたジャワ島東部を中心とするヒンドゥー教の国家の名称として正しいものを、次の①～④のうちから一つ選べ。

33

- ① アユタヤ朝
- ② マジャパヒト王国
- ③ ヴィジャヤナガル王国
- ④ マイソール王国

(3) 下線部(ウ)に関連して、太祖(朱元璋, 洪武帝)について述べた文として正しいものを、次の①~④のうちから一つ選べ。

34

- ① 黄巾の乱に参加して頭角をあらわし、後に帝位についた。
- ② 六部を廃止して、中書省を皇帝直属とした。
- ③ 戸籍・租税台帳として魚鱗図冊を作成した。
- ④ 民衆教化のための六諭を発布した。

(4) 下線部(エ)に関連して、明代の国内事情や文化について述べた文として正しいものを、次の①~④のうちから一つ選べ。

35

- ① 占城稻が栽培されるようになり、「蘇湖(江浙)熟すれば天下足る」といわれた。
- ② 形勢戸が勢力を伸ばし、当時の経済的繁栄が「清明上河図」に描かれた。
- ③ 郭守敬が授時暦を改良し、貞享暦を作成した。
- ④ 王守仁(王陽明)が心即理・知行合一を説く陽明学を確立した。

VI 次の文章はベトナムに関するものである。設問にしたがって解答せよ。

15世紀になると、ベトナムは一時、明の支配下におかれたが、1428年、(ア)が明軍を退けて独立を回復した。その後、紆余曲折を経て、19世紀の初めに阮朝がベトナムを統一するも、19世紀中頃になると、ベトナムは、ナポレオン3世の軍事介入を招き、コーチシナ東部がフランスの支配下に入った。フランスの侵略活動に直面したベトナムは、阮朝に協力する(エ)により組織された黒旗軍の支援を受けて抵抗するが、1880年代にはフランスの保護国とされた。その直後、阮朝の宗主権を主張する清朝とフランスとの間で清仏戦争が起き、フランスはこの戦争に勝利して阮朝に対する清朝の宗主権を放棄させた。そして、1887年には、フランスはインドシナ連邦を成立させた。

(オ)

(5) 下線部(オ)に関連して、フランス支配下のベトナムにおける動向として正しいものを、次の①～④のうちから一つ選べ。

40

- ① ファン＝ポイ＝チャウが反仏秘密結社のベトナム光復会を設立して活動した。
- ② ホー＝チ＝ミンが、南ベトナム解放民族戦線を組織して独立運動をすすめた。
- ③ フランス領インドシナ連邦の総督府はディエンビエンフーに置かれた。
- ④ フランスとベトナムは1954年に休戦協定を結び、北緯38度線を暫定的な軍事境界線とした。

VII 次のA～Eの各文章は、ユネスコ世界遺産に登録されている文化遺産について述べたものである。設問にしたがって解答せよ。

A 1983年に世界遺産に登録されたインドのタージ＝マハルは、ムガル帝国^(ア)第5代皇帝シャー＝ジャハーンの妃ムムターズ＝マハルの墓廟であり、総大理石の白亜の廟はインド＝イスラーム文化の代表的な建築物である。

B 1984年に世界遺産に登録されたニューヨークのリバティ島にある自由の女神像(正式名称は「世界を照らす自由」)は、独立100周年を記念してアメリカ独立戦争^(イ)を支援したフランスから贈られたもので、アメリカの自由と民主主義の象徴となっている。

C 1978年に世界遺産に登録されたアーヘン大聖堂は、ドイツ西部の都市アーヘン^(ウ)に建つ大聖堂で、カール大帝によって建設された。この地はカロリング＝ルネサンスの中心地となり、大聖堂では歴代のドイツ王(神聖ローマ皇帝)の戴冠式が行なわれた。

D 1991年に世界遺産に登録されたインドネシアの(エ)島にあるボロブドゥール寺院遺跡群は、8～9世紀にかけて栄えた(オ)によって造営された大乘仏教の石造遺跡群であり、カンボジアのアンコール=ワット、ミャンマーのバガンと並んで世界三大仏教遺跡の1つといわれる。

E 2001年に世界遺産に登録された中国の雲崗石窟には、北魏時代に造られた複数の石窟寺院が遺されている。太武帝の廃仏の後、仏教は復興され、孝文帝による494年の遷都までの間、建造が行なわれた。ガンダーラ美術・グプタ様式美術の影響も見られて貴重である。

(1) 下線部(ア)に関連して、ムガル帝国について述べた文として正しいものを、次の①～④のうちから一つ選べ。 41

- ① アウラングゼーブは人頭税を復活させ、ヒンドゥー教徒の反発をまねいた。
- ② アクバルの時代に最大の領土となったが、支配の弱体化もすすんだ。
- ③ ティムールがパーニーパットの戦いに勝利し、帝国の基礎を築いた。
- ④ バーブルはオスマン軍を破り、バヤジット1世を捕虜とした。

(2) 下線部(イ)に関連して、アメリカ独立戦争について述べた文として誤っているものを、次の①～④のうちから一つ選べ。 42

- ① 本国イギリスが制定した航海法に対して、13植民地は「代表なくして課税なし」と主張した。
- ② トマス=ジェファソンらは、圧政への抵抗権を主張したロックらの思想を参考にして、独立宣言を起草した。
- ③ トマス=ペインは、独立戦争中に出版した『コモン=センス』で、独立を「常識」として支持した。
- ④ ポーランドのコシューシコ(コシチューシコ)が独立戦争に参加した。

(3) 下線部(ウ)に関連して、アーヘンにあったカール大帝の宮廷に招かれたイングランド出身の神学者として正しいものを、次の①～④のうちから一つ選べ。

43

- ① ロジャー＝ベーコン ② アンセルムス
③ アルクイン ④ トマス＝アキナス

(4) 空欄(エ)(オ)に当てはまる語句の組み合わせとして正しいものを、次の①～④のうちから一つ選べ。

44

- ① (エ)＝スマトラ (オ)＝シュリーヴィジャヤ王国
② (エ)＝スマトラ (オ)＝シャイレンドラ朝
③ (エ)＝ジャワ (オ)＝シュリーヴィジャヤ王国
④ (エ)＝ジャワ (オ)＝シャイレンドラ朝

(5) 下線部(カ)に関連して、孝文帝の事績について述べた文として誤っているものを、次の①～④のうちから一つ選べ。

45

- ① 九品中正を廃止して科挙による官吏登用法を始めた。
② 中華文明の制度や風俗を積極的に取り入れる漢化政策を行なった。
③ 均田制・三長制を施行し、土地制度・村落制度を整備した。
④ 北魏の都を平城から洛陽に遷都した。

VIII 次の写真や絵画、図版について、設問にしたがって解答せよ。

- (1) A～Dについて、17世紀にダライ=ラマ5世が建造した仏教施設とその名称の組み合わせとして正しいものを、次の①～④のうちから一つ選べ。 46

A

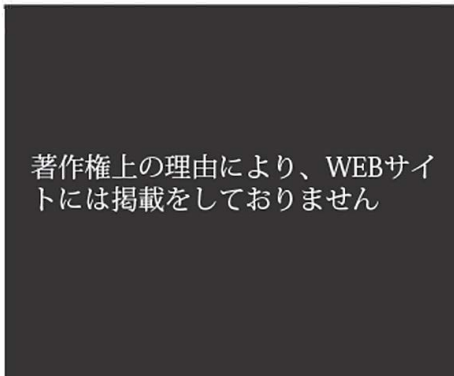


写真 慶州の仏国寺

B



C

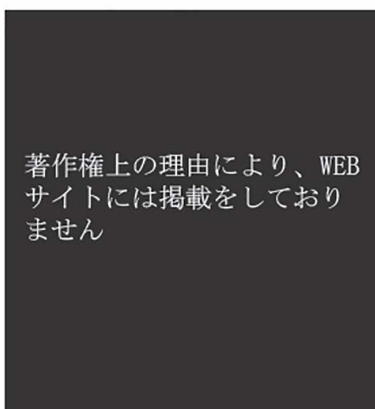



写真 敦煌莫高窟

D

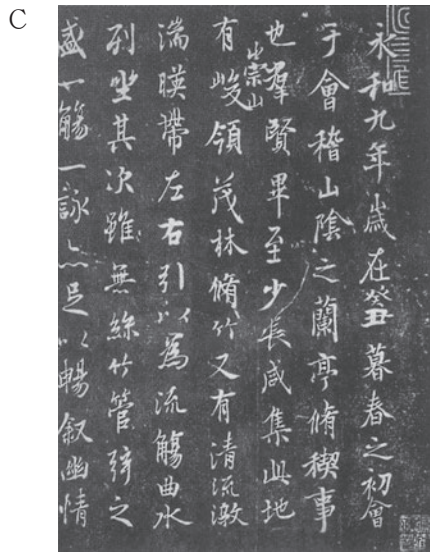
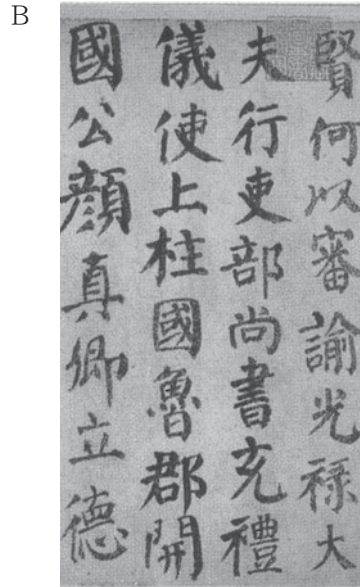


サイネットフォト

- ① A／敦煌莫高窟(千仏洞) ② B／敦煌莫高窟(千仏洞)
③ C／ポタラ宮殿 ④ D／ポタラ宮殿

- (2) A～Dについて、大胆で力強い書風が後世に大きな影響を与えた唐中期(8世紀)の書家の作品と、その書家が義勇軍を率いて抵抗した反乱の名称の組み合わせとして正しいものを、次の①～④のうちから一つ選べ。

47



- ① A／黄巢の乱
 ② B／安史の乱
 ③ C／八王の乱
 ④ D／呉楚七国の乱

(3) A～Dに描かれたフランスが関係する出来事を古い年代順に並べた時、3番目にくるものを次の①～④のうちから一つ選べ。

48

A



B



C



D



① A

② B

③ C

④ D

(4) A～Dの写真とポスターは20世紀前半の同じ年に撮影・作成されたものである。その撮影・作成年として正しいものを、次の①～④のうちから一つ選べ。

49

A：三・一独立運動
(朝鮮)



B：アムリットサール虐殺事件
(インド)



C：五・四運動
(中国)



D：女性参政権を求めるポスター
(アメリカ)



サイネットフォト

① 1904年

② 1911年

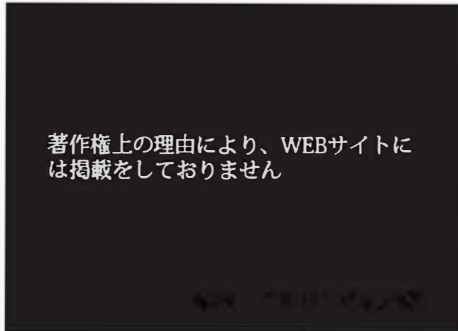
③ 1919年

④ 1929年

(5) A～Dの和解に関する写真を古い年代順に並べた時、3番目にくるものを次の①～④のうちから一つ選べ。

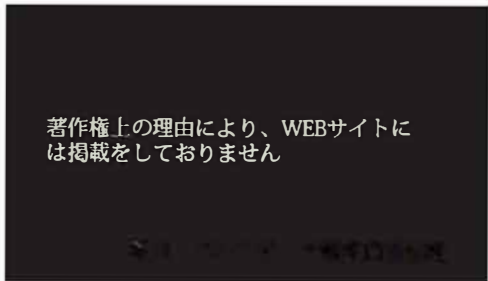
50

A



写真ベルリンの壁開放

B



写真パレスティナ暫定自治協定

C



サイネットフォト

D



AFP=時事

① A

② B

③ C

④ D

2026年度 一般入試 前期

(2月 2日)

問題訂正

世界史探究

世—13ページ V (2) 問題文の1行目

(誤)・・・事績としてとして正しいものを・・・

(正)・・・事績として正しいものを・・・

2026年度 一般入試 前期

(2月 4日)

問題訂正

世界史探究

世—22ページ IX(3) 選択肢②

(誤) ② 19世紀にダンジマートと…

(正) ② 19世紀にタンジマートと…

2026年度 一般入試 前期

(2月 5日)

問題訂正

世界史探究

世—12ページ Ⅲ (5) 選択肢②

(誤) ② 長江下流域では黒陶に…

(正) ② 長江下流域を中心に黒陶に…