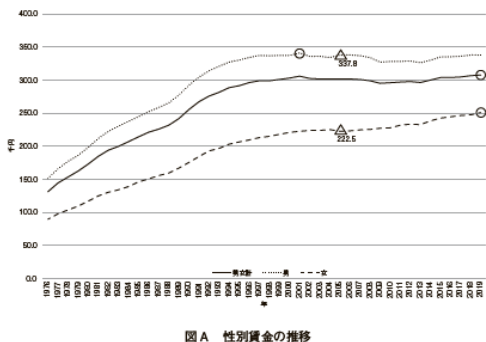


入試問題集 2027(活動実績入試、学科・専攻適性入試、公募制推薦入試)の p37、ビジネス学科 学科・専攻適性入試において注釈の記載が漏れておりました。正しくは以下のとおりとなります。

(誤)

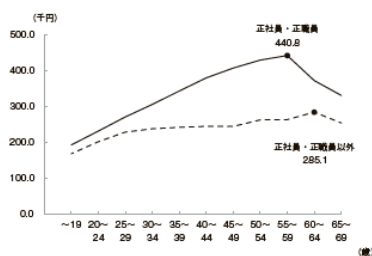
問2 図Aは性別賃金の推移を、図Bは男性の雇用形態、年齢階級別賃金を、図Cは女性の雇用形態、年齢階級別賃金を表したものである。図Aと図Bと図Cを参照して、(1)・(2)・(3)の問題に解答しなさい。解答はすべて解答用紙に記入すること。



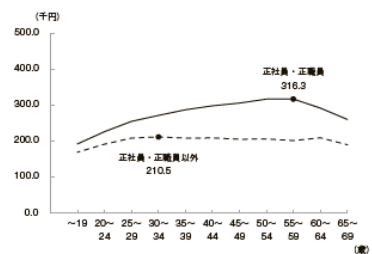
図A 性別賃金の推移

注：線上の○印は2019年以前における賃金のピークを示す。線上の△印の右下の数値は2005年の賃金である。2018年以前は、調査対象産業「宿泊業、飲食サービス業」のうち「バー、キャバレー、ナイトクラブ」を除外している。

【出典】「令和6年賃金構造基本統計調査」(厚生労働省)  
<https://www.mhlw.go.jp/toukei/itiran/roudou/chingin/kouzou/z2024/index.html> の統計表の付表1を加工して作成



図B 2023年の男性の雇用形態、年齢階級別賃金

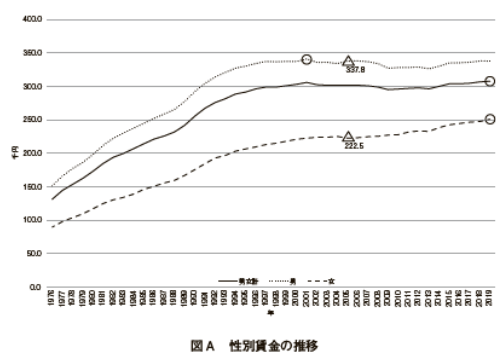


図C 2023年の女性の雇用形態、年齢階級別賃金

【出典】「令和5年賃金構造基本統計調査」(厚生労働省)  
<https://www.mhlw.go.jp/toukei/itiran/roudou/chingin/kouzou/z2023/index.html> の第6図を加工して作成

(正)

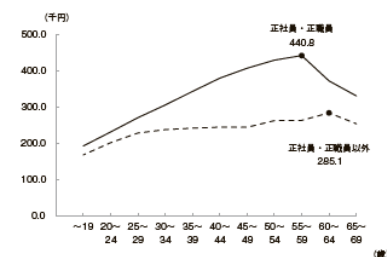
問2 図Aは性別賃金の推移を、図Bは男性の雇用形態、年齢階級別賃金を、図Cは女性の雇用形態、年齢階級別賃金を表したものである。図Aと図Bと図Cを参照して、(1)・(2)・(3)の問題に解答しなさい。解答はすべて解答用紙に記入すること。



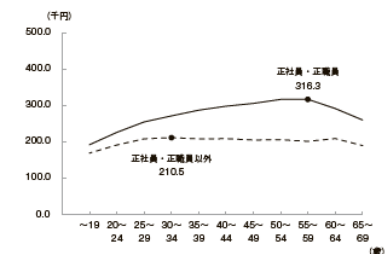
図A 性別賃金の推移

注：線上の○印は2019年以前における賃金のピークを示す。線上の△印の右下の数値は2005年の賃金である。2018年以前は、調査対象産業「宿泊業、飲食サービス業」のうち「バー、キャバレー、ナイトクラブ」を除外している。

【出典】「令和6年賃金構造基本統計調査」(厚生労働省)  
<https://www.mhlw.go.jp/toukei/itiran/roudou/chingin/kouzou/z2024/index.html> の統計表の付表1を加工して作成



図B 2023年の男性の雇用形態、年齢階級別賃金



図C 2023年の女性の雇用形態、年齢階級別賃金

注：図Bおよび図Cの線上の●印は賃金のピークを示す。

【出典】「令和5年賃金構造基本統計調査」(厚生労働省)  
<https://www.mhlw.go.jp/toukei/itiran/roudou/chingin/kouzou/z2023/index.html> の第6図を加工して作成